







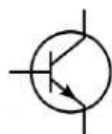
kelas/no.absen/nama:

PRAKARYA

Lengkapilah tabel berikut!

*untuk simbol isi dengan angka pada simbol-simbol di bawah tabel yang sesuai dengan komponen yang dimaksud!

	Nama Komponen	Simbol	Fungsi
			
			
			
			
			
			



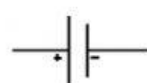
1



2



3



4



5



6



7



8

kelas/no.absen/nama:

PRAKARYA


Jawablah pertanyaan berikut dengan jelas!



Bagaimana cara menentukan anoda dan katoda komponen disamping?



Apa bahan yang digunakan untuk membuat komponen disamping?



Bagaimana cara kerja komponen disamping?



Apa nama 3 kaki penyambung komponen disamping?

Tentukan nilai resistor-resistor berikut!

