

Віднімання з переходом через десяток

Розв'яжи приклади і розшифруй слова.

11 4 12 14 5 6 15 8 9 10

Н І С О К А Т Л М Р

$8 + 4 = \square$



$13 - 8 = \square$



$11 - 2 = \square$



$11 - 7 = \square$



$6 + 8 = \square$



$13 - 9 = \square$



$5 + 6 = \square$



$7 + 5 = \square$



$8 + 3 = \square$



$9 + 5 = \square$



$12 - 6 = \square$



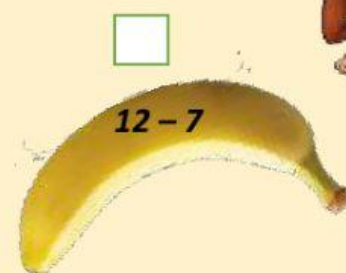
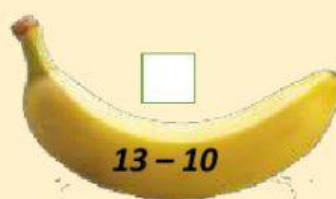
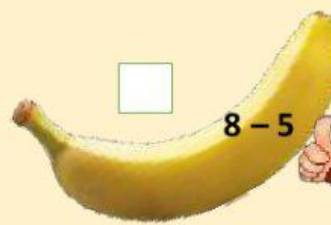
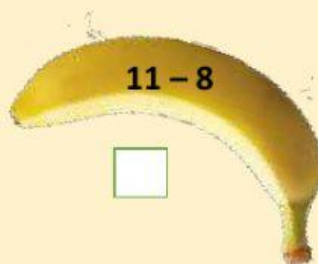

$11 - 5 = \square$



Виконай віднімання, заповни порожні клітинки.

13 -	1	2	3	4	5	6	7	8	9	10

Допоможи мавпочці. Познач банани з відповіддю 3.



Оціни свої уміння:



У мене все вийшло!



Виникали труднощі



Потрібно ще тренуватися