




Môn: Toán

Phép cộng trong phạm vi 6


Câu 1: Điền số thích hợp vào ô trống.

 $\square + \square = \square$

 $\square + \square = \square$

 $\square + \square = \square$

Câu 2: Viết phép tính thích hợp với tranh vẽ.

 $\square \bigcirc \square = \square$

 $\square \bigcirc \square = \square$