

LKPD (LEMBAR KERJA PESERTA DIDIK)



**KELAS 3
TEMA 3
SUBTEMA 3
PEMBELAJARAN 1**

NAMA

SDN 01 SAMBIREJO



Kompetensi dasar & indikator

Bahasa Indonesia:

3.1. Menggali informasi tentang konsep perubahan wujud benda dalam kehidupan sehari-hari yang disajikan dalam bentuk lisan, tulis, visual, dan/atau eksplorasi lingkungan.

4.1 Menyajikan hasil informasi tentang konsep perubahan wujud benda dalam kehidupan sehari-hari dalam bentuk lisan, tulis, dan visual menggunakan kosa kata baku dan kalimat efektif.

Indikator

3.1.1 Mengidentifikasi informasi yang terkait dengan perubahan wujud mencair.

4.1.1 Menunjukkan hasil percobaan perubahan wujud mencair

Matematika

3.7 Mendeskripsikan dan menentukan hubungan antar satuan baku untuk panjang, berat dan waktu yang umumnya digunakan dalam kehidupan sehari - hari

4.7 Menyelesaikan masalah yang berkaitan dengan hubungan antar satuan baku untuk panjang, berat, dan waktu yang umumnya digunakan dalam kehidupan sehari - hari

Indikator


3.7.1 Mengidentifikasi satuan baku yang digunakan.

4.7.1 Mengatasi soal-soal yang berkaitan dengan satuan berat.



Tujuan Pembelajaran

1. Dengan membaca wacana tentang perubahan wujud benda mencair, siswa dapat mengidentifikasi informasi yang terkait dengan perubahan wujud mencair dengan tepat.
2. Dengan melakukan percobaan, siswa dapat menunjukkan hasil percobaan perubahan wujud mencair dalam bentuk tulisan/laporan.
3. Dengan mengamati bungkus cokelat/margarin, siswa dapat mengidentifikasi satuan berat baku yang digunakan dengan tepat.
4. Dengan berlatih mengerjakan soal latihan, siswa dapat mengatasi soal-soal yang berkaitan dengan satuan berat dengan tepat.



Kegiatan 1

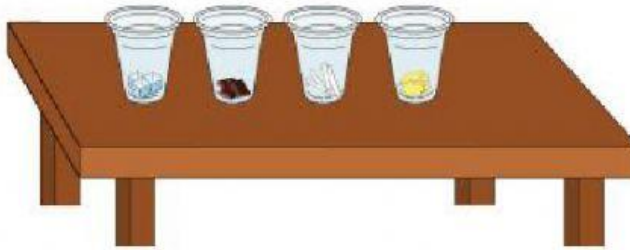
Melakukan Percobaan Perubahan Wujud Benda

Ayo siapkan alat dan bahanmu.

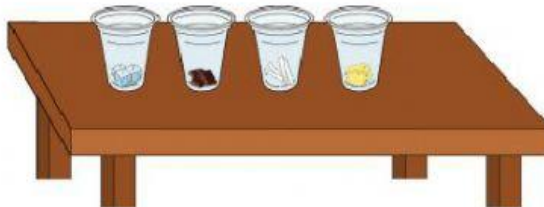
1. Empat buah gelas plastik bekas kemasan air mineral
2. Es batu
3. Cokelat
4. Mentega

Langkah-langkah percobaan

1. Masukkan setiap benda ke dalam gelas. Satu gelas diisi dengan satu benda



2. Letakkan gelas tersebut di ruangan terbuka. Ruangan yang terkena cahaya matahari langsung. Diamkan selama 15 menit. Coba perhatikan! Apa yang akan terjadi?






Tuliskan Hasil Pengamatanmu

Hasil Pengamatanku



Kesimpulanku



Kegiatan 2

Ayo kita cari tahu satuan berat barang belanja Ibu dan Ani.



1. Berat margarin adalah gram
2. Berat es krim adalah gram
3. Berat coklat adalah gram
4. Dari ketiga benda tersebut yang paling berat adalah
5. Jumlah berat dari ketiga benda tersebut adalah

Bacalah soal di bawah ini! Tuliskan cara mendapatkan hasilnya!


1. Lani membutuhkan sirup untuk membuat es buah.



Berat satu botol sirup 600 gram. Berapa gram berat dari tiga botol sirup.

Jawab:

2. Buah yang digunakan untuk membuat es beraneka ragam.
Perhatikan berat buah pada timbangan!



- a. Berapa gram berat semua buah tersebut?

Jawab:

- b. Buah manakah yang timbangannya paling berat

Jawab: