

PARES E ÍMPARES

Quem é PAR e quem é ÍMPAR? Marca a resposta certa:



PARES

ÍMPARES



325 par ☐ impar ☐

186 par ☐ impar ☐

270 par ☐ impar ☐

643 par ☐ impar ☐

431 par ☐ impar ☐

192 par ☐ impar ☐

434 par ☐ impar ☐

628 par ☐ impar ☐

557 par ☐ impar ☐

849 par ☐ impar ☐

Alimenta os monstros com os números corretos:



Pares

Impares

213

548

433

370

27

619

426

845

648

537

272

514

99

798

417

725

810

281

106

931

454

900





375

962

Escreva os números pares em ordem crescente:

Escreva os números ímpares em ordem decrescente:

Monta o quebra-cabeça escolhendo as respostas certas



Número par que vem antes do 490	Número ímpar formado por cinco centenas, duas dezenas e três unidades	A soma de 242 com seu sucessor par	Número ímpar que vem depois de 609
Número par formado por quatro centenas e oito unidades	A soma de 130 com seu antecessor ímpar	Número ímpar que vem antes de 801	Número par formado por nove centenas e seis dezenas
Antecessor ímpar de 570	Sucessor par de 698	A soma de 300 com o sucessor ímpar de 453	Número par que é sucessor de 198