



TRƯỜNG TIỂU HỌC, THCS, THPT HOÀNG GIA

Họ và tên:

Lớp: Ngày kiểm tra: / / 2022

BÀI KIỂM TRA GIỮA HỌC KÌ 1
MÔN: TOÁN

LỚP 2 (40 phút)

GIÁM THỊ 1

GIÁM THỊ 2

SỐ TT

ĐIỂM

NHẬN XÉT

GIÁM KHẢO 1

GIÁM KHẢO 2

SỐ TT

...../3 điểm

PHẦN I. TRẮC NGHIỆM

....../0,5 điểm

Em hãy tích chọn vào câu trả lời đúng

Câu 1. Trong phép tính $47 - 15 = 32$. Số 32 được gọi là:

A. số bị trừ

B. số trừ

C. hiệu

....../0,5 điểm

Câu 2. Năm nay mẹ 38 tuổi, con 7 tuổi. Hỏi mẹ nhiều hơn con bao nhiêu tuổi ?

A. 30 tuổi

B. 31 tuổi

C. 32 tuổi

....../1 điểm

Câu 3. Đúng điền Đ, sai điền S

a) Số liền trước của 60 là 59

b) Số liền sau của 89 là 87

....../1 điểm

Câu 4. Kết quả của phép tính $15 - 8$ là:

A. 7

B. 8

C. 9

...../7 điểm

PHẦN II. TỰ LUẬN

....../1 điểm

Bài 1. Đặt tính rồi tính:

a. $36 + 51$

b. $48 - 6$

.....
.....
.....

....../1 điểm

Bài 2. Tính nhẩm

$12 + 5 + 20 = \dots\dots\dots$

$60 - 40 + 30 = \dots\dots\dots$

.../1 điểm


Bài 3: Điền dấu >, <, =

15 dm + 23 dm 39 dm

45 dm 67 dm – 22 dm

.../1 điểm

Bài 4: Điền số thích hợp vào chỗ trống.



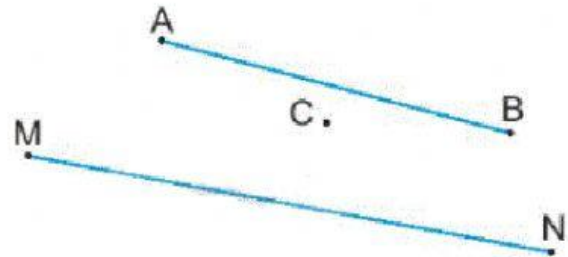
©2020 WAJIB

.../1 điểm

Bài 5: Hình bên có:

a) điểm

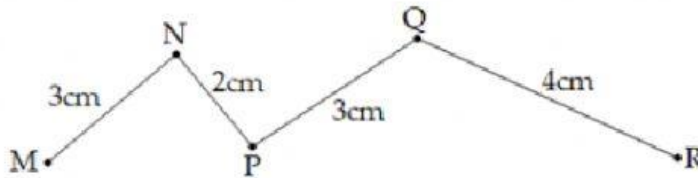
b) đoạn thẳng



.../2 điểm

Bài 6:

a) Em hãy tính độ dài đường gấp khúc MNPQR



Độ dài đường gấp khúc MNPQR là:

.....

b) Đánh dấu X vào cách đặt thước đúng để đo bút chì.



Em hãy tích chọn từ đúng (*dài hơn, ngắn hơn, dài bằng*) để điền vào chỗ trống

Cây bút chì10cm.