

**LEMBAR KEGIATAN PESERTA DIDIK
(LKPD) 1 dan 2**



Tema : 3. Makanan Sehat
Sub tema : 1. Bagaimana Tubuh Mengolah Makanan
Pembelajaran : 2
Kelas/ Semester : V/ 1 (Ganjil)
Alokasi waktu : 30 menit
Hari/Tanggal : Rabu/ 05 Oktober 2022

Nama Kelompok :

Nama Anggota Kelompok :

1.
2.
3.
4.
5.
6.



LKPD 1

A. JUDUL

Menemukan Unsur-unsur Iklan Media Cetak

B. TUJUAN

Dengan mengamati iklan yang disajikan melalui tayangan *powerpoint* disertai video pembelajaran peserta didik dapat menganalisis unsur-unsur iklan pada media cetak dengan benar. (C4)

C. KEGIATAN PESERTA DIDIK

Petunjuk :

- Masing-masing kelompok mendapatkan 1 chromebook. Perhatikan LKPD yang dibagikan oleh gurumu melalui link *Live Worksheet*.
- Amati dan cermati gambar-gambar iklan yang ada di LKPD. Kemudian isilah jawaban pada kolom jawaban yang tersedia.

D. TUGAS

1. Perhatikan gambar iklan media cetak di bawah ini!

Buah dan Sayur Segar
Sayangi dirimu
Konsumsi buah dan sayur segar setiap hari!

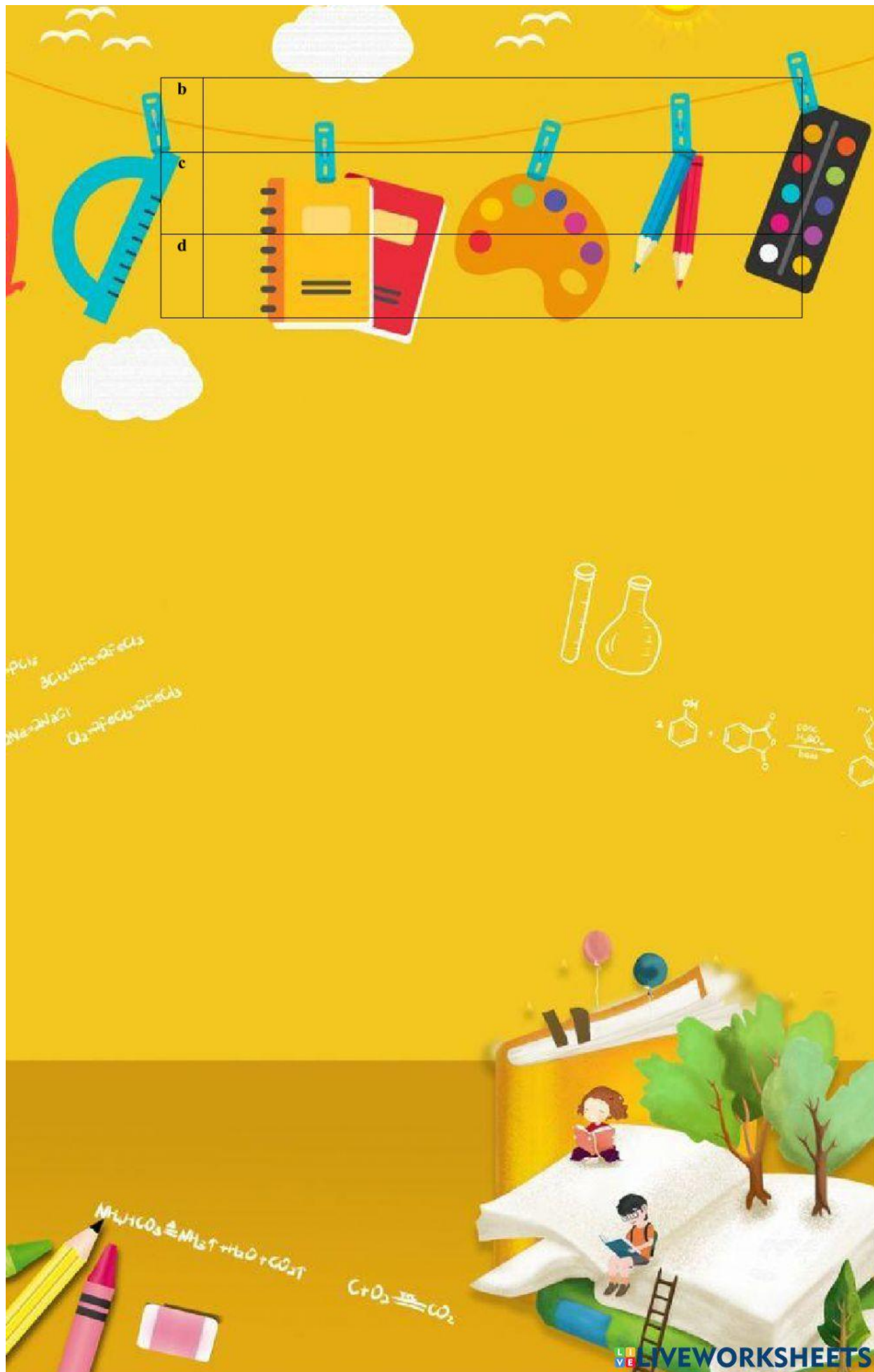
Toko Hose menyediakan sayur dan buah
Harga terjangkau
Langsung dipetik dari kebun
Sayur dan buahnya segar
Tanpa bahan pengawet
Dikemas menarik

Hanya di Toko Hose
Jangan sampai kehabisan!
Jl. Kenanga No. 17 Jakarta Selatan Telp. 021 777 9999

2. Diskusikan bersama teman kelompokmu tentang iklan di atas!
Dengan menjawab beberapa pertanyaan:
 - a. Bertutur tentang apakah iklan tersebut?
 - b. Tuliskan kalimat iklan dari iklan di atas!
 - c. Tuliskan keunggulan dari produk tersebut!
 - d. Tuliskan alamat dan nomor telepon yang bisa dihubungi dari iklan tersebut!

Hasil Kerja:

a	
---	--



LKPD 2

A. JUDUL

Sistem Pencernaan pada Manusia

B. TUJUAN

- Dengan mengamati gambar organ/ video pencernaan melalui tayangan *powerpoint*, peserta didik dapat menelaah 6 organ-organ pencernaan pada manusia dengan tepat. (C4)
- Dengan mengamati secara berkelompok, peserta didik dapat membuat sebuah poster sistem pencernaan manusia dengan rapih.

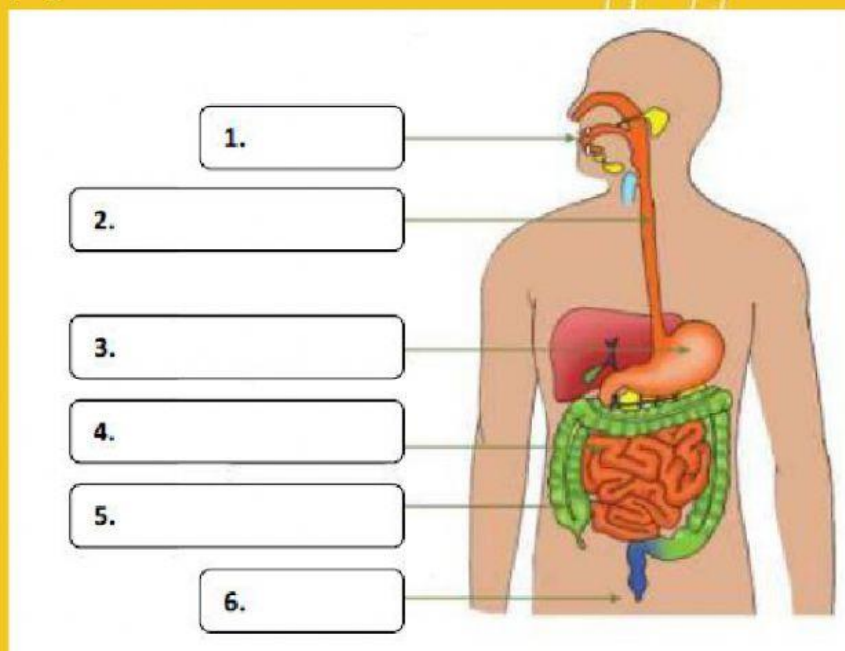
C. KEGIATAN PESERTA DIDIK

Petunjuk :

- Masing-masing kelompok mendapatkan 1 chromebook. Perhatikan LKPD yang dibagikan oleh gurumu melalui link *Live Worksheet*.
- Amati dan cermati gambar sistem pencernaan manusia (nomor 1), lengkapi kotak yang berisi nomor.
- Bualah poster sistem Pencernaan Manusia pada kertas HVS atau kertas manila.

D. TUGAS

1. Lengkapilah nama gambar organ-organ pencernaan di bawah ini pada kotak yang berisi nomor!

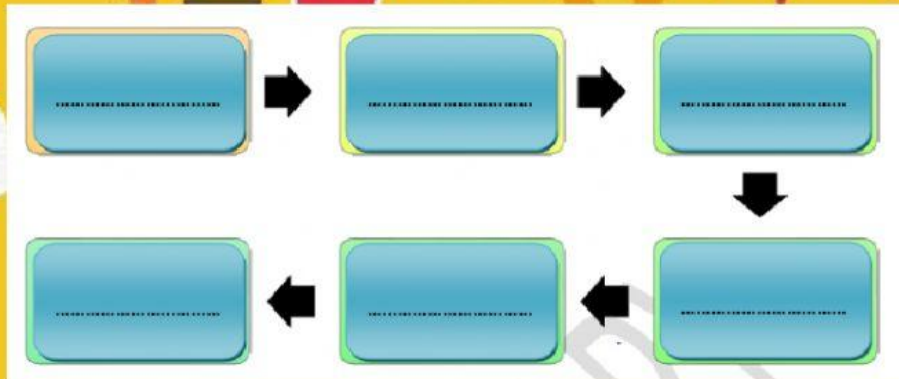


2. Tuliskan fungsi dari :
 - a. Kerongkongan

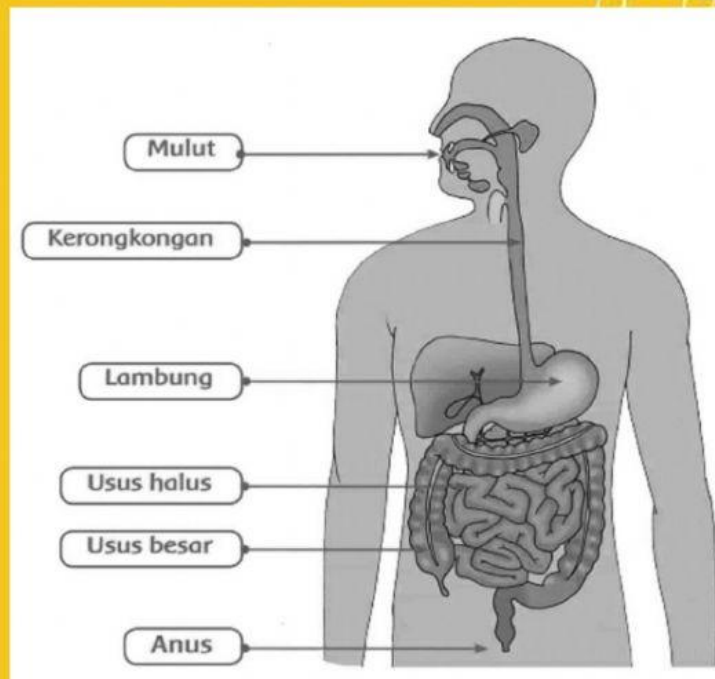
- b. Lambung

c. Usus halus

3. Isilah alur atau mekanisme sistem pencernaan pada manusia pada kotak yang berisi titik-titik !



4. Buatlah poster sistem pencernaan pada manusia seperti gambar di bawah ini !



Langkah-langkahnya sebagai berikut :

- 1) Gambarlah organ-organ pencernaan manusia di kertas A4 atau kertas manila.
- 2) Warnailah setiap bagian organ-organ pencernaan dengan warna yang berbeda.
- 3) Berilah tanda panah untuk menunjukkan organ-organ pencernaan pada manusia!
- 4) Berilah keterangan pada setiap organ-organ pencernaan manusia!