



**PEMERINTAH PROVINSI JAWA TIMUR  
DINAS PENDIDIKAN  
SMA NEGERI 1 JEMBER**

Jl. Leten Panjaitan No. 55 Jember Telp. (0331) 338586– Jember 8121  
Web site : <https://web.sman1jember.sch.id/> – E-mail : [sekolah@sman1jember.sch.id](mailto:sekolah@sman1jember.sch.id)



**LEMBAR KERJA PESERTA DIDIK**

**Pertemuan Satu : Pengetahuan Dasar Pemetaan**

- 10.1.1 Kemampuan memahami pengertian, fungsi dan syarat peta
- 10.1.2 Kemampuan mengidentifikasi komponen peta
- 10.1.3 Kemampuan memperbesar dan memperkecil peta

**Nama Siswa :**

**Mata Pelajaran :**

**Kelas :**

**No. Absen :**

**Petunjuk Belajar (Petunjuk Siswa)**

- a. Baca secara cermat bahan ajar sebelum siswa mengerjakan
- b. Baca literatur lain untuk memperkuat pemahaman siswa
- c. Kerjakan setiap langkah sesuai tugas
- d. Kumpulkan laporan hasil kerja sesuai dengan jadwal yang telah disepakati antar guru dan siswa



**PEMERINTAH PROVINSI JAWA TIMUR  
DINAS PENDIDIKAN  
SMA NEGERI 1 JEMBER**

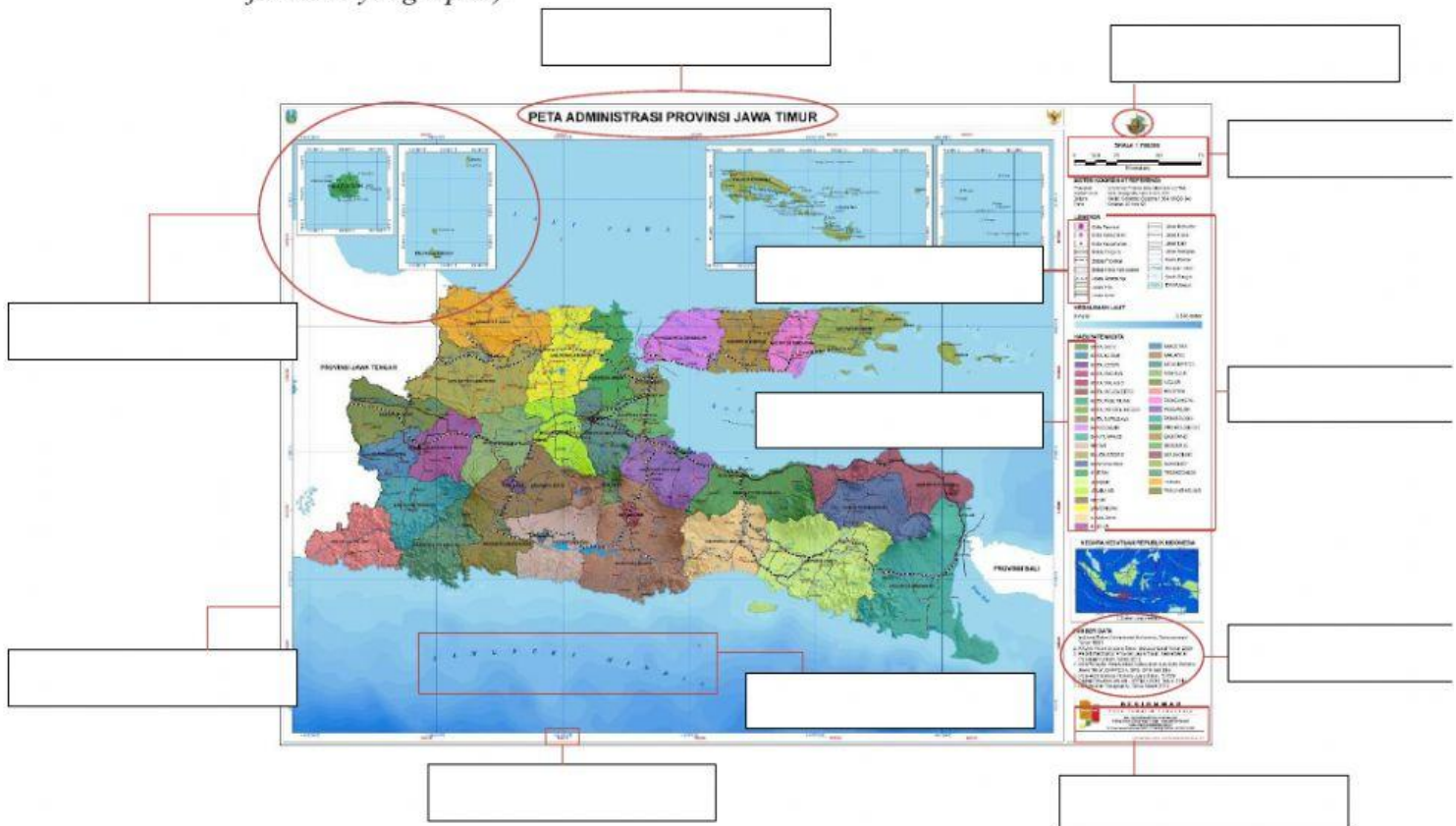
Jl. Leten Panjaitan No. 55 Jember Telp. (0331) 338586– Jember 8121  
Web site : <https://web.sman1jember.sch.id/> – E-mail : [sekolah@sman1jember.sch.id](mailto:sekolah@sman1jember.sch.id)



**1. Perhatikan gambar peta di bawah ini!**

Isilah nama komponen yang sesuai

(Mengisi dengan kolom yang kosong pada peta dengan memindahkan/drag/drop jawaban yang tepat!)



JUDUL PETA

SIMBOL

INSET

ORIENTASI

WARNA

SUMBER PETA

SKALA

LEGENDA

TAHUN PEMBUATAN PETA

GARIS TEPI

LETTERING

GARIS ASTRONOMI



**PEMERINTAH PROVINSI JAWA TIMUR  
DINAS PENDIDIKAN  
SMA NEGERI 1 JEMBER**

Jl. Leten Panjaitan No. 55 Jember Telp. (0331) 338586– Jember 8121  
Web site : <https://web.sman1jember.sch.id/> – E-mail : [sekolah@sman1jember.sch.id](mailto:sekolah@sman1jember.sch.id)



**2. Isilah jawaban di tabel dengan jawaban singkat menggunakan huruf kapital**

No.	Pertanyaan	Jawaban Singkat
1.	Menunjukkan isi suatu peta	
2.	Menunjukkan perbandingan antara ukuran para peta dengan ukuran yang sebenarnya	
3.	Tanda khusus pada peta yang mewakili objek yang dipetakan	
4.	Ilmu tentang membuat peta	



**PEMERINTAH PROVINSI JAWA TIMUR  
DINAS PENDIDIKAN  
SMA NEGERI 1 JEMBER**

Jl. Leten Panjaitan No. 55 Jember Telp. (0331) 338586– Jember 8121  
Web site : <https://web.sman1jember.sch.id/> – E-mail : [sekolah@sman1jember.sch.id](mailto:sekolah@sman1jember.sch.id)



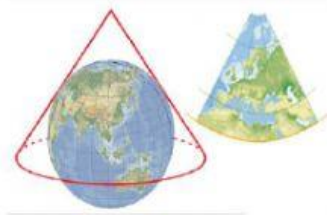
**3. Tentukan benar atau salah pada pernyataan berikut!**

- a. Proyeksi azimuth merupakan jenis proyeksi yang menggambarkan wilayah di sekitar ekuator

BENAR

SALAH

- b. Gambar proyeksi di bawah ini cocok untuk menggambarkan daerah lintang tengah seperti Eropa



BENAR

SALAH

- c. Syarat peta yang baik terdiri dari equivalent, equidistant dan conform. Equidistant diartikan sebagai luas di peta harus sesuai dengan luas yang sebenarnya bila dikalikan dengan skala

BENAR

SALAH

- d. Jarak antara kota A dengan kota B di peta adalah 5 cm. Peta tersebut mempunyai skala 1 : 100.000. Jarak sebenarnya di lapangan antara kota A dengan kota B adalah 0,5 km

BENAR

SALAH





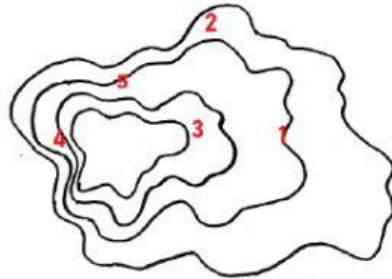
**PEMERINTAH PROVINSI JAWA TIMUR  
DINAS PENDIDIKAN  
SMA NEGERI 1 JEMBER**

Jl. Leten Panjaitan No. 55 Jember Telp. (0331) 338586– Jember 8121  
Web site : <https://web.sman1jember.sch.id/> – E-mail : [sekolah@sman1jember.sch.id](mailto:sekolah@sman1jember.sch.id)

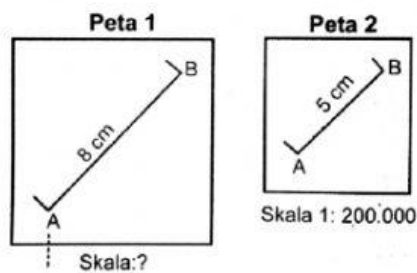


4. Isi jawaban di bawah ini menggunakan angka saja

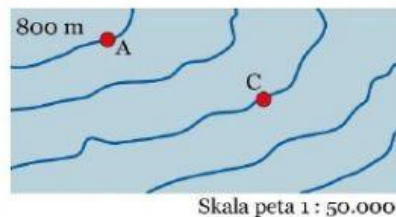
- a. Berdasarkan peta topografi seperti gambar, daerah yang paling landai dan mudah bagi pejalan kaki adalah pada jalur



- b. Dengan membandingkan skala peta 1 seperti gambar maka peta 2 mempunyai skala



- c. Titik A memiliki ketinggian 125 m di atas permukaan air laut dan ketinggian tempat kota C adalah



- d. Jarak antara kota X – Y pada skala peta 1 : 20.000 adalah 5 cm sedangkan jarak kota X – Y pada peta lain tanpa skala adalah 4 cm. Skala peta tersebut adalah



**PEMERINTAH PROVINSI JAWA TIMUR  
DINAS PENDIDIKAN  
SMA NEGERI 1 JEMBER**

Jl. Leten Panjaitan No. 55 Jember Telp. (0331) 338586– Jember 8121  
Web site : <https://web.sman1jember.sch.id/> – E-mail : [sekolah@sman1jember.sch.id](mailto:sekolah@sman1jember.sch.id)



5. Pilih jawaban di bawah ini dengan tepat

- 1). Bentang alam yang digambarkan pada peta antara lain ...
  - a. Jembatan, pemukiman, perkebunan
  - b. Danau, gunung, laut
  - c. Batas wilayah, jalan raya, sungai
  - d. Pelabuhan laut, rute pelayaran, kedalaman laut
  - e. Sungai, waduk, laut, dermaga
- 2). Warna dasar biru pada peta biasanya digunakan untuk menggambarkan ...
  - a. Hipsografi
  - b. Warna dasar peta
  - c. Hidrografi
  - d. Vegetasi
  - e. Budaya
- 3). Syarat – syarat peta ...
  - a. Bersih, rapi dan indah
  - b. Jarak di peta sama dengan jarak di lapangan
  - c. Dapat ditangkap maknanya
  - d. Memiliki judul, skala dan legenda
  - e. Memberikan makna sebenarnya
- 4). Pengetahuan khusus yang mempelajari peta dinamakan ...
  - a. Kartografi
  - b. Geografi
  - c. Kartograf
  - d. Geodesi
  - e. Topografi



**PEMERINTAH PROVINSI JAWA TIMUR  
DINAS PENDIDIKAN  
SMA NEGERI 1 JEMBER**

Jl. Leten Panjaitan No. 55 Jember Telp. (0331) 338586– Jember 8121  
Web site : <https://web.sman1jember.sch.id/> – E-mail : [sekolah@sman1jember.sch.id](mailto:sekolah@sman1jember.sch.id)



NB: Setelah selesai mengerjakan KLIK FINISH kemudian pilih **Email my answer to my teacher**. Setelah muncul kolom, isikan dengan:

Enter Full Nama (Nama Lengkap)

Group Level : X 9

School Subject : Pengetahuan Dasar Pemetaan

Email: [miita.s070802@gmail.com](mailto:miita.s070802@gmail.com)

Setelah itu **KLIK SAVE** dan **KLIK OK**