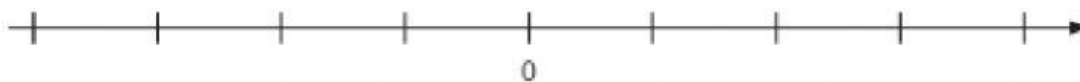
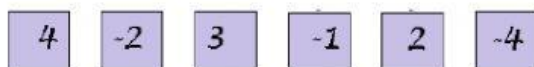


MA0302 – Números Inteiros

Professora Miriam Lima

1) Arraste cada número até sua posição na reta numérica.



2) Escolha o sucessor de -45

3) Escolha o antecessor de -24

4) Calcule e escolha a resposta correta.

a)  $8 - (-2) =$


b)  $5 - (+1) =$

c)  $9 - (+9) =$

d)  $-7 - (-5) =$

e)  $89 - (-11) =$

5) Numa cidade, a temperatura mais fria do ano foi de  $5^{\circ}\text{C}$  e a mais quente foi de  $35^{\circ}\text{C}$ .



Qual é a diferença entre a temperatura mais quente e a temperatura mais fria?