

1 Клітини, тканини та органи людини

Клас:

1

Доповніть речення та дайте визначення.

Організм людини складається з клітин, які входять до складу _____. Тканини утворюють _____, які об'єднуються у _____ органів.

Орган — це _____

2

Позначте одну правильну відповідь.

1. Тканина, до складу якої входить нейроглія:

- А епітеліальна Б м'язова В нервова Г хрящова

2. До складу дихальної системи входить:

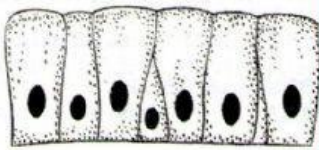


- А шлунок Б нирка В трахея Г мозок

3. Система, до складу якої входить шлунок:

- А видільна Б нервова В дихальна Г травна

3

Розгляньте малюнки. Запишіть назви зображених тканин та вкажіть їхні основні характеристики. Заповніть таблицю.

Властивості тканини			
1. Назва тканини			
2. Кількість міжклітинної речовини			
3. До складу яких органів входить			
4. Основні функції			
5. Різновиди тканини			