

LEMBAR KERJA PESERTA DIDIK
(LKPD)

KELAS III / SEMESTER 1
TEMA 3 BENDA DI SEKITARKU
SUB TEMA 2 WUJUD BENDA
PEMBELAJARAN 3
(Matematika)

NAMA KELOMPOK :




1.
2.
3.
4.
5.

Disusun : Pamela Ayu Larasati



PETUNJUK :

1. Berdoalah sebelum melaksanakan kegiatan.
2. Tuliskan nama kelompok dan nama anggota kelompokmu.
3. Baca petunjuk kegiatan dengan cermat.
4. Lakukan kegiatan dengan cermat, benar dan teliti.



Ayo Berlatih



Perhatikan contoh di bawah ini !



Jarak yang ditempuh Dayu dari rumah ke pasar adalah

$$6 \text{ km} + 7 \text{ km} = 13 \text{ km}$$

Selesaikan soal di bawah ini dan tuliskan jawaban pada kotak yang tersedia!

1. Udin dan Beni akan berlomba lari. Jarak yang akan ditempuh 350 m. Lomba pun segera dimulai. Saat Udin telah sampai ke garis akhir, Beni baru menempuh 200 m. Berapa meter sisa jarak yang harus ditempuh Beni sampai ke garis akhir?

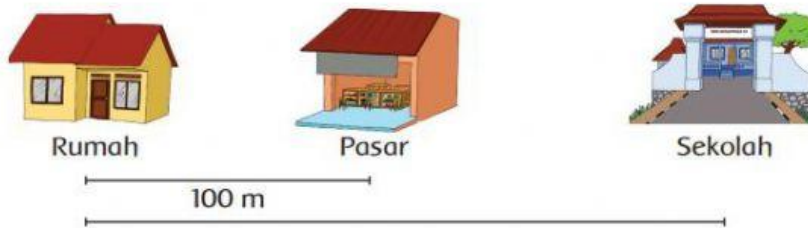
2. Jarak rumah Edo ke sekolah 2.500 m. Jarak rumah Siti ke sekolah 4.740 m. Berapa meter perbedaan jarak rumah Siti dan Edo dari sekolah?

3. Udin pergi ke sekolah dengan bersepeda. Jarak yang ditempuh Udin dari rumah ke sekolah 3 km. Setelah menempuh jarak 2 km dari rumahnya, ban sepeda Udin bocor. Akhirnya, Udin menuntun sepedanya sampai ke sekolah. Berapa km jarak yang ditempuh Udin menuntun sepeda sampai ke sekolah?

4. Lani dan keluarganya pergi ke Bandung naik bus. Jarak Jakarta ke Bandung 130 km. Bus telah menempuh jarak dari Jakarta ke Bandung sejauh 50.000 m. Berapa km sisa jarak yang harus ditempuh bus tersebut?



5. Bantulah Siti menentukan jarak dari rumah ke sekolah!



Jarak rumah Siti ke sekolah 3 kali jarak dari rumah ke pasar. Jarak dari pasar ke rumah 100 m. Berapakah jarak yang harus ditempuh Siti dari rumah ke sekolah?

