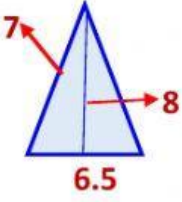


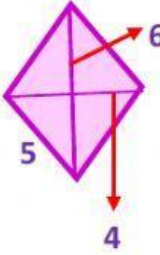
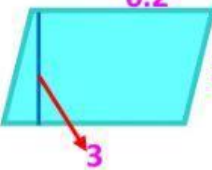
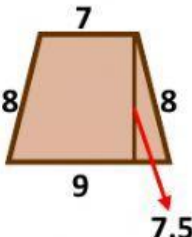
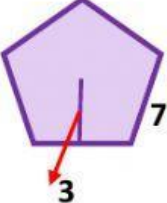
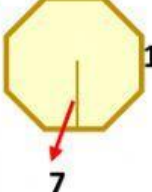
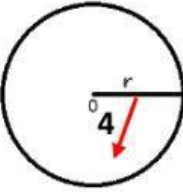
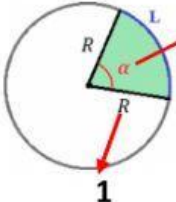


NOMBRE _____ GRUPO _____

Encuentra el perímetro, el área y escribe el nombre correctamente en cada una de las figuras (no olvides los acentos).

 <p>NOMBRE <input type="text"/></p> <p>PERÍMETRO <input type="text"/> m</p> <p>AREA <input type="text"/> m²</p>	 <p>NOMBRE <input type="text"/></p> <p>PERÍMETRO <input type="text"/> m</p> <p>AREA <input type="text"/> m²</p>
 <p>NOMBRE <input type="text"/></p> <p>PERÍMETRO <input type="text"/> m</p> <p>AREA <input type="text"/> m²</p>	 <p>NOMBRE <input type="text"/></p> <p>PERÍMETRO <input type="text"/> m</p> <p>AREA <input type="text"/> m²</p>
 <p>NOMBRE <input type="text"/></p> <p>PERÍMETRO <input type="text"/> m</p> <p>AREA <input type="text"/> m²</p>	 <p>NOMBRE <input type="text"/></p> <p>PERÍMETRO <input type="text"/> m</p> <p>AREA <input type="text"/> m²</p>
 <p>NOMBRE <input type="text"/></p> <p>PERÍMETRO <input type="text"/> m</p> <p>AREA <input type="text"/> m²</p>	 <p>NOMBRE <input type="text"/></p> <p>PERÍMETRO <input type="text"/> m</p> <p>AREA <input type="text"/> m²</p>
 <p>NOMBRE <input type="text"/></p> <p>PERÍMETRO <input type="text"/> m</p> <p>AREA <input type="text"/> m²</p>	 <p>NOMBRE <input type="text"/></p> <p>30° LONGITUD L <input type="text"/> m</p> <p>AREA <input type="text"/> m²</p>