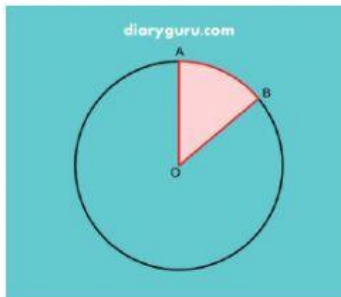


Sebelum mengerjakan sebaiknya perhatikan video dibawah ini



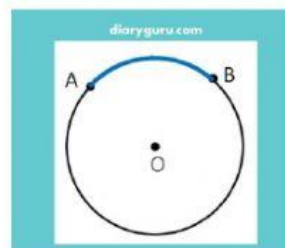
Pilihlah jawaban dibawah ini yang dirasa benar



1. Bagian lingkaran yang berwarna merah pada gambar di atas disebut.
  - a. Juring
  - b. Tembereng
  - c. Busur
  - d. diameter
2. Era menggambar ruas garis yang menghubungkan titik pusat dengan titik pada lingkaran. Dia menggambar.
  - a. Titik pusat
  - b. Diameter
  - c. Jari-jari
  - d. Juring

3. Bagian lingkaran yang menghubungkan dua titik pada lingkaran dan melalui titik pusat yaitu. .
  - a. Jari-jari
  - b. Diameter
  - c. Tembereng
  - d. Juring

4. Perhatikanlah gambar berikut ini!



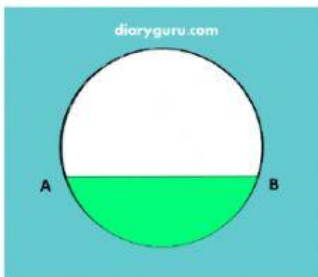
Garis lengkung berwarna biru pada gambar di atas dinamakan. .

- a. Tali busur
- b. Tembereng
- c. Busur
- d. Apotema

5. Wilona dan Dani memiliki sepeda dengan ukuran roda yang berbeda. Perbedaan ukuran tersebut dilihat dari.
- Titik pusat
  - Tali busur
  - Tembereng
  - Diameter

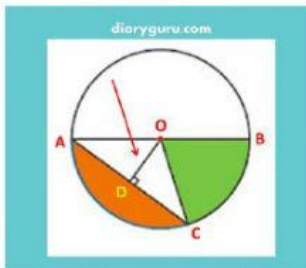
6. Aku adalah bagian dari lingkaran. Aku juga bisa disebut sebagai tali busur. Aku adalah...
- Tembereng
  - Apotema
  - Diameter
  - Busur

7. Perhatikanlah gambar berikut ini!



Bagian lingkaran yang berwarna hijau dinamakan.

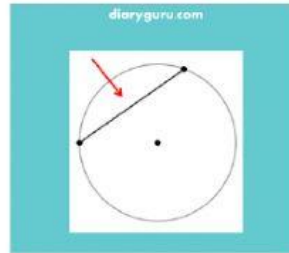
- Juring
  - Apotema
  - Tembereng
  - Busur
8. Perhatikanlah gambar berikut ini!



Bagian lingkaran yang ditunjukkan oleh tanda panah (O D) pada gambar di atas yaitu. . .

- Juring
- Tembereng
- Apotema
- Busur

9. Tanda panah berwarna merah pada gambar di atas menunjuk bagian. . .lingkaran



- Tali busur
- Busur
- Jari-jari
- Diameter

10. Perhatikan pernyataan berikut!

- Panjang diameter adalah setengah dari jari-jari
- Tali busur terbentuk dari satu titik pada lingkaran
- Jari-jari lingkaran panjangnya berbeda
- Juring sebuah lingkaran berjumlah tak terhingga

Pernyataan di atas yang benar ditunjukkan oleh pernyataan nomor. . .

- 1 dan 3
- 2 dan 4
- 2 dan 3
- 1 dan 4

ISILAH KETERANGAN DARI BAGIAN LINGKARAN DIBAWAH INI

