

Học sinh: .....

Lớp: .....



# Phiếu bài tập toán

## GAM



Chọn câu trả lời đúng

Câu 1: Đơn vị nào dưới đây là đơn vị đo khối lượng?

Gam

Xăng - ti - mét

Đề - xi - mét

Mét

Câu 2: Số thích hợp để điền vào ô trống  $1 \text{ kg} = \square \text{ g}$  là:

10

100

1000

Câu 5: khối lượng bình hoa trong hình là  $\square$  gam.

600g

700g

800g

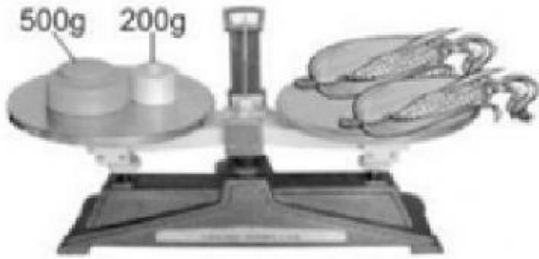
900g





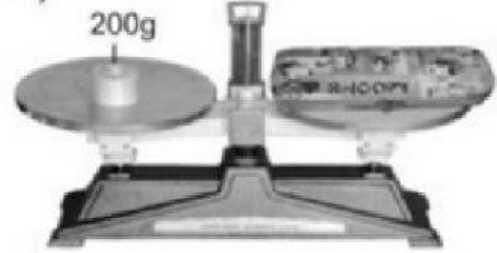
## Quan sát tranh và điền số thích hợp

a)




2 bắp ngô cân nặng .....g

b)

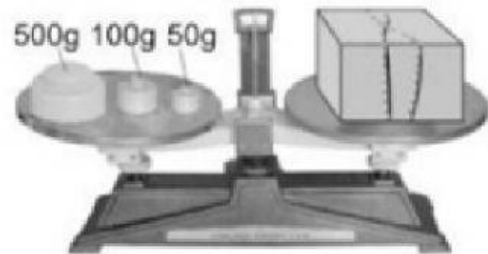


Hộp bút cân nặng.....g



Chùm nho cân nặng.....g

d)



Hộp quà cân nặng.....g



## Thực hiện bài giải

Hai quả dưa hấu cân nặng tổng cộng là 1 kg. Quả dưa hấu thứ nhất cân nặng 415g. Cân nặng của quả dưa hấu thứ hai là:



### Bài giải

---



---



---



---