

ESCOLA: \_\_\_\_\_

NOME: \_\_\_\_\_ DATA: \_\_\_\_/\_\_\_\_/\_\_\_\_

# HORAS

Arraste as horas até o relógio correto.



9:00

5:00

3:00

2:00

8:00

11:00

Ligue as horas aos relógios correspondentes.



7:15



2:30



11:45




9:00




1:15



5:30



12:45



4:00



6:15



10:30




3:45



8:00

## Resolva os problemas abaixo.

Júlia tem aula de inglês às 11 horas da manhã. Ela acordou no horário que marca o relógio abaixo. Quantas horas faltam para começar a aula de inglês de Júlia?



Faltam \_\_\_\_\_ horas para começar a aula de inglês de Júlia.

Lucas, um caminhoneiro, saiu de casa no horário que mostra o relógio abaixo. Sua viagem demorou 7 horas e 30 minutos. Que horas Lucas chegou ao seu destino?



Lucas chegou ao seu destino às \_\_\_\_\_:\_\_\_\_\_.