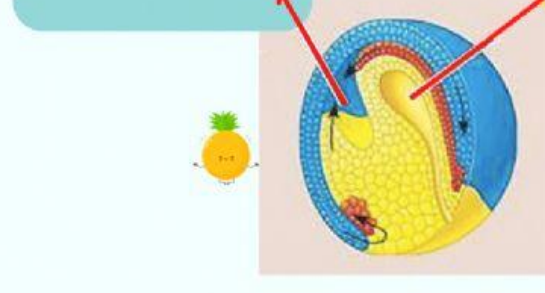
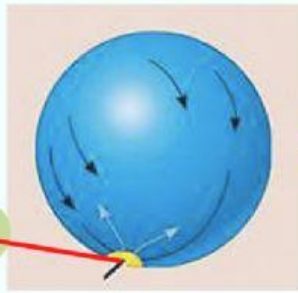
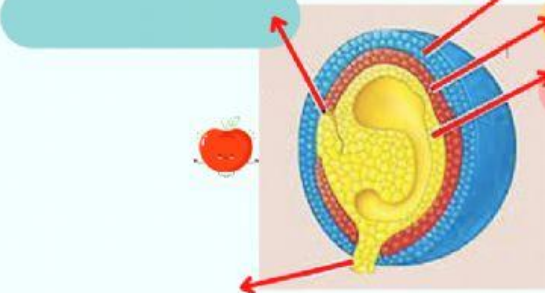
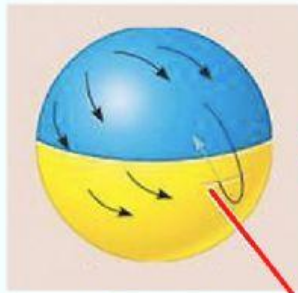
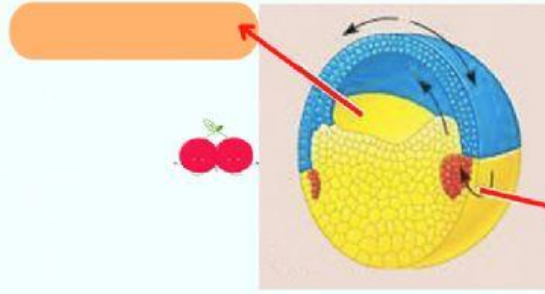
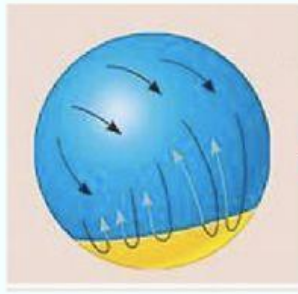


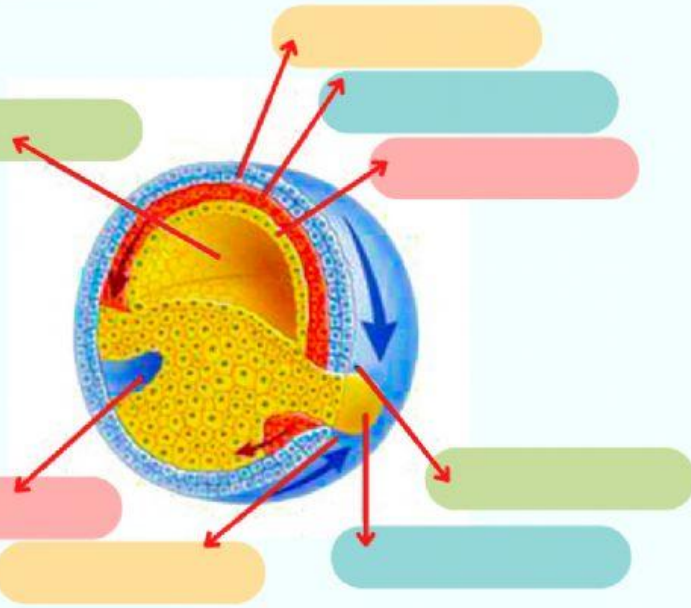
การสืบพันธุ์และการเจริญของสัตว์

ชื่อ.....สกุล.....ชั้น.....เลขที่.....sec.....

ให้นักเรียนจับคู่ของโครงสร้างทั้งภายในและภายนอกของ Zygote พร้อมระบุโครงสร้างต่าง ๆ ให้ถูกต้อง



ให้นักเรียนระบุโครงสร้างต่างๆของ Zygote แล้วให้ระบุว่าเนื้อเยื่อในแต่ละชั้นจะพัฒนาไปเป็นอวัยวะส่วนไหนบ้าง



ชั้นของเนื้อเยื่อ

Ectoderm



Mesoderm



Endoderm

