



## LKPD Perkembangbiakan pada Tumbuhan

NAMA :

KELAS :

### A. Perkembangbiakan Vegetatif Alami

Jodohkanlah gambar tumbuhan dengan cara menggeser (drag) tulisan di diatas gambar ke kotak kosong tepat di bawah gambar (drop).

tunas akar

umbi akar

geragih

umbi batang










rimpang

tunas daun

spora

umbi lapis

tunas



### B. Perkembangbiakan Vegetatif Buatan

Jodohkanlah gambar tumbuhan dengan cara menggeser (drag) tulisan di diatas gambar ke kotak kosong tepat di bawah gambar (drop).

stek batang

cangkok

stek daun

merunduk

okulasi

menyambung



### C. Jawablah pertanyaan berikut (drop down)

1. Tumbuhan yang perkembangbiakannya dengan rhizoma
2. Tangkai tanaman yang ditanamkan ke dalam tanah sehingga bagian yang tertanam dalam tanah tumbuh akar dinamakan
3. Cara ini dilakukan dengan menempelkan mata tunas yang ada pada kulit tanaman pada batang tanaman lain yang sejenis
4. Cara menanam ini dengan memotong suatu batang tanaman lalu disambung dengan batang tanaman lain yang sejenis tetapi berbeda sifat
5. Beberapa potongan batang singkong ditanam ke dalam tanah untuk menghasilkan individu baru. Cara ini dinamakan

Perancang : JOHAN, S.Pd