

**SOAL
PENILAIAN HARIAN
KELAS 6 TEMA 1 SUBTEMA 1**

MODEL T1-ST1-A





Soal Pilihan Ganda

1. Perhatikan gambar berikut!



Kegiatan pada gambar sesuai dengan sila

- a. pertama Pancasila
 - b. kedua Pancasila
 - c. ketiga Pancasila
 - d. keempat Pancasila
2. Nilai Pancasila tidak hanya kita pahami, tetapi juga kita ... dalam kehidupan sehari-hari.
- a. hindari
 - b. jauhi
 - c. terapkan
 - d. tinggalkan
3. Perilaku yang sesuai dengan nilai Kemanusiaan yang adil dan beradab yaitu
- a. melaksanakan ajaran agama yang dianut
 - b. menghormati orang yang lebih tua
 - c. bekerja sama melakukan penghijauan
 - d. mengikuti kegiatan musyawarah
4. **Perhatikan paragraf pada teks laporan hasil pengamatan berikut!**
- Nasi merupakan makanan pokok masyarakat Indonesia. Sebagian besar masyarakat Indonesia mengonsumsi nasi. Beberapa orang bahkan menganggap jika tidak mengonsumsi nasi sama halnya belum makan. Hal ini karena sebagian masyarakat menganggap makanan selain nasi hanyalah camilan.
- Gagasan pokok paragraf tersebut adalah
- a. nasi sebagai camilan yang mengenyangkan
 - b. anggapan masyarakat terhadap nasi
 - c. nasi lebih baik dikonsumsi daripada camilan lainnya
 - d. nasi sebagai makanan pokok masyarakat Indonesia
5. **Perhatikan paragraf pada teks laporan hasil pengamatan berikut!**
- Nasi merupakan makanan pokok masyarakat Indonesia. Sebagian besar masyarakat Indonesia mengonsumsi nasi. Beberapa orang bahkan menganggap jika tidak mengonsumsi nasi sama halnya belum makan. Hal ini karena sebagian masyarakat menganggap makanan selain nasi hanyalah camilan.
- Gagasan pokok paragraf tersebut adalah
- a. nasi sebagai camilan yang mengenyangkan
 - b. anggapan masyarakat terhadap nasi
 - c. nasi lebih baik dikonsumsi daripada camilan lainnya
 - d. nasi sebagai makanan pokok masyarakat Indonesia
6. Berikut yang merupakan ciri-ciri teks laporan hasil pengamatan adalah
- a. disusun sebelum melakukan pengamatan
 - b. disusun setelah melakukan pengamatan
 - c. disusun saat melakukan pengamatan
 - d. disusun sebelum dan setelah melakukan pengamatan
7. Bagian bunga yang merupakan sel kelamin jantan adalah
- a. putik
 - b. kelopak

- c. mahkota
 - d. serbuk sari
8. Zigot merupakan hasil dari proses
- a. penyerbukan
 - b. pembuahan
 - c. penyemaian
 - d. pertumbuhan
9. Tumbuhan yang berkembang biak dengan geragih adalah
- a. 
 - b. 
 - c. 
 - d. 
10. ASEAN dibentuk berdasarkan
- a. Deklarasi Bangkok
 - b. Deklarasi Djuanda
 - c. Deklarasi Yangon
 - d. Deklarasi Kuala Lumpur
11. Wakil delegasi Indonesia yang menjadi sekretaris jenderal ASEAN pertama kali adalah
- a. Umarjadi Notowijono
 - b. H.R. Dharsono
 - c. Rusli Noor
 - d. Adam Malik
12. Adam Malik adalah menteri luar negeri Indonesia yang menandatangani
- a. Perjanjian Roem-Royen
 - b. Konferensi Meja Bundar
 - c. Konferensi Kolombo
 - d. Deklarasi Bangkok
13. Tanah liat yang digunakan untuk membuat patung termasuk bahan
- a. lunak
 - b. keras
 - c. cair
 - d. langka

14. Perhatikan gambar berikut.



Bahan di atas dapat digunakan untuk membuat patung, yakni disebut

- a. plastisin
 - b. tanah liat
 - c. bubur kertas
 - d. batu marmer
15. Arca merupakan salah satu jenis patung berdasarkan
- a. bentuknya
 - b. cara pembuatannya
 - c. posisinya
 - d. fungsinya

Soal Isian

1. Bersyukur kepada Tuhan karena telah menumbuhkan tanaman padi dengan subur merupakan pengamalan sila ... Pancasila.
2. Perhatikan gambar berikut!



Gambar tersebut menunjukkan perilaku yang sesuai dengan sila ... Pancasila.

3. Ikhtisar akhir dari suatu teks laporan disebut
4. Teks laporan hasil pengamatan berisi informasi yang ditulis berdasarkan
5. Kentang berkembang biak dengan
6. Perkembangbiakan secara tak kawin disebut juga perkembangbiakan
7. Bunga yang digunakan sebagai lambang keharmonisan dan kesatuan rakyat Thailand adalah
8. ASEAN didirikan pada tanggal
9. Teknik cetak tekan digunakan saat membuat patung dari bahan
10. Teknik membuat patung dengan cetakan kemudian ditekan disebut teknik