

Matematika Ilmu yang Menyenangkan

Nama:

No Absen/Kelas:


Hai anak-anak terkasih

Setelah pertemuan yang lalu kalian berlatih menyelesaikan soal berkaitan dengan penjumlahan dan pengurangan pecahan dengan penyebut beda, kini kita akan melanjutkan materi kita.



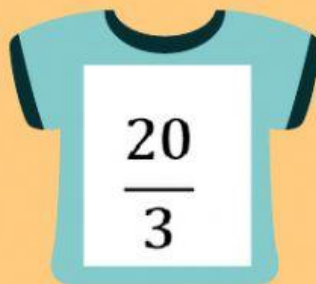

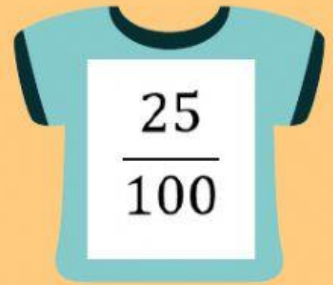

Namun, pertemuan yang lalu masih banyak anak-anak yang lupa cara **menyederhanakan pecahan**.

Maka dari itu, mari kita tonton sejenak video di bawah ini sebelum lanjut menyelesaikan permasalahan nyata berkaitan dengan pecahan.

Fighting!



Pasangkan atasan dan bawahan baju berikut sesuai dengan penyederhanaan pecahan yang tepat!



Nah, kini kalian sudah semakin bisa dalam menyederhanakan pecahan. Bagaimana dengan penyelesaian masalah nyata di bawah ini? Apakah kamu dapat menyelesaikannya?

AYO MENCoba

Kerjakanlah latihan di bawah ini!

Silakan tulis soal cerita (no 1-2) berikut di buku latihan kemudian cara pengerjaannya. Nomor 3 dan 4 cukup dikerjakan di liveworksheet saja..tidak perlu disalin di buku latihan.

Pilihan Ganda

1

Nina rajin lari pagi untuk menjaga kesehatan tulangnya. Nina berlari



mengelilingi sebuah lintasan lari. Dalam 10 menit pertama, Nina berlari sejauh $\frac{2}{3}$ putaran. Lima belas menit kemudian, Nina berlari sejauh $\frac{3}{4}$ putaran.

Berapa putaran Nina berlari seluruhnya?

- A. $1\frac{2}{12}$
- B. $1\frac{5}{12}$
- C. $2\frac{1}{12}$
- D. $5\frac{1}{12}$

Pilihan Ganda

2



Ibu mempunyai persediaan $\frac{1}{2}$ kg telur.

Ibu membeli lagi $\frac{3}{4}$ kg telur. Berapa kg telur yang dimiliki ibu seluruhnya?

- A. $1\frac{1}{8}$ kg
- B. $1\frac{1}{2}$ kg
- C. $1\frac{1}{4}$ kg
- D. $4\frac{1}{5}$ kg

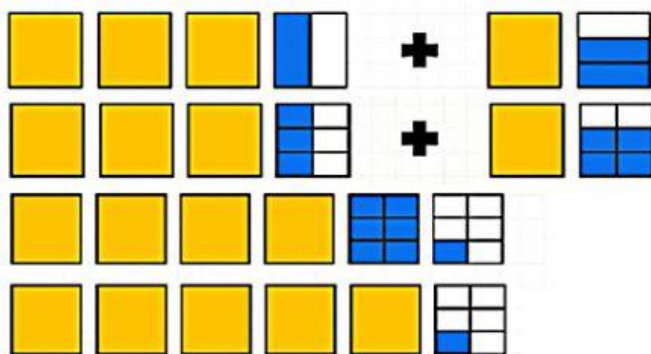
Pilihan Ganda Kompleks

3

Manakah gambar model yang menunjukkan proses penjumlahan pecahan campuran dari $3\frac{1}{2} + 1\frac{2}{3}$?

Beri tanda checklist pada kolom yang disediakan.

Kamu dapat memilih lebih dari satu jawaban.



Nomor 3 dan 4 langsung dikerjakan di sini. Tidak perlu dibuat di buku latihan.

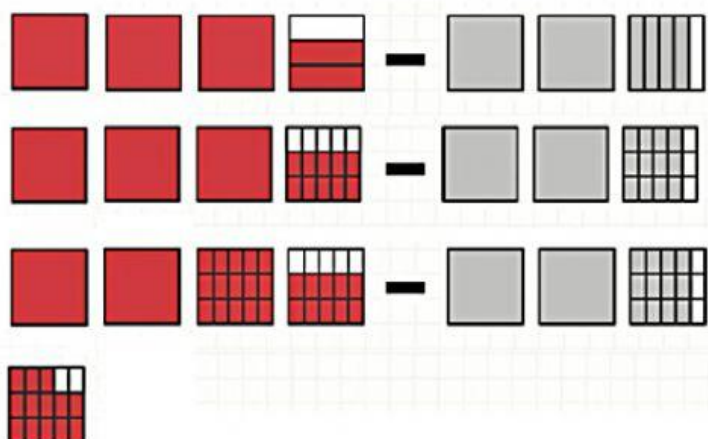
Pilihan Ganda Kompleks

4

Manakah gambar model yang menunjukkan proses pengurangan pecahan campuran dari $3\frac{2}{3} - 2\frac{4}{5}$?

Beri tanda checklist pada kolom yang disediakan.

Kamu dapat memilih lebih dari satu jawaban.



Jika sudah selesai, klik FINISH!

Tadaaaa, GOOD JOB!! Kamu telah menyelesaikan latihan hari ini!