

Bài 1



Sự hình thành và phát triển của xã hội phong kiến ở châu Âu (thời sơ - trung kỳ trung đại)

Từ khoá

- Xã hội phong kiến châu Âu
- Lãnh địa phong kiến
- Thành thị trung đại

MỤC TIÊU

- Vẽ được sơ đồ mô tả quá trình phong kiến hoá ở châu Âu.
- Mô tả được cách tổ chức của “lãnh địa phong kiến” và “thành thị trung đại”.
- Phân biệt được khái niệm “lãnh địa phong kiến” và “thành thị trung đại” dựa vào các đặc trưng về thời gian ra đời, kinh tế, xã hội.
- Liệt kê được tên và nêu được vai trò của các giai cấp, tầng lớp trong xã hội.



1 Thảo luận với bạn và nêu đặc điểm của chế độ chiếm hữu nô lệ dựa vào gợi ý sau:

– Thời gian và địa điểm ra đời:

.....

– Các giai cấp chính:

.....

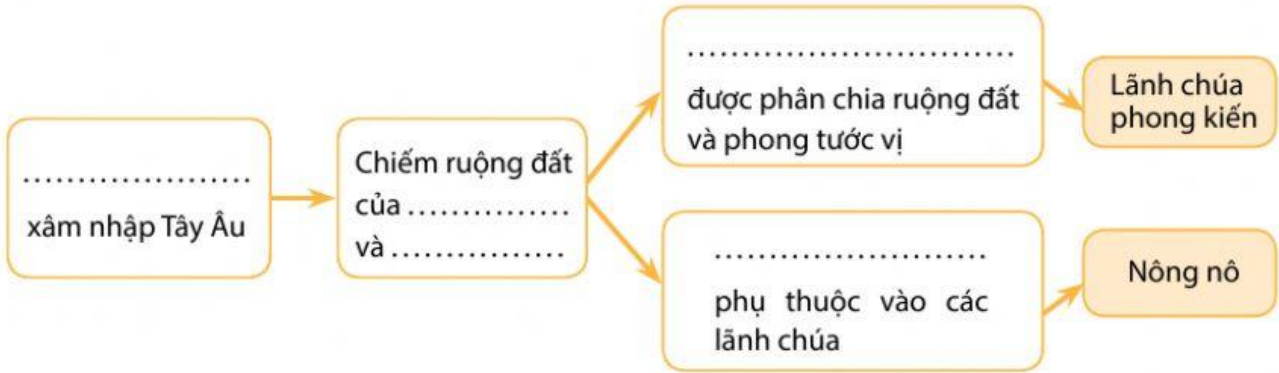
.....

– Mối quan hệ giữa các giai cấp:

.....

.....

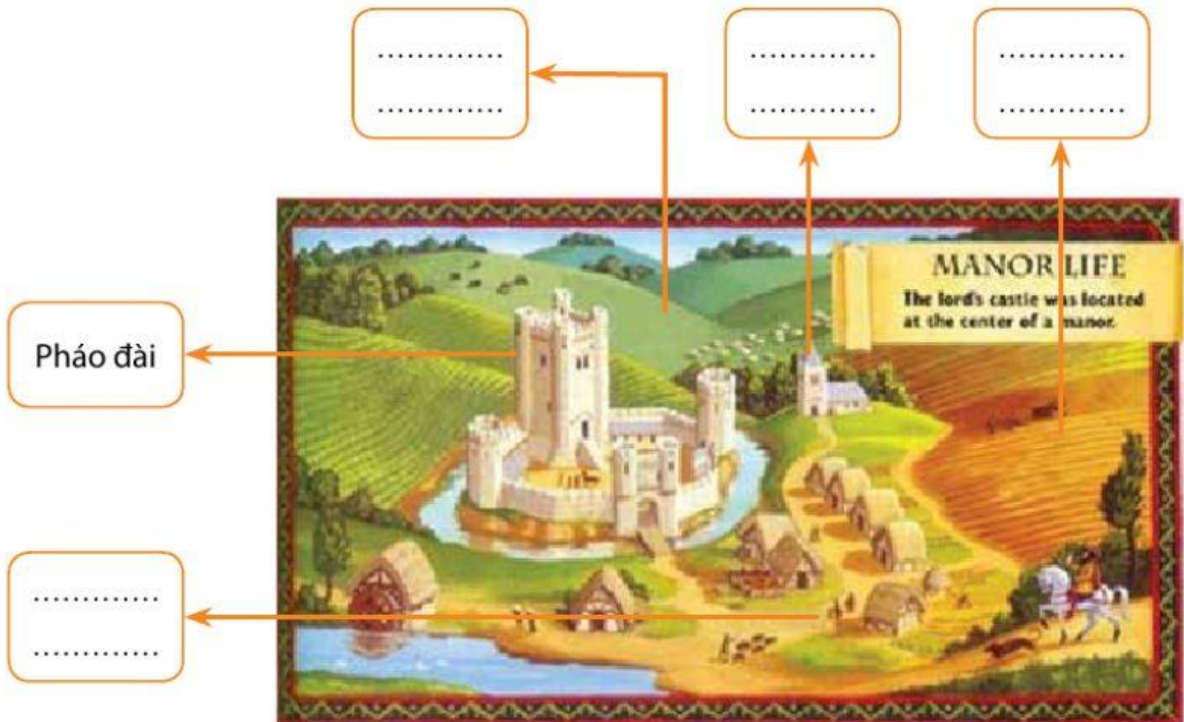
2 Hoàn thiện sơ đồ về “Quá trình phong kiến hoá ở châu Âu”.



Hình 1.1. Sơ đồ quá trình phong kiến hoá ở châu Âu

3 Hãy thực hiện các nhiệm vụ sau:

- a. Đọc đoạn tư liệu 1, lựa chọn và điền từ khoá phù hợp vào ô trống ở Hình 1.2 để mô tả tổ chức của “lãnh địa phong kiến”.




Hình 1.2. Quang cảnh lãnh địa phong kiến

Tư liệu 1:

“Ở trong lãnh địa, lãnh chúa xây dựng nơi ở của mình như những pháo đài kiên cố, có hào sâu, tường cao bao quanh, trong đó có dinh thự, nhà thờ và có cả nhà kho, chuồng trại,... Phần đất bao quanh lâu đài bao gồm đất canh tác, đồng cỏ, ao hồ, đầm lầy,... Lãnh chúa giao cho nông nô sử dụng và thu tô, thuế.”

(Nguồn: Bộ Giáo dục và Đào tạo, *Lịch sử 7*, NXB Giáo dục Việt Nam, H., 2012, tr. 4.)

b. Đọc đoạn tư liệu 2, 3 kết hợp với quan sát Hình 1.3 để mô tả cách tổ chức của thành thị trung đại.



Hình 1.3. Quang cảnh của thành thị trung đại

Tư liệu 2:

“Các thành thị được bao quanh bởi thành lũy và do lãnh chúa cai trị. Sau này các thương nhân và thợ thủ công giàu có nhất trực tiếp cai quản... Thợ thủ công mở xưởng ở ngay tầng một của các ngôi nhà. Họ bán hàng ở ngoài đường. Các ngôi nhà được làm bằng gỗ.”

(Nguồn: *Bách khoa Toàn thư Larousse*, Lịch sử, NXB Giáo dục Việt Nam, H., 2014, tr.23.)

Tư liệu 3:

“Trong thành thị, cư dân chủ yếu là những thợ thủ công và thương nhân. Họ lập ra các phường hội, thương hội để cùng nhau sản xuất và buôn bán.”

(Nguồn: Bộ Giáo dục và Đào tạo, *Lịch sử 7*, NXB Giáo dục Việt Nam, H., 2014, tr.5.)

.....

.....

.....

.....

.....

.....

.....

4 Dựa vào tư liệu 1, 2, 3, hãy hoàn thành bảng so sánh về lãnh địa phong kiến và thành thị trung đại.

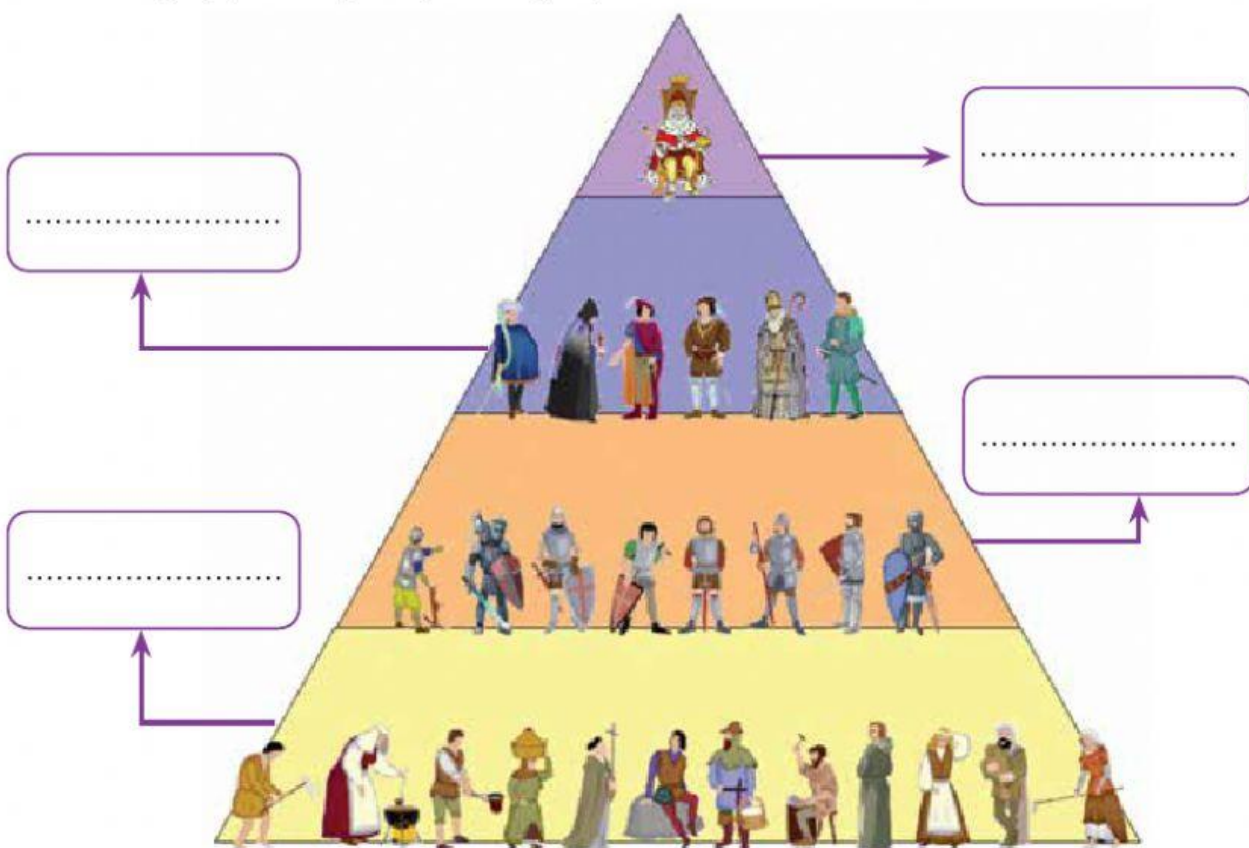
Đặc trưng	Lãnh địa phong kiến	Thành thị trung đại
Thời gian ra đời		
Hoạt động kinh tế		
Cư dân chủ yếu		



1 Dựa vào thông tin trong SGK *Lịch sử 7* trang 3 – 5, hãy thực hiện các nhiệm vụ sau:

a. Điền tên của các tầng lớp trong xã hội Tây Âu trung đại vào Hình 1.4.

b*. Nếu được lựa chọn thuộc về một trong các tầng lớp dưới đây trong xã hội Tây Âu trung đại, em sẽ lựa chọn là tầng lớp nào? Vì sao?



Hình 1.4. Sơ đồ các tầng lớp trong xã hội Tây Âu trung đại

.....

.....

.....

.....

.....

2 Đóng vai một người nông dân trong lãnh địa phong kiến châu Âu được một người bạn ở thành thị mời đến đó chơi, em hãy viết cảm nhận hoặc vẽ lại quang cảnh thành thị nơi em đến thăm.

Gợi ý: Bài cảm nhận có thể bao gồm các nội dung sau:

- 1) Cảm nhận về quang cảnh và những hoạt động kinh tế chủ yếu của cư dân ở thành thị, nhấn mạnh đến những điểm giống và khác với lãnh địa phong kiến nơi em đang sinh sống.
- 2) Chia sẻ 1 điều em thích nhất và 1 điều em không thích ở thành thị đó.

