

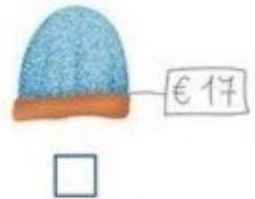
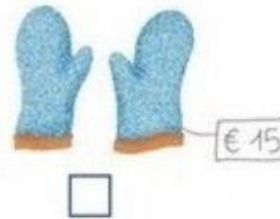


# LAVORIAMO CON L'EURO

- CHE COSA PUOI COMPRARE CON QUESTI SOLDI?**  
SEGNA CON UNA **X** LA RISPOSTA CORRETTA.



- RISOLVI IL PROBLEMA.**

Antonio compra un panino e una bibita e spende in tutto **7 EURO**. Il panino costa **4 EURO**. Quanto costa la bibita?

**OPERAZIONE**

$$\square \bigcirc \square = \square$$

**RISPOSTA**

La bibita costa  Euro.

