

PENILAIAN AKHIR TAHUN (PAT)

TAHUN PELAJARAN 2021-2022

UTAMA

SD/MI

MAPEL

(Pkl. 00.00 – 00.00)



SD NEGERI 87 MANIPI

Tema : 7. Benda, hewan, dan Tanaman di sekitarku
Jenjang : SD/ MI

Hari/ Tanggal :
Waktu :

1. Isikan identitas ke dalam Lembar Jawaban yang tersedia.
2. Jumlah soal sebanyak 10 butir soal, terdiri dari 4 butir soal pilihan ganda, 3 butir soal menjodohkan, dan 3 butir soal isian
3. Pada setiap butir soal pilihan ganda terdapat 3 (tiga) pilihan jawaban.
4. Pada setiap butir soal menjodohkan terdapat jawaban pasangan.
5. Isilah soal isian pada lembar jawaban yang telah disediakan dengan menggunakan pulpen tinta hitam.
6. Periksa dan bacalah soal-soal sebelum menjawabnya, pastikan setiap lembar soal memiliki nomor paket yang sama dengan nomor paket yang tertera pada cover soal.
7. Laporkan kepada pengawas apabila terdapat lembar soal yang kurang jelas, rusak, atau tidak lengkap.
8. Tersedia waktu 90 menit untuk mengerjakan paket soal tersebut.
9. Tidak diizinkan menggunakan kalkulator, HP, atau alat hitung lainnya.
10. Periksalah pekerjaannya sebelum diserahkan kepada pengawas ujian.
11. Lembar soal tidak boleh dicoret-coret.

A. PILIHAN GANDA

Jawablah pertanyaan di bawah ini dengan memberi tanda silang (×) pada pilihan jawaban yang paling benar!

1. Perhatikan gambar berikut!



Gambar 1



Gambar 2



Gambar 3

Sumber: Buku tematik kelas 1 tema 6 Hal. 17

Berdasarkan gambar tersebut, yang termasuk kebiasaan yang baik dalam menjaga kebersihan adalah

- A. gambar 1
- B. gambar 2
- C. gambar 3

2. Perhatikan gambar berikut!



Sumber: Buku tematik kelas 1 tema 6 Hal. 106

Gambar tersebut bertuliskan kalimat

- A. Maaf
- B. Perintah
- C. terima kasih

3. Perhatikan gambar berikut!



Sumber: Buku tematik kelas 1 tema 6 Hal. 129

Dari jumlah gambar tersebut, angka yang menempati nilai tempat satuan adalah

- A. 1
- B. 2
- C. 4

4. Perhatikan contoh gambar berikut!

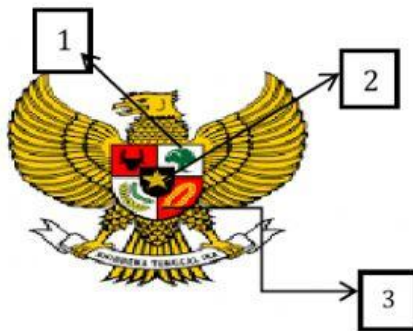


Sumber: Buku tematik kelas 1 tema 6 Hal. 104

Bahan alam yang digunakan untuk membuat karya pada gambar tersebut adalah

- A. Daun
- B. akar kayu
- C. tanah liat

5. Perhatikan gambar berikut!



Sumber: Buku tematik kelas 1 tema 6 Hal. 84

Berdasarkan gambar tersebut, Pasangkanlah simbol Sila Pancasila yang ditunjuk oleh angka dengan bunyi sila Pancasila yang sesuai!

Gambar	
1	●
2	●
3.	●

Bunyi sila Pancasila	
●	Ketuhanan Yang Maha Esa
●	Persatuan Indonesia
●	Kemanusiaan yang adil dan beradab

6. Perhatikan gambar berikut!



Gambar 1



Gambar 2



Gambar 3


Sumber: Buku tematik kelas 1 tema 6 Hal. 32

Berdasarkan gambar tersebut, pasangkanlah cara menjemur pakaian dengan tepat!


Gambar	
A	●
B	●
C	●

Cara menjemur	
●	Kibaskan
●	Peras
●	gantungkan


7. Perhatikan gambar berikut!



Gambar 1



gambar 2



gambar 3

Sumber: Buku tematik kelas 1 tema 6 Hal. 150

Pasangkan jumlah benda pada gambar tersebut dengan bilangan yang sesuai!

Gambar	
1	●
2	●
3	●

Bilangan	
●	81
●	72
●	64

8. Perhatikan gambar berikut!



Sumber: Buku tematik kelas 1 tema 6 Hal. 50

Bagian atap rumah tersebut berbentuk bangun datar

9. Perhatikan teks bergambar berikut!



Dari teks bergambar tersebut, kalimat ajakan diawali dengan kata ...

10. Perhatikan gambar berikut!



Sumber: Buku tematik kelas 1 tema 7 Hal. 146

Bahan untuk membuat karya pada gambar tersebut adalah