


CI SONO 12 MATITE.

TRE QUARTI (____) HANNO LA PUNTA TEMPERATA.

LE MATITE TEMPERATE SONO ____.

LE MATITE SENZA PUNTA SONO ____ E CORRISPONDONO A ____
DELLE MATITE TOTALI.




CI SONO 15 FIORI.

NE APPASSISCONO **DUE QUINTI** (____).

SONO APPASSITI ____ FIORI.

I FIORI NON APPASSITI SONO ____ E CORRISPONDONO A ____
DEI FIORI TOTALI.




NEL CORTILE CI SONO 14 ALBERI.

TRE SETTIMI (____) DEGLI ALBERI SONO FIORITI.

GLI ALBERI FIORITI SONO ____.

GLI ALBERI NON FIORITI SONO ____ E CORRISPONDONO AI ____ DI TUTTI GLI ALBERI.




CI SONO 24 BOTTIGLIE.

DUE SESTI (____) DELLE BOTTIGLIE CONTENGONO ACQUA FRIZZANTE.

LE BOTTIGLIE DI ACQUA FRIZZANTE SONO ____.

LE BOTTIGLIE DI ACQUA NATURALE SONO ____ E

CORRISPONDONO AI ____ DELLE BOTTIGLIE TOTALI.



IN UNA SCATOLA CI SONO 18 PENNE.

DUE NONI (____) DELLE PENNE NON SCRIVE.

____ PENNE NON FUNZIONANO.

LE PENNE CHE FUNZIONANO SONO ____ E CORRISPONDONO AI ____
DI TUTTE LE PENNE.