

## ÉVALUATIONS DE MATHÉMATIQUES 3<sup>ème</sup> trimestre

Compétences : Nommer, lire, écrire, représenter des nombres entiers.

Comprendre et utiliser des nombres entiers pour dénombrer, ordonner, repérer, comparer.

Résoudre des problèmes en utilisant des nombres entiers et le calcul.

Calculer avec des nombres entiers.

### NUMÉRATION

#### 1) Écris les nombres **en lettres** :

102 :

222 :

280 :

373 :

197 :

#### 2) Écris les nombres **en chiffres** :

trois cent vingt-neuf : .....

deux cent cinq : .....

cent onze : .....

cinq cents : .....

quatre cent quatorze : .....

cent quatre-vingt-quinze : .....

#### 3) Écris le nombre correspondant à chaque écriture :

1c 6d : .....

20d 3u : .....

1c12u : .....

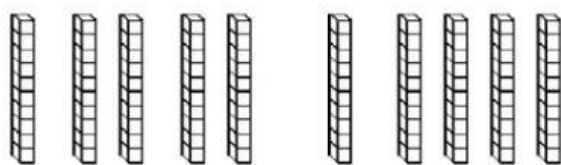
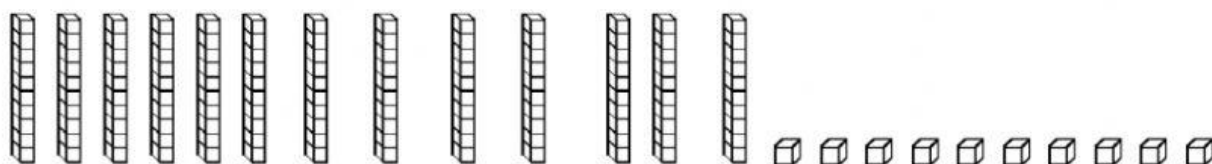
31d : .....

4c35u : .....

29d : .....

#### 4) Dénombrement

##### a) Dénombre en faisant des paquets et complète.




Il y a ..... centaines et .....

dizaines et ..... unités.

Il y a ..... d ..... u.

Le nombre est .....

**b) Dénombrer en faisant des paquets (en réorganisant par paquets).**



Il y a ..... centaines et ..... dizaines et ..... unités.

Il y a ..... d ..... u.

Le nombre est .....

**5) Écris le nombre avant et le nombre après, en complétant les cases vides du tableau.**

avant	nombre	après
	109	
	299	
	301	
	410	
	272	
	180	
	467	

6) **Encadre** les nombres par des **dizaines entières**.

Rappel : les dizaines entières se terminent toujours par un zéro.

dizaine inférieure	nombre	dizaine supérieure
	115	
	239	
	441	
	306	
	178	
	292	
	111	

7) **Range** les nombres suivants **du plus grand au plus petit**.

99 - 109 - 119 - 110 - 80 - 75 - 201 - 191 - 101 - 211

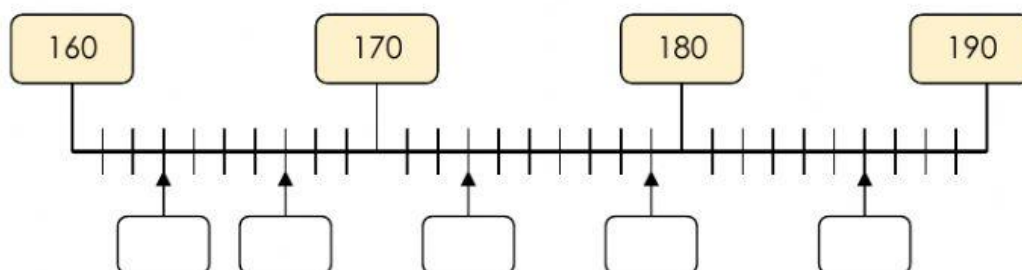
8) Repérer des nombres sur une droite graduée

a) **Situe** les nombres suivants **en les plaçant** sur la file numérique.

283 - 296 - 265 - 211 - 257 - 229 - 204 - 238



b) **Complète les étiquettes**.



c) Sous chaque nombre , place la couleur correspondante.

396 - 189 - 107 - 176 - 215 - 75 - 321 - 259 - 90 - 148



9) **Observe** chaque suite puis **complète**.

271-272-273-	-	-	-	-	-	-	-	-	-
311-310-309-	-	-	-	-	-	-	-	-	-
337- 347- 357-	-	-	-	-	-	-	-	-	-
444-434-424-	-	-	-	-	-	-	-	-	-

10) **Compare** les nombres avec les signes **<, > ou =**

109 .....11d	201.....199	125.....12d	330.....32d9u
327 .....3c27u	468.....490	550.....55d	293.....300

## CALCUL

Ajouter ou enlever des dizaines entières

1) Calcule les sommes et les différences

187+20=.....	175+30=.....	268+40=.....	149+30=.....
156+40=.....	117+50=.....	142+60=.....	253+50=.....
167-40=.....	178-30=.....	125-20=.....	274-50=.....
206+60=.....	189+20=.....	115-30=.....	365-50=.....



## 2) Ajouter ou enlever 9

**Rappel : Ajouter 9 revient à ajouter 10 puis à enlever 1**

**Enlever 9 revient à enlever 10 puis à ajouter 1**

$84+9=.....$

$$127-9=\dots\dots\dots$$

### 3) Calcule ces différences

$146 - 19 = \dots\dots\dots$

$209 - 78 = \dots\dots\dots$

4) Pose et calcule ces additions

$125+67+38$

[illegible]

5) Pose et calcule ces soustractions

243-162

[illegible]

