


LKPD MATEMATIKA

BANGUN DATAR

Nama :

No Absen :

A. Perhatikan Video dibawah ini!



B. Kerjakan soal berikut!

1. Apa nama bangun datar dibawah ini?



a. Persegi

c. Segitiga

b. Pesegi panjang

d. Lingkaran


2. Bagun datar berikut yang tidak memiliki titik sudut adalah?



a. Persegi



b. Trapesium



c. Lingkaran



d. Segitiga

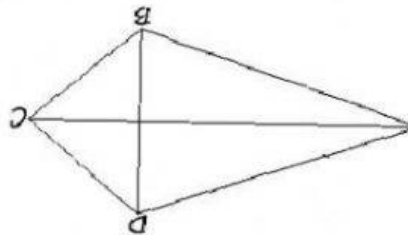
LKPD MATEMATIKA

BANGUN DATAR

3. Pilihlah nama yang sesuai dengan bangun dibawah ini!



4. Buatlah Garis Ke jawaban yang benar!



• Layang-layang

• Belah Ketupat

5. Tariklah rumus Luas yang sesuai dengan gambar!



$$L = \text{SISI} \times \text{SISI}$$

$$L = \pi r^2$$

$$L = \frac{1}{2} \times a \times t$$