

UNIDAD EDUCATIVA

NOMBRE:

CURSO:

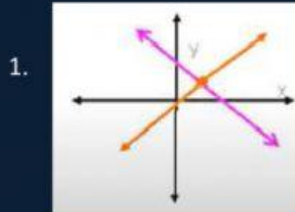
Destreza: M.4.1.54. Reconocer la intersección de dos rectas como la solución gráfica de un sistema de dos ecuaciones lineales con dos incógnitas.

SISTEMAS DE ECUACIONES MÉTODO GRÁFICO

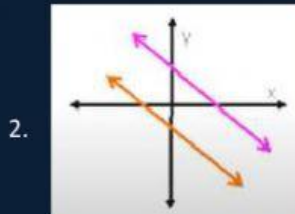
INSTRUCCIONES:

Lea detenidamente cada una de las preguntas y realice la acción correspondiente.

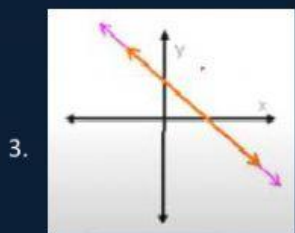
1. Relacione cada gráfica con su respectivo tipo de solución.



a. Infinitas Soluciones

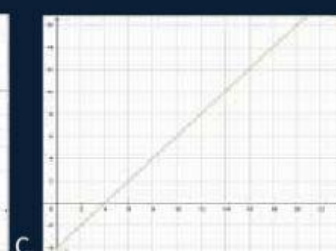
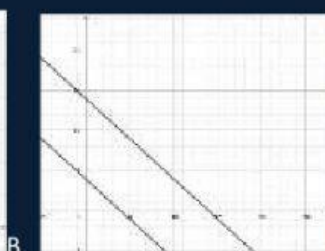


b. Solución única



c. Ninguna Solución

2. Determine la solución del siguiente sistema: $\begin{cases} x + y = 14 \\ x - y = 4 \end{cases}$



Respuesta: _____