



Nombre: _____

“Recuerda que todo lo puedes en Cristo, éxitos”

1. Resuelve los siguientes ejercicios.

$\begin{array}{r} \text{D} \quad \text{U} \\ 2 \quad 3 \\ + 1 \quad 2 \\ \hline \square \quad \square \end{array}$	$\begin{array}{r} \text{D} \quad \text{U} \\ 3 \quad 4 \\ + 1 \quad 2 \\ \hline \square \quad \square \end{array}$	$\begin{array}{r} \text{D} \quad \text{U} \\ 4 \quad 8 \\ - 2 \quad 5 \\ \hline \square \quad \square \end{array}$	$\begin{array}{r} \text{D} \quad \text{U} \\ 3 \quad 9 \\ - 1 \quad 8 \\ \hline \square \quad \square \end{array}$
--	--	--	--

2. escribe los números y realiza las operaciones.

De 48, resta 21. De 54, suma 42. De 84, resta 41. De 56, suma 31.

$\begin{array}{r} \text{D} \quad \text{U} \\ \square \quad \square \\ - \square \quad \square \\ \hline \square \quad \square \end{array}$	$\begin{array}{r} \text{D} \quad \text{U} \\ \square \quad \square \\ + \square \quad \square \\ \hline \square \quad \square \end{array}$	$\begin{array}{r} \text{D} \quad \text{U} \\ \square \quad \square \\ - \square \quad \square \\ \hline \square \quad \square \end{array}$	$\begin{array}{r} \text{D} \quad \text{U} \\ \square \quad \square \\ + \square \quad \square \\ \hline \square \quad \square \end{array}$
--	--	--	--

3. Resuelve los siguientes problemas.

En un salón hay 13 mujeres, 26 hombres y 11 niños. ¿Cuántas personas hay en el salón??

DATOS	RAZONAMIENTO	RESOLUCIÓN
		$\begin{array}{r} \text{D} \quad \text{U} \\ \square \quad \square \\ \square \quad \square \\ \square \quad \square \\ \hline \square \quad \square \end{array}$
<p>RESPUESTA: Hay <input style="width: 30px;" type="text"/> personas en el salón.</p>		

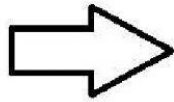
En un maratón participaron 78 corredores y terminaron la carrera 31. ¿Cuántos no llegaron a la meta?

DATOS	RAZONAMIENTO	RESOLUCIÓN
		$\begin{array}{r} \text{D} \quad \text{U} \\ \square \quad \square \\ \square \quad \square \\ \hline \square \quad \square \end{array}$
<p>RESPUESTA: No llegaron a la meta <input style="width: 30px;" type="text"/> corredores.</p>		

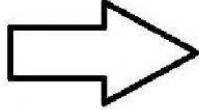
4. Continúa la serie añadiendo o quitando el número indicado.

<p> $5 \xrightarrow{+2} \bigcirc \xrightarrow{-3} \bigcirc \xrightarrow{+2} \bigcirc \xrightarrow{+5} \bigcirc$ $4 \xrightarrow{+3} \bigcirc \xrightarrow{-2} \bigcirc \xrightarrow{+4} \bigcirc \xrightarrow{+5} \bigcirc \xrightarrow{-3} \bigcirc$ </p>	<p> $5 \xrightarrow{+3} \bigcirc \xrightarrow{+7} \bigcirc \xrightarrow{+2} \bigcirc$ $6 \xrightarrow{-3} \bigcirc \xrightarrow{+4} \bigcirc \xrightarrow{-2} \bigcirc \xrightarrow{+4} \bigcirc \xrightarrow{+2} \bigcirc$ </p>
---	---

5. Coloca a los animales en su lugar correcto.



- El perro se encuentra en segundo lugar
- El pez está en el quinto lugar
- La serpiente está la primera
- En el décimo lugar está la ardilla
- El león es el sexto
- El conejo es el tercero
- El ratón es el noveno
- La gallina es la octava
- El gato ocupa el cuarto puesto
- En el séptimo lugar está pájaro



1°	
2°	
3°	
4°	
5°	
6°	
7°	
8°	
9°	
10°	

6. Cuenta el dinero que hay en cada cuadro y escríbelo.



dólares



centavos

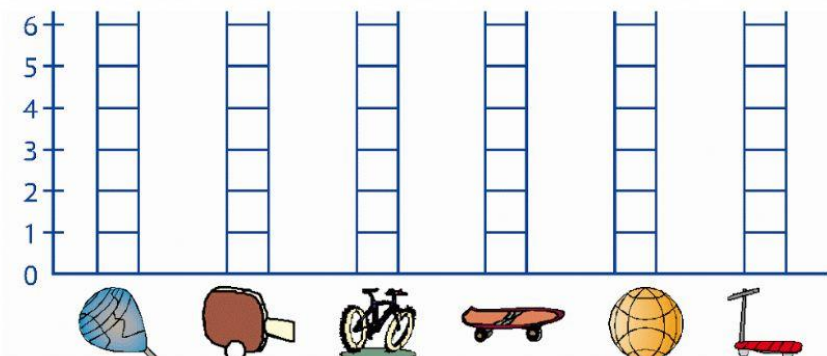



dólares









centavos

7. Observa los juguetes y contabilízalos.








8. **Combina** las figuras con los colores respectivos.



9. **Escoge** las probabilidades correctas.

<p>Sacar una bola amarilla</p>  <ul style="list-style-type: none"> <input type="checkbox"/> Seguro <input type="checkbox"/> Posible <input type="checkbox"/> Imposible 	<p>Sacar una bola verde</p>  <ul style="list-style-type: none"> <input type="checkbox"/> Seguro <input type="checkbox"/> Posible <input type="checkbox"/> Imposible
<p>Sacar una bola roja</p>  <ul style="list-style-type: none"> <input type="checkbox"/> Seguro <input type="checkbox"/> Posible <input type="checkbox"/> Imposible 	<p>Sacar una bola negra</p>  <ul style="list-style-type: none"> <input type="checkbox"/> Seguro <input type="checkbox"/> Posible <input type="checkbox"/> Imposible
<p>Sacar una bola morada</p>  <ul style="list-style-type: none"> <input type="checkbox"/> Seguro <input type="checkbox"/> Posible <input type="checkbox"/> Imposible 	<p>Sacar una bola amarilla</p>  <ul style="list-style-type: none"> <input type="checkbox"/> Seguro <input type="checkbox"/> Posible <input type="checkbox"/> Imposible
<p>Sacar una bola roja</p>  <ul style="list-style-type: none"> <input type="checkbox"/> Seguro <input type="checkbox"/> Posible <input type="checkbox"/> Imposible 	<p>Sacar una bola azul</p>  <ul style="list-style-type: none"> <input type="checkbox"/> Seguro <input type="checkbox"/> Posible <input type="checkbox"/> Imposible

10. **Escoge** el orden correcto de los días de la semana y de los meses del año.

SEMANA



MESES

