

Mata pelajaran : Tematik Matematika

Kelas : IV (empat)

Nama Siswa :

A. PILIHAN GANDA

Jawablah pertanyaan di bawah ini dengan memberi tanda silang (×) pada pilihan jawaban yang paling benar!

1. Perhatikan gambar dibawah ini!



22

Keliling persegi ABCD sama dengan jumlah panjang keempat sisinya. Persegi mempunyai empat sisi yang sama panjang. Berdasarkan gambar diatas hitunglah jumlah kelilingnya....

- A. 88 cm
 - B. 78 cm
 - C. 77 cm
 - D. 68 cm
2. Perhatikan gambar berikut!



Panjang alas Segitiga di atas 4 cm, Sedangkan tingginya 8 cm. hitunglah luas segitiga tersebut...

- A. 32 cm^2
- B. 24 cm^2
- C. 17 cm^2
- D. 16 cm^2

B. PILIHAN GANDA KOMPLEKS

3. Perhatikan Gambar berikut!



Berdasarkan gambar diagram batang di atas berilah tanda centang (✓) untuk pernyataan yang **benar** atau **salah** pada kolom yang tersedia.

Pernyataan	Benar	Salah
Banyak siswa yang mempunyai berat badan 38 sebanyak 2 orang		
Banyak siswa dengan berat badan 35 kg adalah 5 orang		
6 siswa yang mempunyai berat badan 37 kg		
4 siswa yang berat badannya 36 kg		

4. Perhatikan data di bawah ini!

Data Luas Wilayah Setiap Provinsi di Pulau Jawa

Provinsi	Luas Wilayah km^2
Banten	9.161
Jawa Barat	35.378
DKI Jakarta	664
Jawa Tengah	32.801
Yogyakarta	3.186
Jawa Timur	47.800

Berilah tanda centang (✓) untuk pernyataan yang **benar** atau **salah** pada kolom yang tersedia di bawah ini...

Pernyataan	Benar	Salah
Provinsi Jawa Barat mempunyai luas wilayah 32.801		
Provinsi DKI Jakarta yang luas wilayahnya paling kecil		
Provinsi Jawa Tengah yang luas wilayahnya paling besar		
Provinsi Jawa Timur mempunyai luas wilayah 47.800 (Km)		

C. MENJODOHKAN

5. Perhatikan gambar berikut!



(Gambar A)



(Gambar B)



(Gambar C)



(Gambar D)

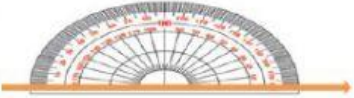



Pasangkanlah Jenis-jenis sudut berdasarkan gambar dengan cara menarik garis!

Jenis-Jenis Sudut	
Sudut Lancip	•
Sudut Siku-siku	•
Sudut Tumpul	•
Sudut Lurus	•

Gambar	
•	A
•	B
•	C
•	D

6. Busur derajat adalah alat ukur baku untuk mengukur besar sudut pada bangun datar.

Hubungkan gambar busur derajat dan jawaban yang tepat dengan menarik garis!

Gambar		Derajat	
	•	•	60°
	•	•	90°
	•	•	120°
	•	•	180°


D. ISIAN SINGKAT

7. Sebuah segitiga memiliki panjang sisi 5 cm, 12 cm, dan 13 cm berapa cm jumlah keliling segitiga tersebut?
8. Hasil pangkat dua dari bilangan 11^2 adalah ...

E. URAIAN

Jawablah pertanyaan berikut dengan tepat!

9. Perhatikan gambar di bawah ini!



Tentukan keliling persegi panjang pada gambar di atas!

10. Perhatikan tabel di bawah ini!

Jenis Ikan	Banyak Ikan (ekor)
Lele	550
Mujair	450
Bawal	350
Gurami	400

Buatlah diagram batang berdasarkan tabel tersebut...