



PENILAIAN AKHIR TAHUN (PAT)
SDN KEBON PALA 11 PAGI
KECAMATAN MAKASAR JAKARTA TIMUR
TAHUN PELAJARAN 2021/2022



Tema : 8	Nama Siswa :
Muatan Pelajaran : PPKn, Bhs. Indonesia, Matematika, SBdP	Kelas/Smt. : III (Tiga)/ 2 (Dua)
	Hari/Tanggal :

Perhatikan gambar!



1. Gambar tersebut merupakan lambang ...
 - a. pramuka
 - b. lalu lintas
 - c. Negara
 - d. sekolah
2. Jumlah bulu pada leher Garuda Pancasila melambangkan ...
 - a. tahun kemerdekaan Indonesia
 - b. bulan kemerdekaan Indonesia
 - c. hari kemerdekaan Indonesia
 - d. kelahiran Garuda Pancasila
3. Lambang sila keempat pada Pancasila yaitu ...
 - a. bintang
 - b. padi dan kapas
 - c. kepala banteng

d. pohon beringin

4. Keadilan sosial bagi seluruh rakyat Indonesia merupakan bunyi Pancasila sila ke ...

a. 2

b. 3

c. 4

d. 5

5. Keputusan hasil musyawarah harus diterima dengan ...

a. lapang dada

b. terpaksa

c. menggerutu

d. kesal

6. Perhatikan gambar!



Gambar tersebut merupakan contoh gotong royong di lingkungan ...

a. rumah

b. keluarga

c. sekolah

d. masyarakat

7. Kerjasama membuat pekerjaan yang sulit menjadi ...

a. tambah sulit

b. ringan

c. lama

d. berat

8. Kerjasama dapat berjalan dengan baik jika semua warga ...

a. saling memerintah

b. saling membantu

- c. saling mementingkan diri sendiri
 - d. bekerja sendiri sendiri
9. Kerjasama adalah salah satu bentuk pengamalan dari Pancasila yaitu sila ke ...
- a. 4
 - b. 3
 - c. 2
 - d. 1
10. Berikut ini contoh kerjasama di rumah adalah ...
- a. membersihkan sungai
 - b. mengelap kaca kelas
 - c. membersihkan halaman rumah
 - d. membersihkan meja kelas
11. Lambang gerakan pramuka adalah ...
- a. tunas kelapa
 - b. burung garuda
 - c. padi dan kapas
 - d. kelapa
12. Perhatikan gambar!



- Rambu lalu lintas di atas mengandung arti ...
- a. dilarang berhenti
 - b. belok kiri
 - c. dilarang belok kiri
 - d. dilarang belok kanan
13. Sila Ketuhanan Yang Maha Esa pada Pancasila dilambangkan dengan ...
- a. kepala banteng
 - b. pohon beringin
 - c. bintang
 - d. Rantai
14. Perhatikan gambar berikut !



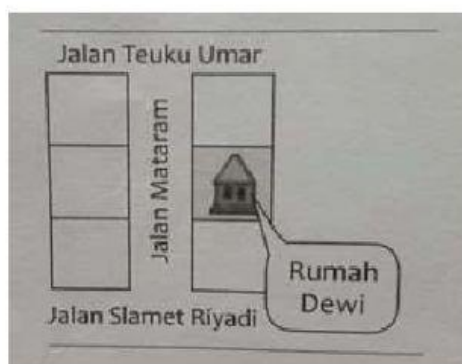
Gambar tersebut merupakan lambing dalam organisasi ...

- a. pramuka
 - b. OSIS
 - c. palang merah
 - d. paskibra
15. Tertib berkendara di jalan yaitu ...
- a. mematuhi lampu lalu lintas
 - b. mengabaikan lampu lalu lintas
 - c. melanggar lampu lalu lintas
 - d. membiarkan lampu lalu lintas menyala
16. Rambu peringatan contohnya adalah ...
- a. dilarang berbelok
 - b. dilarang masuk
 - c. tanjakan tajam
 - d. dilarang berhenti
17. Perhatikan gambar!



Gambar rambu lalu lintas di atas artinya dilarang ...

- a. berhenti
 - b. berjalan terus
 - c. parkir
 - d. belok kanan
18. Tempat untuk menyebrang jalan disebut ...
- a. trotoar
 - b. pedestrian
 - c. zebra cross
 - d. pinggir jalan
19. Perhatikan denah berikut!



Rumah Dewi terletak di jalan ...

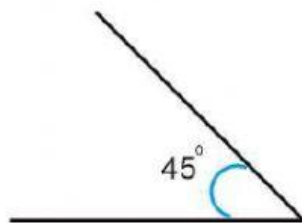
- a. Teuku Umar
- b. Mataram
- c. Slamet Riyadi
- d. Cenderawasih

20. Denah dapat menunjukkan ...

- a. letak kota, jalan, gedung, dan ruang ruang
- b. letak sungai dan jalan raya
- c. ketinggian tempat
- d. daratan

21. Benda berikut ini yang memiliki sudut adalah

- a. Uang koin
- b. Bola
- c. Piring
- d. Buku

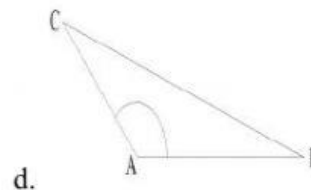
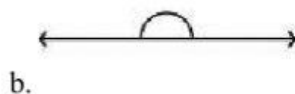
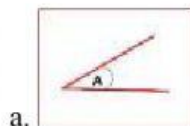


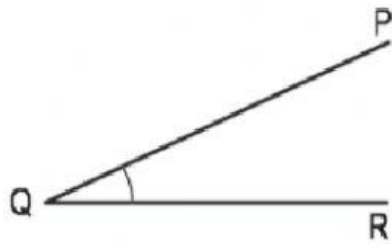
22.

Gambar tersebut merupakan termasuk gambar sudut

- a. Siku-siku
- b. Lancip
- c. Tumpul
- d. Lonjong


23. Berikut yang merupakan sudut tumpul adalah....





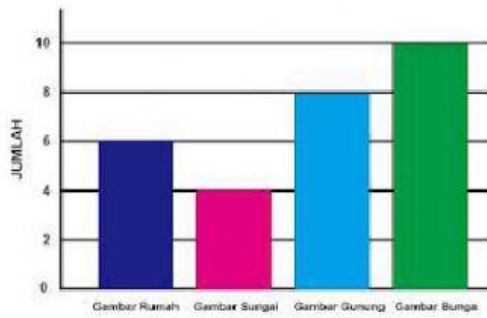
24. Titik sudut pada gambar tersebut adalah ...
- P
 - Q
 - PQ
 - QR

25. Perhatikan gambar bangun datar berikut!



Bangun datar tersebut yang mempunyai 4 titik sudut ditunjukkan oleh nomor

- 1, 2 dan 3
 - 2 dan 4
 - 3 dan 4
 - 2, 3 dan 4
26. Bangun persegi panjang semua titik sudutnya mempunyai ukuran yang
- Berbeda-beda
 - Sama besar
 - Semakin mengecil
 - Tidak sama
27. Bangun datar berikut yang memiliki empat sisi yang sama adalah....
- Jajar genjang
 - Segitiga siku-siku
 - Persegi Panjang
 - Persegi
28. Perhatikan diagram berikut untuk mengisi soal nomor 28 – 29!



Gambar yang paling sedikit dibuat siswa kelas 3 SD adalah

- a. Gambar bunga
- b. Gambar sungai
- c. Gambar gunung
- d. Gambar rumah

29. Selisih jumlah siswa yang menggambar gunung dan menggambar rumah adalah

- a. 6
- b. 8
- c. 2
- d. 14

30. Jumlah seluruh hasil gambar yang telah di buat kelas 3 SD pada diagram di atas adalah...


- a. 28 gambar
- b. 30 gambar
- c. 25 gambar
- d. 10 gambar

31. Gambar berikut ini memiliki satu unsur utama seni rupa yaitu...



- a. Garis
- b. Titik
- c. Warna
- d. Bidang

32. Gambar berikut ini memiliki satu unsur utama seni rupa yaitu...



- a. warna
- b. tinggi
- c. ukuran
- d. garis

33. Lagu “Pantun Pramuka” diciptakan oleh ...

- a. AT Mahmud
- b. Ibu Sud
- c. Pak Kasur
- d. Ismail Marzuki

34. Gerakan kuat dan gerak lemah dalam tari dipengaruhi oleh . . . musik pengiringnya

- b. gerak
- c. tempo
- d. properti
- e. alat dan bahan

35. Pola irama dalam setiap baris lagu harus sesuai dengan. . .

- a. Nada
- b. Judul lagu
- c. Syair lagu
- d. Musik

36. Musik dengan tempo cepat biasanya digunakan untuk mengiringi gerak...

- a. lambat
- b. lemah
- c. lembut
- d. kuat

37. Pada tari tempurung property utama tarinya adalah ...

- a. kelapa
- b. tempurung kelapa
- c. tali
- d. kulit kelapa

38. Perhatikan gambar berikut ini!

Gerakan tersebut adalah menepukkan tangan ke depan atas dan ke bawah belakang sambil ...



- a. jalan di tempat
- b. Langkah tegak
- c. Berjalan santai
- d. Berjalan dalam barisan



39. Perhatikan gambar berikut ini!

Membuat rumah-rumahan seperti gambar di atas menggunakan teknik ...



- a. Memotong, melipat, dan menempel
- b. Memotong, menyambungkan dan menggunting
- c. Menyambungkan, melipat dan menempel
- d. Menempel, menyambungkan dan melipat

40. Pernyataan yang benar tentang teknik lipat adalah ...

- a. Kayu termasuk bahan yang dapat digunakan dalam teknik lipat
- b. Teknik lipat tidak menggunakan alat
- c. Alat yang digunakan dalam teknik lipat adalah pisau
- d. Alat yang digunakan dalam teknik lipat adalah lem