



PENILAIAN AKHIR SEMESTER II
SDN KEBON PALA 11 PAGI
KECAMATAN MAKASAR JAKARTA TIMUR
TAHUN PELAJARAN 2021/2022



Mata Pelajaran : Tema 6

Kelas / Smt. : III (Tiga) / II (Dua)

Nama Siswa :

Hari / Tanggal :

PKN	BAHASA INDONESIA	MATEMATIKA	SBDP

Petunjuk Umum !

1. Baca doa sebelum mengerjakan soal, kemudian tulis nama dan nomor pada kolom yang disediakan.
2. Baca dengan seksama sebelum memberi jawaban.
3. Dahulukan menjawab soal - soal yang dianggap mudah
4. Periksa kembali pekerjaanmu sebelum diserahkan ke Bapak / ibu guru.

I. Berilah tanda silang (x) pada jawaban a, b, c, atau d pada jawaban yang benar !

Tabel berikut untuk menjawab soal nomor 1 dan 2.

A	Marta menghabiskan air minum yang telah diambil
B	Ibu menyiram tanaman dengan air yang banyak
C	Galih dan keluarga menggunakan air untuk minum
D	Umar dan teman – teman menggunakan air secukupnya untuk mengepel lantai kelas

1. Kewajiban terkait hal air ditunjukkan pada huruf
 - a. A dan B
 - b. B dan C
 - c. C dan D
 - d. D dan A
2. Hak terkait air di sekolah ditunjukkan pada huruf
 - a. A
 - b. B
 - c. C
 - d. D
3. Contoh kewajiban kita sebagai warga terkait bahan bakar minyak adalah
 - a. membiarkan kompor minyak selalu menyala
 - b. menggunakan peralatan yang boros energi
 - c. mengurangi pemakaian secara pribadi
 - d. selalu menggunakan kendaraan pribadi walaupun jarak dekat
4. Menghormati dan menghargai guru di sekolah termasuk ... siswa.
 - a. hak
 - b. kewajiban
 - c. perintah
 - d. aturan
5. Dini dan teman – teman rajin melaksanakan piket kelas sesuai jadwal. Hak yang didapat oleh Dini dan teman satu kelasnya adalah
 - a. mendapat keamanan di kelas
 - b. mendapat nilai bagus dari guru kelas
 - c. mendapat pujian dari kepala sekolah
 - d. mendapat rasa nyaman saat belajar di kelas

6. Contoh kewajiban terkait hal bermain adalah
- mendapat perlakuan adil
 - mendapat kesempatan bermain
 - merapikan alat permainan setelah selesai
 - menggunakan alat permainan saat bermain

Tabel berikut untuk menjawab soal nomor 7 dan 8.

Nomor	Penyataan
I	Menyapu halaman rumah
II	Mendapat perlakuan adil Ketika bermain
III	Membuang sampah pada tempatnya
IV	Mendapatkan lingkungan yang bersih
V	Menggunakan alat permainan

7. Kewajiban terkait kebersihan dilingkungan rumah terdapat pada nomor dan
- I dan III
 - II dan IV
 - III dan V
 - IV dan V
8. Hak terkait kebersihan di lingkungan rumah terdapat pada nomor
- I
 - II
 - III
 - IV
9. Azizah dan keluarga bermusyawarah menentukan tempat liburan , setiap anggota keluarga berhak ... saat musyawarah.
- mendengar pendapat setiap anggota keluarga
 - menyampaikan pendapat
 - menghargai pendapat
 - menjalankan keputusan
10. Lucy selalu selalu mematikan lampu dirumah yang tidak digunakan, Lucy telah melakukan kegiatan untuk berhemat
- energi
 - BBM
 - gas
 - listrik

Gambar sumber energi berikut untuk menjawab soal nomor 11 dan 12



11. Sumber energi untuk menggerakkan perahu layar ditunjukkan oleh gambar
- 1
 - 2
 - 3
 - 4

12. Sumber energi yang digunakan manusia untuk melakukan aktifitas ditunjukkan oleh gambar

....

- a. 4
- b. 3
- c. 2
- d. 1

13. Aku berupa sumber energi. aku termasuk sumber energi yang tidak dapat diperbarui, aku menghasilkan energi kimia, aku dapat diolah menjadi BBM, aku adalah

- a. air
- b. angin
- c. matahari
- d. minyak bumi

14. Perubahan energi listrik menjadi energi bunyi terjadi pada penggunaan alat

- a. blender
- b. radio
- c. lemari es
- d. oven

Perhatikan gambar berikut !



15. Alat yang mengalami perubahan energi listrik menjadi energi panas ditunjukkan oleh nomor

....

- a. 1 dan 3
- b. 1 dan 4
- c. 2 dan 3
- d. 2 dan 4

Bacalah bacaan berikut ini!

Biodisel adalah bahan bakar pengganti solar yang terbuat dari tumbuhan. Tumbuhan yang dapat dijadikan sebagai bahan bakar adalah tumbuhan berbiji yang mengandung minyak, sebagai contoh tumbuhan jarak.



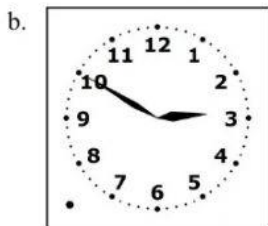

16. Biodisel merupakan sumber energi alternatif yang dapat dihasilkan dari pengolahan tumbuhan

- a. sagu
- b. jarak
- c. kentang
- d. singkong

17. Kekurangan dari sumber energi alternatif yang dapat digunakan untuk proses memasak adalah

- a. ramah lingkungan
- b. selalu tersedia di alam
- c. energi yang dihasilkan besar

- d. butuh biaya besar untuk mengolah
18. Sumber energi alternatif yang dapat digunakan untuk proses memasak adalah
- elpiji
 - minyak tanah
 - biogas
 - biodisel
19. Contoh cara menghemat energi listrik rumah tangga adalah
- menyalakan kipas angin sepanjang hari
 - mematikan TV saat tidak dilihat
 - menyalakan lampu pada siang hari
 - menyalakan raio sepanjang hari
20. Manfaat menghemat penggunaan energi listrik adalah
- menjaga kelestarian bumi
 - menambah biaya tagihan listrik
 - membuat ruangan menjadi panas
 - membuat peralatan elektronik menjadi rusak
21. Adik bermain pukul 14.00 sampai pukul 16.00. Lama waktu Adik bermain adalah...jam.
- 3
 - 2
 - 1
 - 4
22. Jarum panjang terletak pada angka 6 dan jarum pendek terletak di antara angka 10 dan 11 menunjukkan pukul ...
- 10.15
 - 10.30
 - 11.15
 - 11.30
23. Pukul 02.50 ditunjukkan oleh gambar ...



24. Libur sekolah dimulai pada tanggal 3 Juli. Aulia menghabiskan libur awal sekolah dari hari pertama di rumah nenek. Tiga hari sebelum masuk sekolah, Aulia pulang. Tanggal 13 Juli, Aulia masuk. Aulia menghabiskan waktu libur di rumah nenek sebanyak...hari.
- 8
 - 9
 - 6
 - 7
25. Syaqla bermain sejak pukul 13.30. Karena ia Lelah, ia berbaring di Kasur dan tertidur sampai pukul 16.00. Lalu ia mandi selama 20 menit kemudian belajar dan selesai belajar pukul 17.00.
Lama waktu Syaqla belajar adalah...
- 20 menit
 - 30 menit
 - 40 menit
 - 50 menit
26. Keysa belajar menari dari pukul 10.00. Jika Keysa belajar menari selama 70 menit, maka Keysa selesai belajar menari pukul...
- 12.10
 - 12.50
 - 11.10
 - 11.30

27. Perhatikan gambar berikut !



Jika hari ini bulan Oktober 2020. Sisa waktu untuk minuman seperti gambar diatas adalah...bulan.

- 1
 - 2
 - 3
 - 4
28. Perhatikan gambar berikut !




Minuman seperti gambar di atas baik digunakan sebelum ...

- 17 September 2020
 - 17 Oktober 2020
 - 17 November 2020
 - 17 Desember 2020
29. Rina memasak menggunakan sebuah briket. Briket tersebut digunakan untuk memasak dari pukul 05.00 sampai 06.20. Rina memasak selama...
- 1 jam 20 menit
 - 1 jam 40 menit

- c. 2 jam 20 menit
- d. 2 jam 40 menit

30. Perhatikan Gambar berikut !



Luas daerah yang berwarna merah adalah ...

- a. 20 persegi satuan
- b. 21 persegi satuan
- c. 22 persegi satuan
- d. 23 persegi satuan

31. Perhatikan lirik lagu di bawah !

Matahari

Ciptaan : Nurhasah

Matahari bersinar terang

Burung-burung pun berkicau riang

...

Tandanya hari mulai siang

Lanjutan lirik lagu baris ketiga pada lagu di atas adalah ...

- a. Matahari sumber kehidupan
 - b. Tandanya hari mulai siang
 - c. Harum semerbak bunga berkembang
 - d. Cahayanya bersinar terang
32. Lagu “Matahari” ciptaan Nurhasanah dinyanyikan dengan diiringi alat musik ritmis. Yang termasuk alat musik ritmis adalah...
- a. marakas dan kastayet
 - b. kastayet dan gitar
 - c. tamborin dan piano
 - d. rebana dan biola

33. Perhatikan gambar berikut !



Posisi kaki yang terdapat pada gambar tersebut adalah...

- a. ditekuk
 - b. menyilang
 - c. memutar
 - d. diangkat tinggi
34. Perhatikan langkah-langkah kegiatan di bawah !
- 1) Kaki kanan dibuka ke samping kanan
 - 2) Kaki kiri merapat sambil menekuk lutut
 - 3) Badan juga dicondongkan ke kanan

- 4) Gantian ke arah kiri dengan Gerakan yang sama
 - 5) Lalu Kembali ke posisi semula
- Gambar gerakan yang sesuai dengan langkah-langkah tersebut adalah...



35. Perhatikan gambar berikut !



Gerakan tangan pada gambar tersebut adalah ...

- a. Kedua tangan diayunkan kedepan sampai batas dada
 - b. Kedua tangan diayunkan ke samping kanan dan kiri
 - c. Kedua tangan diayunkan ke kanan saja
 - d. Kedua tangan diayunkan ke kiri saja
36. Menghias layang-layang dengan motif garis, bidang, dan warna merupakan contoh karya seni...
- a. imajinatif
 - b. dekoratif
 - c. tiga dimensi
 - d. empat dimensi
37. Perhatikan gambar berikut !



Motif pada layang-layang berikut adalah tentang...

- a. alam
- b. hewan
- c. tumbuhan
- d. batik

38. Contoh alat permainan yang dapat dijadikan karya seni dekoratif adalah...

- a. layang-layang
- b. bola
- c. engrang
- d. tali

39. Gerak lemah dalam tari menggambarkan perasaan ...

- a. riang gembira
- b. semangat
- c. kelembutan
- d. kemarahan

40. Pada bahan kincir angin yang kita pegang saat kincir berputar adalah...

- a. sedotan
- b. jarum pentul
- c. manik-manik
- d. baling-baling

