

**PENILAIAN AKHIR TAHUN (PAT)
SEMESTER GENAP
TAHUN PELAJARAN 2021/2022
SDN KEBON PALA**

Tema	: 5 (Cuaca)	Kelas : III (Tiga)
Hari / Tanggal	: _____	Waktu : 90 menit

- I. Berilah tanda silang (x) pada salah satu huruf A, B, C atau D pada jawaban yang paling tepat!

Pkn

1. Perhatikan gambar dibawah ini!



Jika keadaan disekitar rumah seperti pada gambar, kewajiban yang harus dilakukan adalah

- A. tetap membuang sampah disungai
 - B. menebang pohon sembarangan
 - C. membuat peraturan dilarang membuang sampah di sungai
 - D. memperbanyak membangun perumahan
2. Suku bangsa Indonesia sangat beragam. Suku yang berasal dari daerah Yogyakarta adalah
- A. suku Batak
 - B. suku Jawa
 - C. suku Dayak
 - D. suku Bugis
3. Contoh kegiatan yang dapat dilakukan saat melakukan kerja bakti di lingkungan sekitar adalah
- A. menonton tv bersama teman
 - B. membersihkan saluran air dan bantaran sungai
 - C. mencabut daun-daun pepohonan
 - D. membuang sampah di pinggir jalan
4. Sikap bersatu di lingkungan yang sedang terkena bencana gunung meletus adalah
- A. ikut bergotong royong membersihkan fasilitas umum
 - B. ikut membantu ibu mencuci piring
 - C. menanyakan kabar keluarga yang terkena bencana
 - D. ikut membersihkan sisa sisa banjir supaya bersih
5. Tindakan yang menggambarkan bersatu dalam keberagaman adalah
- A. egois
 - B. toleransi antar sesama teman
 - C. berkelahi sesama teman
 - D. menjauhi teman karena kebudayaan yang berbeda

6. Selain menjadikan lingkungan bersih dari sampah, manfaat kerja bakti di lingkungan sekitar adalah
- mengotori lingkungan
 - membuat orang malas
 - membuat badan menjadi capek
 - mempererat tali persaudaran antar sesama

7. Perhatikan gambar berikut!



Setiap daerah di Indonesia memiliki tarian adat yang berbeda. Tarian pada gambar di atas merupakan tarian adat dari daerah

- Sumatera Utara
 - Jawa Tengah
 - Bali
 - Sulawesi Selatan
8. Piket kelas selalu dilakukan secara bersama- sama supaya pekerjaan menjadi ...
- cepat selesai
 - lebih lama
 - lebih banyak
 - lebih lambat
9. Linda berbagi makanan khas daerahnya kepada Dinda. Namun Dinda kurang menyukai makanan tersebut. Sikap yang sebaiknya dilakukan Dinda adalah ...
- menolak makanan yang diberikan Linda
 - membuang makanan ke tempat sampah
 - mengejek makanan Linda karena terlihat aneh
 - menerima lalu memberikannya kepada keluarga di rumah
10. Bekerja sama tidak boleh dilakukan ketika sedang ...
- tugas presentasi
 - membersihkan kelas
 - mengerjakan proyek
 - ulangan tengah semester

Bahasa Indonesia

11. Pengertian cuaca di bawah ini yang benar adalah
- keadaan posisi dataran pada suatu tempat
 - keadaan udara pada suatu tempat
 - keadaan curah hujan pada suatu tempat
 - keadaan perekonomian pada suatu tempat

12. Perhatikan tabel berikut!

NO	Keadaan Cuaca
1	Suhu
2	Hujan
3	Kelembaban
4	Tekanan Udara

Berdasarkan tabel di atas, yang termasuk unsur-unsur cuaca adalah

- A. 1 dan 2
- B. 2 dan 3
- C. 3 dan 4
- D. 1, 3 dan 4

13. Ketika cuaca hujan, aktivitas yang dapat dilakukan adalah

- A. bermain sepak bola
- B. berolahraga di lapangan
- C. bermain layang- layang
- D. membaca buku di rumah

14. Penyakit yang biasa muncul pada saat cuaca ekstrem, adalah

- A. flu
- B. maag
- C. sakit perut
- D. sakit gigi

15. Pak Sandi seorang petani garam, ia selalu mencari informasi tentang kemungkinan cuaca yang akan terjadi. Pak Sandi dapat melihat berita di televisi tentang

- A. dampak cuaca
- B. pengertian cuaca
- C. prakiraan cuaca
- D. hiburan cuaca

16. Di bawah ini yang termasuk pengertian iklim adalah

- A. keadaan udara pada tempat dan waktu tertentu
- B. informasi tentang keadaan cuaca
- C. daerah yang terletak di garis khatulistiwa
- D. lamanya keadaan cuaca di suatu daerah tertentu

17. Perhatikan gambar berikut!



Gambar di atas menunjukkan keadaan cuaca sedang

- A. berawan
- B. cerah
- C. mendung
- D. hujan

18. Bacalah teks berikut sebelum menjawab soal nomor 18!

Perubahan cuaca yang tidak menentu selama satu minggu terakhir membuat petani di desa Sekarmamur menjadi kesulitan dalam mengeringkan hasil panen padi. Padi yang sudah dipanen sulit dijemur di tempat terbuka karena cuaca yang awalnya cerah bisa berubah seketika menjadi hujan. Pagi hari bisa terlihat cerah, namun siang harinya bisa hujan deras. Para petani lalu menjadikan ruang-ruang kosong di rumahnya untuk menggelar padinya. Sebagian petani memberikan lampu pemanas di atas gelaran padi agar padi yang sudah panen cepat mengering. Padi yang basah bisa tumbuh berkecambah jika tetap dibiarkan. Hal ini bisa merugikan petani.

Yang dilakukan petani desa Sekarmakmur untuk bisa mengeringkan padinya adalah

- A. menggelar padinya di ruang-ruang kosong di rumah
- B. menjemur di saat matahari tampak saja
- C. membeli alat pemanas padi
- D. segera menjual padinya ke pasar

19. Salah satu dampak perubahan cuaca adalah ...

- A. tubuh rentang terserang penyakit
- B. langit selalu terlihat gelap
- C. sungai menjadi jernih
- D. tanaman tumbuh dengan subur

20. Kosakata berikut yang berhubungan dengan iklim di Indonesia adalah ...

- A. salju
- B. tropis
- C. subtropis
- D. gugur

Matematika


21. Perhatikan gambar berikut!



Tanda yang benar berdasarkan pecahan pada gambar adalah

- a. $\frac{5}{8} > \frac{3}{8}$
- b. $\frac{5}{8} < \frac{4}{8}$
- c. $\frac{5}{8} > \frac{2}{8}$
- d. $\frac{3}{5} < \frac{6}{2}$

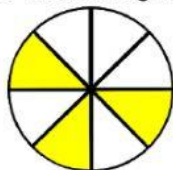
22. Perhatikan gambar berikut!



Ibu membeli pizza dan memotongnya menjadi beberapa bagian seperti pada gambar. Bagian yang hilang sudah dimakan Ina. Sisa potongan pizza ibu jika ditulis dalam bilangan adalah

- A. $\frac{4}{4}$
- B. $\frac{3}{4}$
- C. $\frac{2}{4}$
- D. $\frac{1}{4}$

23. Perhatikan gambar berikut!




Gambar di atas menunjukkan pecahan sebesar

- A. $\frac{3}{8}$
- B. $\frac{4}{8}$
- C. $\frac{5}{8}$
- D. $\frac{6}{8}$

24. Siti membawa buah apel dan membagikannya kepada 8 temannya. 1 buah apel dibagi menjadi 8 bagian. Bagian yang akan diperoleh setiap teman siti adalah

- A. $\frac{1}{8}$
- B. $\frac{2}{8}$
- C. $\frac{4}{8}$
- D. $\frac{8}{8}$

25. Perhatikan gambar berikut!



Bagian yang sudah dimakan Lani sesuai gambar di atas adalah

- A. $\frac{1}{4}$
- B. $\frac{3}{4}$
- C. $\frac{2}{4}$
- D. $\frac{4}{4}$

26. Rini mempunyai 1 kg tepung terigu. Ia telah menggunakan tepung terigu sebanyak $\frac{3}{5}$ kg untuk membuat kue. Sisa tepung terigu Rini adalah

- A. $\frac{4}{5}$
- B. $\frac{3}{5}$
- C. $\frac{2}{5}$
- D. $\frac{1}{5}$

27. Risa mempunyai 1 loyang roti yang dipotong menjadi 7 bagian. Pada saat di rumah, ayah makan 2 potong bagian roti dan Adik Risa memakan 1 potong bagian roti. Sisa roti yang dimakan ayah dan adik Risa adalah bagian

- A. $\frac{1}{7}$
- B. $\frac{2}{7}$
- C. $\frac{3}{7}$
- D. $\frac{4}{7}$

28. Perhatikan pecahan berikut!

- (1) $\frac{4}{6}$
- (2) $\frac{7}{6}$
- (3) $\frac{2}{6}$
- (4) $\frac{9}{6}$

Pecahan yang lebih besar dari $\frac{5}{6}$ ditunjukkan oleh nomor ...

- A. (1) dan (2)
- B. (1) dan (3)
- C. (2) dan (3)
- D. (2) dan (4)

29. Pengurangan pecahan berpenyebut sama dilakukan pada ...

- A. pembilangnya
- B. penyebutnya
- C. penyebut dan pembilang
- D. angkanya

30. Perhatikan pecahan berikut!

(1) $\frac{14}{21} + \frac{4}{21}$

(2) $\frac{8}{21} + \frac{4}{21}$

(3) $\frac{12}{21} + \frac{4}{21}$

(4) $\frac{8}{21} + \frac{8}{21}$

Penjumlahan pecahan yang hasilnya $\frac{16}{21}$ ditunjukkan oleh nomor ...

A. (1) dan (2)

B. (2) dan (3)

C. (2) dan (4)

D. (3) dan (4)

SBdP

31. Perhatikan gambar berikut!



Nama motif dekoratif pada gambar adalah

A. motif Pagsulan Sangbua

B. motif Ne' Limbongan

C. motif Paq Tedong

D. motif Paqkadang Pao

32. Berikut yang bukan merupakan unsur - unsur karya dekoratif adalah

A. titik

B. garis

C. bentuk

D. berat

33. Membuat poster supaya menarik harus diberi hiasan berupa

A. garis, bidang, dan warna-warna

B. gambar kartun

C. gambar pemandangan

D. bunga-bunga

34. Dalam lagu "Ambilkan Bulan, Bu" tempo yang digunakan adalah

A. tempo irama cepat

B. tempo irama sedang

C. tempo irama Jaz

D. tempo irama lambat

35. Lagu "Burung Kutilang" diciptakan oleh

A. Pak Kasur

B. W.R Supratman

C. A.T Mahmud


D. Ibu Sud

36. Perhatikan gambar berikut!



- Untuk mengiringi gerakan tari pada gambar lagu yang digunakan adalah
- A. burung kutilang
 - B. burung kakatua
 - C. bintang kejora
 - D. sipatu gilang

37. Perhatikan gambar berikut!



Gerakan Tarian Burung Kutilang sesuai dengan gambar adalah

- A. menganggukkan kepala
 - B. memiringkan kepala
 - C. menoleh ke kanan-kiri
 - D. menghadap ke depan
38. Berikut yang bukan merupakan alat dan bahan untuk menjahit dengan feston adalah
- A. benang
 - B. kain yang sudah dipotong sesuai pola
 - C. jarum
 - D. penggaris
39. Kain sisa yang digunakan dalam proses pembuatan karya jahit tiga dimensi disebut Kain ...
- A. wool
 - B. perca
 - C. sutra
 - D. batik
40. Lagu "Awan Putih" diciptakan oleh
- A. W. R Supratman
 - B. A.T Mahmud
 - C. Pak Kasur
 - D. Ibu Sud