





N

AMA ; .....

## TEMA 7

### PPKn (KD 3.1)

1. Siswa laki-laki dan perempuan berolahraga bersama. Semua siswa harus bersikap ....
  - a. Jahil
  - b. Curang
  - c. Sportif
  - d. Tidak adil
2. Hubungkanlah nama agama dan tempat ibadahnya dengan benar!

| AGAMA    |   | TEMPAT IBADAH   |
|----------|---|---|
| Kristen  | ● | ●    |
| Islam    | ● | ●    |
| Konghucu | ● | ●   |
| Hindu    | ● | ●  |

3. Saat teman menolak ajakan bermain, kita harus .....

### Bahasa Indonesia

4. Dongeng yang menceritakan kehidupan hewan adalah ....
  - a. legenda
  - b. mite
  - c. fable
  - d. cerita rakyat
5. Kata sapaan digunakan untuk ....
  - a. memerintah seseorang
  - b. menuluki seseorang
  - c. menegur atau menyapa seseorang
  - d. menanyakan orang
6. Perhatikan teks dongeng berikut!

#### Momo Seekor Ulat.

Momo bersedih hati karena teman-temannya berubah menjadi kepompong. Bangun tidur, teman-teman Momo berubah menjadi kupu-kupu. Kupu-kupu itu sangat indah. Momo juga ingin menjadi kupu-kupu.

Tokoh pada teks dongeng tersebut adalah ...

7. Pasangkahlah kata di bawah dengan tepat!

- |          |   |   |                               |
|----------|---|---|-------------------------------|
| a. Alur  | ● | ● | 1. Tempat cerita              |
| b. Tokoh | ● | ● | 2. Jalan cerita               |
| c. Watak | ● | ● | 3. Sifat pemeran dalam cerita |
| d. Latar | ● | ● | 4. Pemeran dalam cerita       |

8. Contoh sifat tokoh yang jahat dalam cerita adalah....

- |                  |                  |
|------------------|------------------|
| a.suka menolong. | c. Jujur         |
| b.pembohong.     | d.tanggung jawab |

### Matematika

9. Ale memiliki satu buah apel. Buah apel dipotong dua bagian sama besar. Satu bagian apel dinyatakan dengan pecahan . . .

- |              |               |
|--------------|---------------|
| a. setengah  | c. seperempat |
| b. sepertiga | d. seperlima  |

10. Perhatikan gambar berikut!



Pecahan yang menyatakan jumlah bangun warna merah adalah . . . .

- |                  |                  |
|------------------|------------------|
| c. $\frac{1}{2}$ | c. $\frac{1}{4}$ |
| d. $\frac{1}{3}$ | d. $\frac{1}{5}$ |

11. Fatimah memotong pita menjadi 4 bagian sama panjang, Setiap potong adalah . . . . bagian.

## SBDP

12. Lagu Cicak di Dinding dinyanyikan dengan tempo . . . .

- a. sangat lambat
- b. agak cepat
- c. sangat cepat
- d. cepat

13. Perhatikan gambar di bawah ini!



Gerak dasar yang dilakukan Made pada gambar tersebut adalah . . . .

- a. mengayunkan tangan
- b. melangkahkan kaki
- c. mendongakkan kepala
- d. menggerakkan badan

14. Pasangkanlah gerakan tarian kijang dengan benar!

|                                |   |  |
|--------------------------------|---|--|
| Posisi tangan di kepala        | ● |  |
| Melompat ke kanan dan ke kiri  | ● |  |
| Menggerakkan tangan ke samping | ● |  |
| Posisi kaki jongkok            | ● |  |

