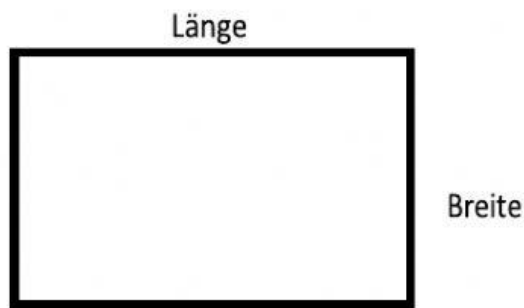
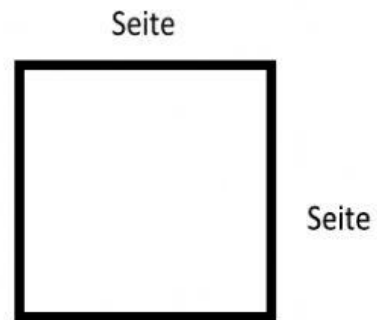


Umfang berechnen



RECHTECK

Immer zwei Seiten sind gleich lang!




QUADRAT

Alle 4 Seiten sind gleich lang!

Berechne den Umfang auf einem Blatt Papier und schreibe die Lösung in das Kästchen!




2m



Der Umfang beträgt

m.


3m



Der Umfang beträgt


m.

7m



Der Umfang beträgt

m.



Der Umfang beträgt

m.