

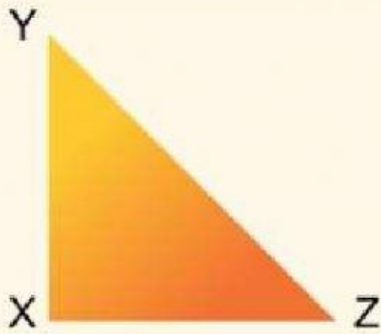
ทฤษฎีบทพีทาโกรัส 1.1

ชื่อ -สกุล

เลขที่

ม.2/

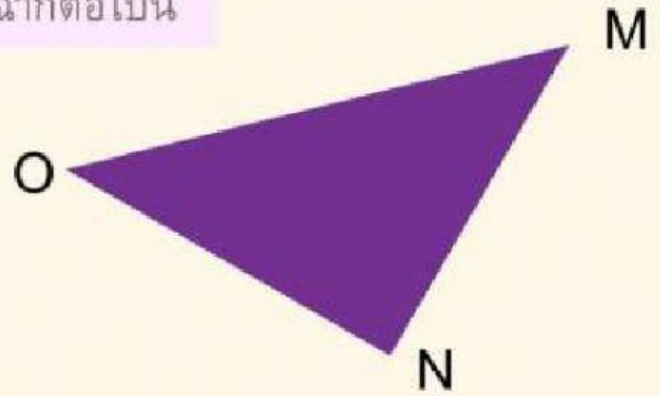
1. เรียกชื่อด้านของรูปสามเหลี่ยมมุมฉากต่อไปนี้



เรียก XY ว่า

เรียก YZ ว่า

เรียก XZ ว่า

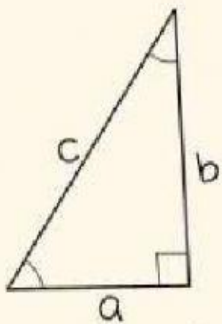


เรียก ON ว่า

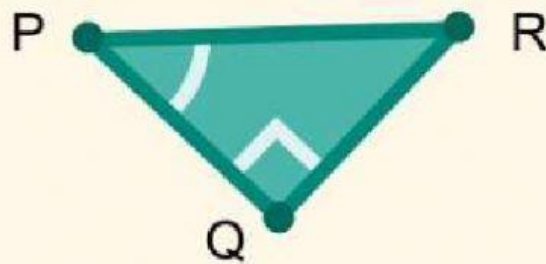
เรียก NM ว่า

เรียก MO ว่า

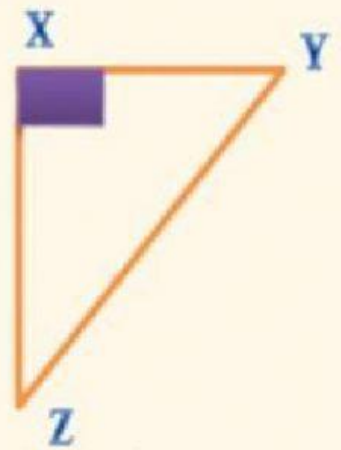
2. รูปสามเหลี่ยมมุมฉากที่กำหนดให้ด้านไหนยาวที่สุด



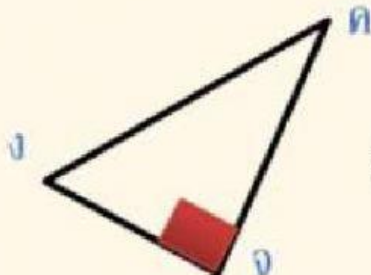
ด้านที่ยาวที่สุด คือ



ด้านที่ยาวที่สุด คือ



ด้านที่ยาวที่สุด คือ



ด้านที่ยาวที่สุด คือ