

## LKPD KELAS V -- MATEMATIKA

### PENGUMPULAN DAN PENYAJIAN DATA

Nama :

Pelajari materi "pengumpulan dan penyajian data" berikut!

#### I. Pilihlah salah satu jawaban yang paling tepat!

**Gunakan data berikut untuk menjawab soal nomor 1-4!**

Nilai ulangan siswa kelas V SD Nusantara 01 sebagai berikut.

70 80 85 80 90 90 80 85 75 75 85 80  
90 70 75 85 70 80 85 80 90 75 70 80


1. Banyak siswa kelas V SD Nusantara 01 adalah ... siswa.  
a. 18                      b. 20                      c. 22                      d. 24
2. Nilai ulangan terendah adalah ....  
a. 65                      b. 70                      c. 85                      d. 80
3. Banyak siswa yang mendapat nilai di atas 80 adalah ... siswa.  
a. 9                      b. 11                      c. 13                      d. 15
4. Selisih nilai tertinggi dan terendah adalah ....  
a. 20                      b. 25                      c. 30                      d. 35

**Gunakan data berikut untuk menjawab soal nomor 5-8!**

Data penjualan boneka di sebuah toko dalam waktu 4 hari.

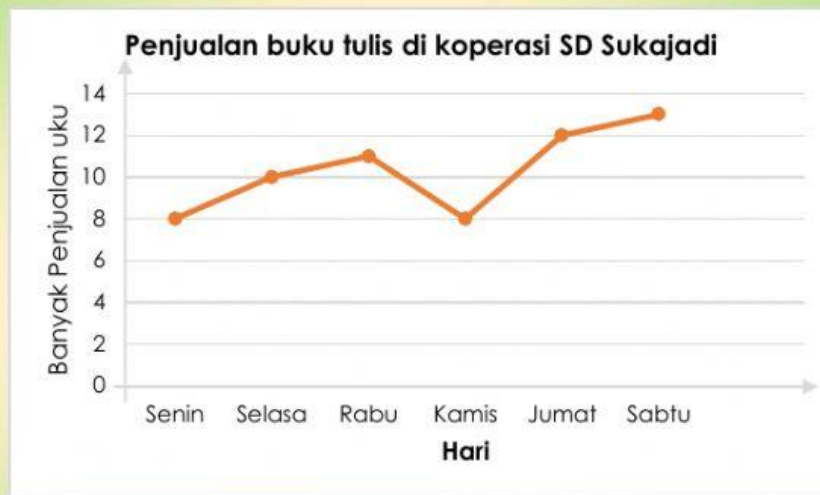
Hari	Banyak Penjualan
Senin	
Selasa	
Rabu	
Kamis	

Keterangan:

 = 5 boneka

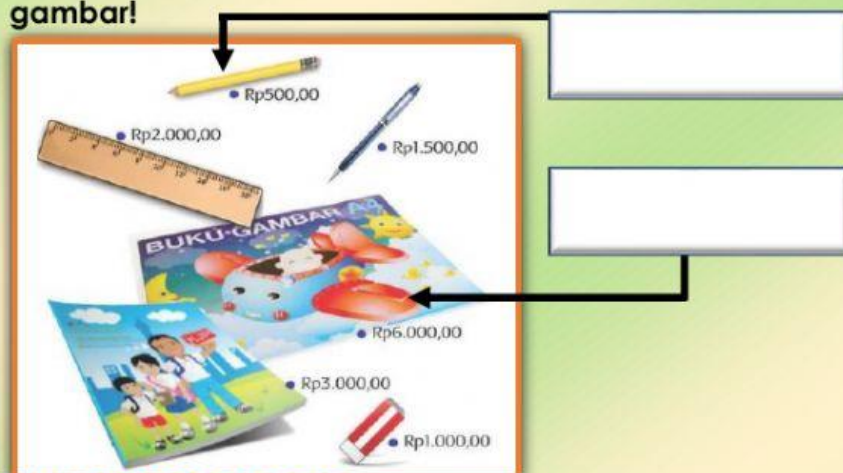
5. Penjualan boneka pada hari Rabu sebanyak ... boneka.
  - a. 15
  - b. 20
  - c. 25
  - d. 30
6. Selisih penjualan boneka pada hari Senin dan Kamis adalah sebanyak ... boneka.
  - a. 10
  - b. 15
  - c. 20
  - d. 25
7. Penjualan boneka paling banyak pada hari ....
  - a. Senin
  - b. Selasa
  - c. Rabu
  - d. Kamis
8. Jumlah penjualan boneka selama 4 hari sebanyak ... boneka.
  - a. 60
  - b. 70
  - c. 80
  - d. 90

**Gunakan data berikut untuk menjawab soal nomor 9-10!**



9. Buku yang terjual pada hari Rabu sebanyak ... buku.
  - a. 8
  - b. 9
  - c. 10
  - d. 11
10. Kesimpulan yang salah dari diagram di atas adalah ....
  - a. penjualan buku paling banyak pada hari Sabtu
  - b. penjualan buku paling sedikit pada hari Kamis
  - c. jumlah penjualan buku hari Senin dan Selasa sebanyak 18 buku
  - d. jumlah penjualan buku hari Jumat dan Sabtu sebanyak 26 buku

**II. Letakkan kotak biru yang ada di sebelah kanan pada kotak putih sebelah kiri sesuai dengan gambar!**



**Harga tertinggi**

**Harga terendah**



III. Tariklah garis untuk menghubungkan kotak soal di sebelah kiri dengan kotak jawaban di sebelah kanan!

Perhatikan diagram batang di bawah ini!



Tahun penerimaan siswa baru paling banyak

5

Tahun penerimaan siswa baru paling sedikit

90

Banyak siswa baru tahun 2016

15

Banyak siswa baru tahun 2018

2019

Jumlah siswa baru tahun 2017 dan 2020

215

Selisih siswa baru tahun 2019 dan 2017

2018

Selisih siswa baru paling banyak dan paling sedikit

35

Jumlah siswa baru tahun 2016 sampai 2020

40