




AGGIUNGI




TOGLI




SCRIVI L'OPERAZIONE



CI SONO TRE BALENE E QUATTRO PESCI.
QUANTI SONO GLI ANIMALI?




CI SONO QUATTRO PESCI E DUE DELFINI.
QUANTI ANIMALI IN TUTTO?




CI SONO QUATTRO PESCI BLU E QUATTRO PESCI GIALLI.
QUANTI PESCI IN TUTTO?



CI SONO CINQUE CAVALLUCCI.
DUE VANNO VIA.
QUANTI CAVALLUCCI RESTANO?



CI SONO NOVE PESCI.
TRE VENGONO PESCATI.
QUANTI PESCI RESTANO?



CI SONO OTTO POLIPI.
CINQUE SCAPPANO.
QUANTI POLIPI RIMANGONO?