

NOME: _____

DATA: ____/____/____



COMPLETE O QUADRO ABAIXO:



	EM PALAVRAS	D	U	ANTECESSOR	SECESSOR	DECOMPOSIÇÃO
11	ONZE	1	1	10	12	10 + 1
24						
78						
63						
96						
45						

ESCREVA O NOME DAS CRIANÇAS ABAIXO DE ACORDO COM OS NÚMEROS PENSADOS:



MARTA PENSOU NO NUMERAL QUE REPRESENTA UMA DEZENA E DUAS UNIDADES.
CARLOS FOI O QUE PENSOU NO MAIOR NUMERAL.


O NUMERAL DE MARCOS É UMA DEZENA E OITO UNIDADES.

MIRIAM PENSOU NUM NUMERAL PAR TERMINADO EM 6.

ADRIANA PENSOU EM UM NUMERAL QUE NÃO TEM DEZENA.


O NÚMERO DE GUILHERME EQUIVALE A DUAS DEZENAS E SETE UNIDADES.

OBSERVE AS DEZENAS E UNIDADES E SIGA O MODELO.




$$10 + 2 = 12$$


DOZE



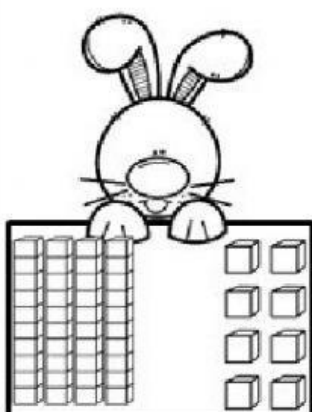
$$\square + \square = \square$$



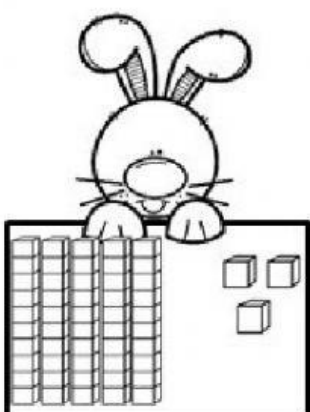
$$\square + \square = \square$$



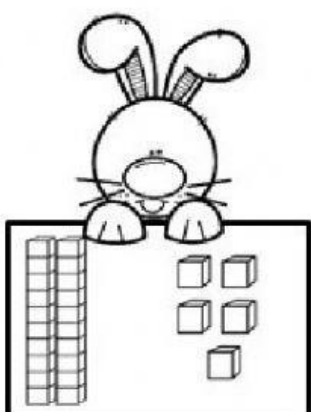
$$\square + \square = \square$$




$$\square + \square = \square$$



$$\square + \square = \square$$



$$\square + \square = \square$$



$$\square + \square = \square$$

ORGANIZE AS DEZENAS ACIMA EM ORDEM CRESCENTE.

--	--	--	--	--	--	--	--