

NAMA : _____ KELAS: GRADE 3 _____

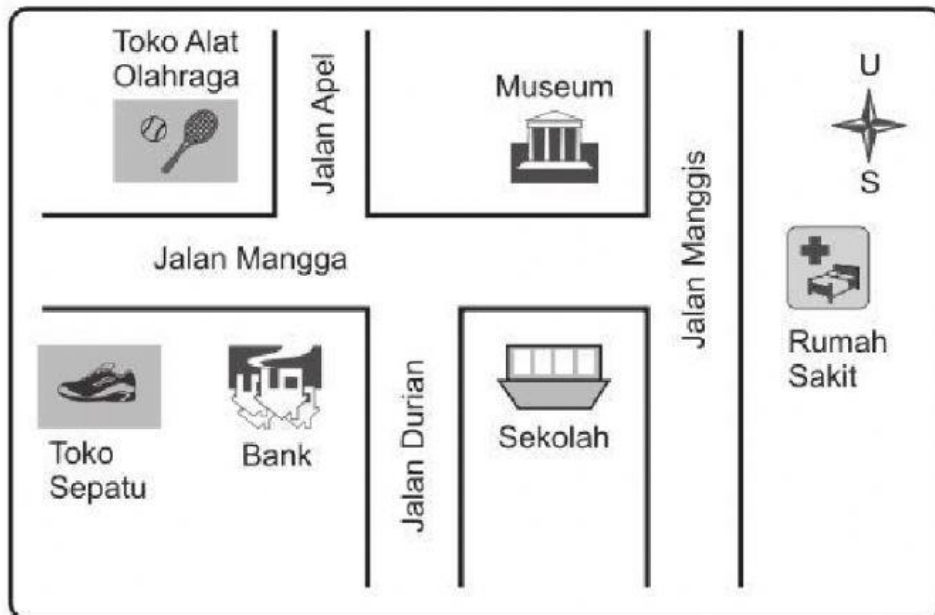
A. Pilihan Ganda

Bacalah Teks di bawah ini untuk menjawab pertanyaan nomor 1 sampai dengan nomor 3

Banyak teknologi yang dapat **mendukung** kesehatan kita. Apabila kita sehat, banyak manfaat yang dapat kita peroleh. *Pertama*, kita bahagia melakukan segala kegiatan karena sehat. Ayo bayangkan, apabila kita sakit tentu kita tidak dapat melakukan banyak kegiatan dengan bahagia. *Kedua*, kita tidak perlu mengeluarkan uang untuk berobat dan membeli obat. Hal ini disebabkan saat sakit kita harus berobat dan membeli obat. *Ketiga*, kita bisa **produktif** apabila sehat. Misalnya, kita bisa mengerjakan tugas dengan tepat waktu.

1. Manfaat kesehatan yang dijelaskan dalam teks tersebut adalah
 - a. bahagia melakukan kegiatan karena sehat, mengeluarkan uang untuk berobat, dan rencana tertunda.
 - b. bahagia melakukan segala kegiatan karena sehat, tidak mengeluarkan uang untuk berobat dan tugas tertunda.
 - c. bahagia karena sehat, perlu mengeluarkan uang untuk berobat, dan produktif.
 - d. bahagia melakukan kegiatan karena sehat, tidak perlu mengeluarkan uang untuk berobat dan produktif.
2. Arti kata **produktif** dalam teks tersebut adalah bersifat
 - a. menunda
 - b. merugikan
 - c. menghasilkan
 - d. merusak

Perhatikan denah berikut dan jawablah pertanyaan nomor 8 sampai dengan nomor 10



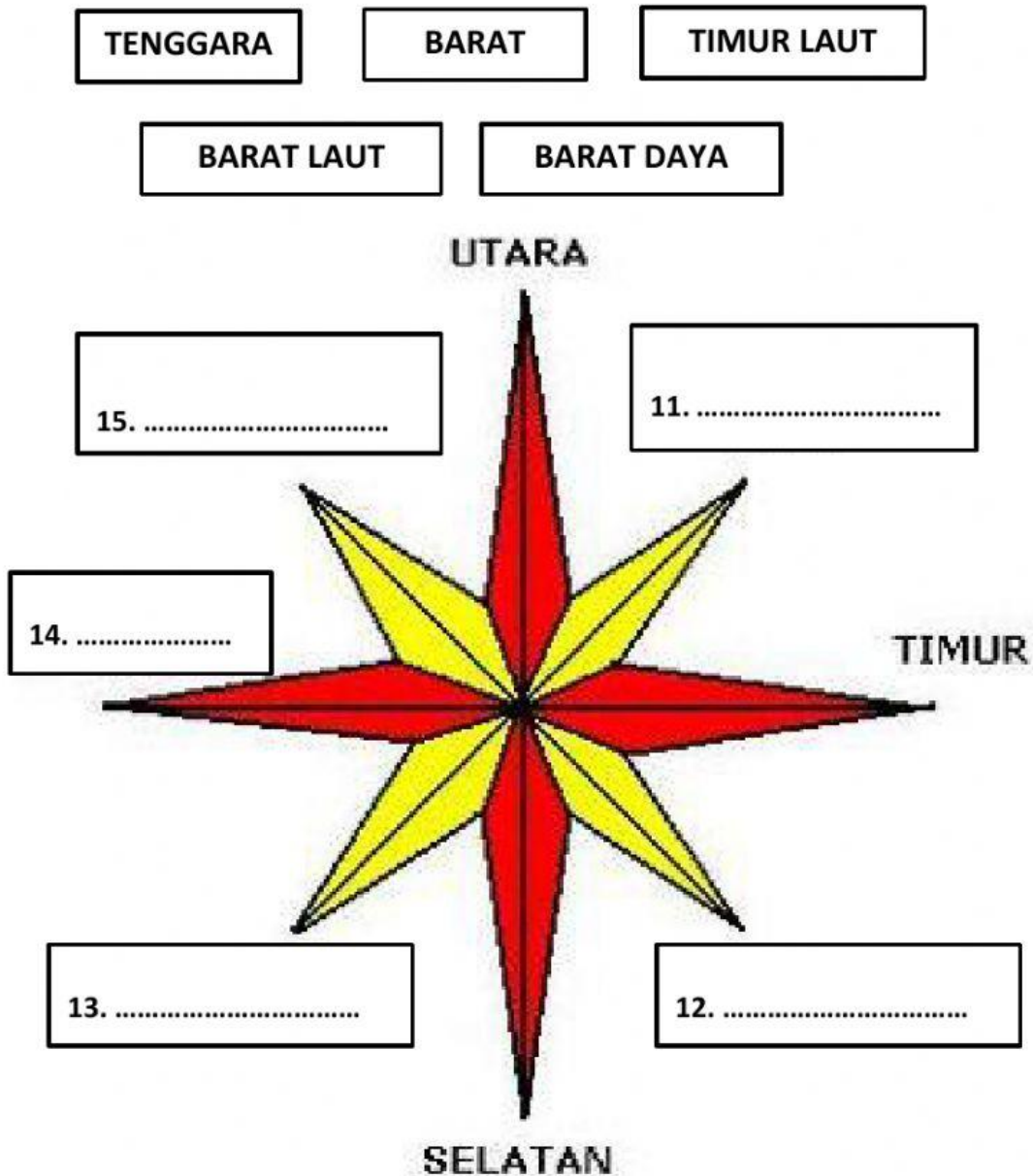
8. Berdasarkan denah di atas, jika Ani berjalan ke arah selatan jalan manggis, maka Ani menuju sebuah
 - a. Museum
 - b. Toko sepatu
 - c. Bank
 - d. Rumah sakit

9. Berdasarkan denah di atas, jika Aryanti yang sedang berada di jalan durian ingin mengunjungi sebuah toko sepatu di jalan manga, maka Aryanti sebaiknya berjalan menuju arah
 - a. timur
 - b. tenggara
 - c. selatan
 - d. barat

10. Menurut denah di atas, Toko alat olahraga berada di arah toko sepatu.
 - a. utara
 - b. selatan
 - c. barat
 - d. timur

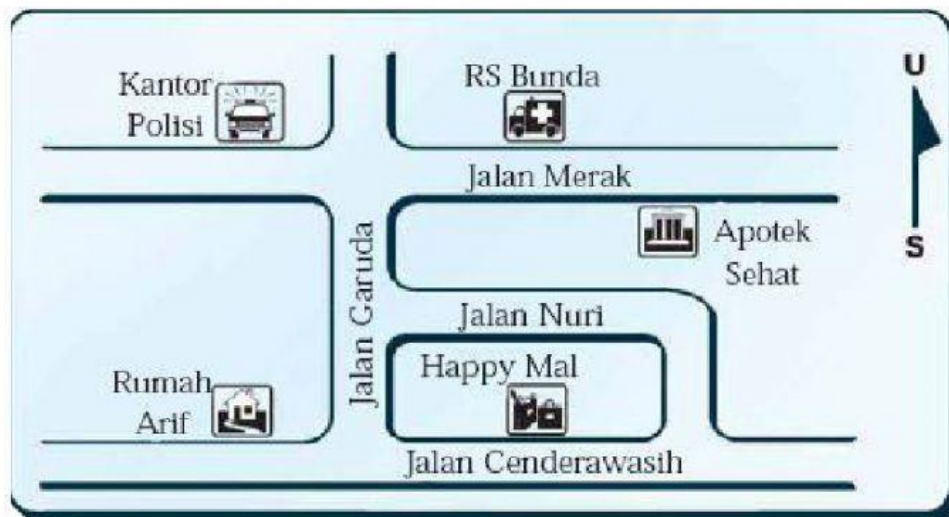
B. Menjodohkan

Berikut ini adalah gambar sebuah mata angin, namun tidak lengkap. Maka lengkapilah mata angin berikut sesuai dengan arah mata angin yang telah tersedia!



C. Kerjakan soal berikut!

Perhatikan denah dari rumah Arif menuju apotek “Sehat” di bawah ini dan jawablah pertanyaan nomor 16 sampai dengan nomor 20 dengan menuliskan arah mata anginnya!



Denah dari rumah Arif menuju apotek “Sehat”

Ibu Meminta Arif untuk membeli obat di Apotek “Sehat”, namun ibu berpesan sebelum membeli obat, Arif singgah terlebih dahulu untuk membeli makanan di restoran yang ada di Happy Mal. Untuk menuju Happy Mal, Arif harus berjalan ke arah 16) dari rumahnya. Setelah membeli makanan, Arif melanjutkan perjalanan melalui jalan Garuda menuju RS Bunda yang berada di sebelah 17) Ketika hendak menuju Apotek Sehat, Arif menemukan sebuah dompet di jalan. Arif berencana untuk mengantar dompet tersebut ke kantor polisi yang berada di sebelah 18) RS Bunda. Selesai dari Kantor Polisi, Arif melanjutkan perjalanan ke arah 19) menuju Apotek Sehat. Jika Arif telah selesai membeli obat, maka Arif akan berjalan ke arah 20) menuju Jalan Garuda.