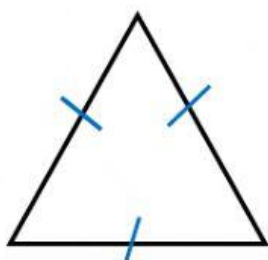


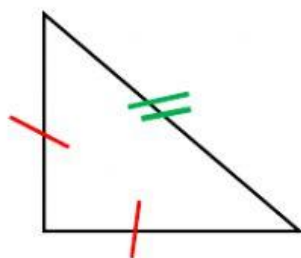


I triangoli

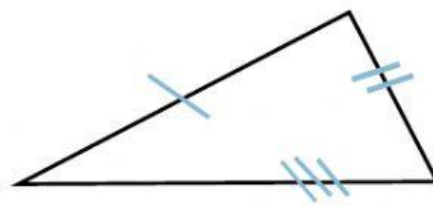
OSSERVA, MISURA E COMPLETA



Ha 3 lati
e tre angoli
perciò è un triangolo
e acutangolo

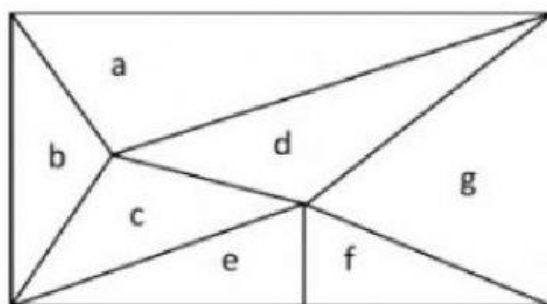


Ha 2 lati
e l'angolo
perciò è un triangolo
e



Ha 3 lati
e l'angolo
perciò è un triangolo
e

OSSERVA I TRIANGOLI NEL DISEGNO E CLASSIFICALI SCRIVENDO IN TABELLA LA LETTERA CHE LI CONTRADDISTINGUE



Triangoli acutangoli

--

Triangoli ottusangoli

--

Triangoli rettangoli

--