



PERKUMPULAN DHARMAPUTRI
SD KATOLIK HATI KUDUS
TERAKREDITASI "A"

Jl. SMPN 8, RT. 07 Kel. Rapak Dalam, Kec. Loa Janan Ilir
e-mail : sdkhatikudus@yahoo.com
SAMARINDA 75132 - KALTIM

PENILAIAN HARIAN
TAHUN PELAJARAN 2021/2022

Matematika " Pengolahan Data "	
Hari/Tanggal : Jumat, 13 Mei 2022	
Waktu	: 120 menit
Nama	:
Kelas	: IV (Empat)

Petunjuk Umum

1. Kerjakan terlebih dahulu soal-soal yang kamu anggap mudah!
2. Telitilah dan periksalah kembali pekerjaanmu sebelum dikirim ke wali kelas!

1. Aku bernama Dinda. Aku kelas 4 di SDK Hati Kudus. Di kelasku ada 25 orang yang terdiri dari 14 siswa laki-laki dan 11 siswa perempuan. Pandemi Covid-19 membuatku dan teman-temanku harus belajar dari rumah sejak bulan Maret. Sudah lama kami belajar secara *online* (daring) aktivitas di rumah membuat berat badanku bertambah. Aku kira hanya aku saja yang mengalami pertambahan berat badan ternyata teman-temanku juga mengalami hal yang sama.

Berikut ini adalah data berat badan 21 siswa kelas 4 SDK Hati Kudus (Kg) :

25, 25, 26, 28, 24, 27, 25, 28, 28, 24, 24, 27,
28, 24, 26, 26, 26, 28, 25, 24, 25, 25, 28, 27, 27.

Data di atas jika disajikan dalam bentuk tabel adalah ...

A.

Berat badan	Jumlah siswa
24 kg	6
25 kg	5
26 kg	4
27 kg	4
28 kg	6

C.

Berat badan	Jumlah siswa
24 kg	5
25 kg	6
26 kg	4
27 kg	4
28 kg	6

B.

Berat badan	Jumlah siswa
24 kg	5
25 kg	6
26 kg	4
27 kg	3
28 kg	7

D.

Berat badan	Jumlah siswa
24 kg	5
25 kg	5
26 kg	4
27 kg	3
28 kg	6

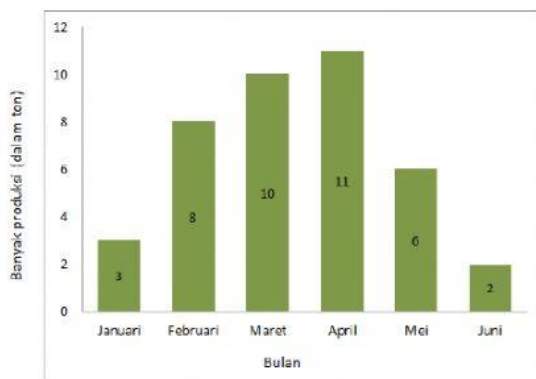
Perhatikan data berikut ini untuk menjawab soal nomor 2 dan 3!

Data pekerjaan orang tua siswa kelas 1 sampai kelas 6 SDN Sukajaya :

Petani 25 orang, Nelayan 15 orang, penjahit 8 orang, wirausaha 13 orang, pedagang 12 orang, tentara 6 orang, polisi 2 orang, guru 6 orang dan buruh 15 orang.

2. Berdasarkan data pekerjaan orang tua siswa kelas 1 sampai kelas 6 SDN Sukajaya. Jumlah siswa pada SDN Sukajaya yang diteliti ada
- A. 101 anak
 - B. 102 anak
 - C. 103 anak
 - D. 110 anak
3. Berdasarkan data pekerjaan orang tua siswa kelas 1 sampai kelas 6 SDN Sukajaya. Pekerjaan orang tua siswa yang kurang dari 10 ialah
- A. petani, nelayan dan pedagang
 - B. penjahit, tentara dan buruh
 - C. buruh, guru dan dan tentara
 - D. polisi, guru dan penjahit

4. Perhatikan diagram batang berikut ini!



Selisih produksi pupuk bulan Maret dan Mei adalah

- A. 2 ton
- B. 4 ton
- C. 14 ton
- D. 6 ton

5. Berikut ini adalah data tinggi badan siswa kelas 6 SDN Pati Lor 4 dalam centi meter.

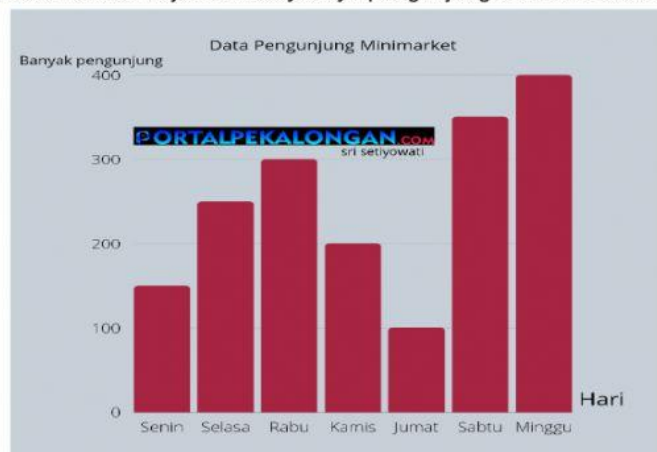
140 143 145 146 141 140 143 143 145 143 140 142 143 147 146

140 142 145 142 147 141 142 145 145 143 142 146 124 130 134

Jumlah siswa yang mempunyai tinggi badannya 143 cm ada

- A. 6 anak
 - B. 5 anak
 - C. 7 anak
 - D. 15 anak
6. Perhatikan data nilai dari hasil ulangan matematika berikut ini!
- 6 7 8 9 5 4 6 8 4 6 4 6
10 5 8 5 9 7 9 5 7 8 5
- Dari data hasil ulangan matematika di atas maka jumlah anak yang mendapatkan nilai 6 ke atas adalah ...
- A. 12 anak
 - B. 14 anak
 - C. 15 anak
 - D. 16 anak

Perhatikan gambar diagram batang berikut untuk menjawab soal nomor 7 dan 8!
Diagram batang berikut ini menunjukkan banyaknya pengunjung di sebuah minimarket.



7. Berdasarkan diagram batang data pengunjung miimarket, banyak pengunjung 300 orang terjadi pada hari
- A. Senin
 - B. Rabu
 - C. Jumat
 - D. Sabtu

8. Berdasarkan diagram batang data pengunjung minimarket, sepiya pengunjung minimarket terjadi pada hari

- A. Jumat
- B. Kamis
- C. Senin
- D. Minggu

9. Tabel berikut menyajikan tinggi badan siswa kelas IV.

Data Tinggi Badan Siswa kelas IV

Nama	Tinggi Badan (cm)
Dayu	130
Siti	135
Lani	140
Edo	150
Udin	145

Siswa yang memiliki selisih tinggi 15 cm dengan Edo adalah....

- A. Dayu
- B. Lani
- C. Udin
- D. Siti

10. Data nilai ulangan matematika 20 siswa kelas 4 adalah sebagai berikut

55 60 70 90 95 65 60 70 75 55
60 100 70 100 95 80 85 55 70 70

Berilah tanda centang (✓) pada tabel yang sesuai dengan sebagian data nilai ulangan matematika siswa kelas 4 tersebut. (Jawaban lebih dari satu)

<input type="checkbox"/>	Nilai	60	70	80	90	100
	Turus	III	IIII	II	I	II

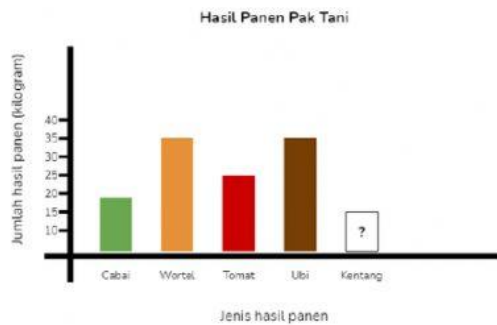
<input type="checkbox"/>	Nilai	55	65	75	85	95
	Turus	III	I	I	I	II

<input type="checkbox"/>	Nilai	75	80	85	90	95
	Turus	I	I	I	I	II

<input type="checkbox"/>	Nilai	55	60	65	70	75
	Turus	III	III	I	IIII	I

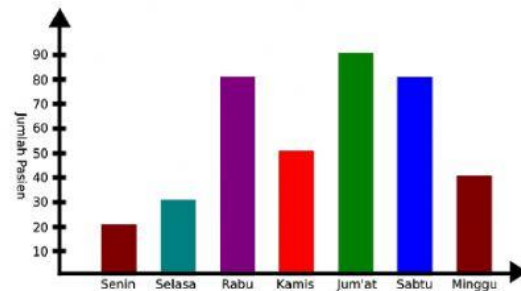
11. Hasil panen kebun Pak Tani bulan ini disajikan dalam diagram batang di samping. Jika total hasil panen kebun Pak Tani pada bulan ini adalah 150 kilogram, jumlah hasil panen kentangnya adalah

- A. 35
B. 45
C. 55
D. 65



12. Data di bawah ini menunjukkan jumlah pasien di puskesmas Sehat Sejahtera selama seminggu. Pernyataan berikut ini yang benar mengenai data diagram di atas adalah (Jawaban lebih dari satu)

- ☐ Pada hari Kamis jumlah pasien adalah 50 orang
- ☐ Pada hari Jum'at merupakan jumlah pasien paling banyak
- ☐ Penurunan paling banyak terjadi pada hari Senin
- ☐ Pada hari Selasa pengunjung naik sebanyak 10 orang



13. Bacalah teks berikut!

Data Pemungutan Suara

Siswa kelas 4 akan mengadakan pemilihan ketua kelas, wakil ketua kelas, sekretaris, dan bendahara kelas. Siswa yang dicalonkan dalam pemilihan tersebut adalah Andi, Dirga, Mita dan Fitri. Siswa dengan perolehan suara terbanyak akan menjadi ketua kelas. Terbanyak kedua akan menjadi wakil ketua kelas, terbanyak ketiga menjadi sekretaris, dan terbanyak keempat menjadi bendahara kelas. Berikut hasil pemungutan suara dari 4 calon tersebut.

Nama	Banyak Perolehan Suara
Andi	
Dirga	
Mita	
Fitri	

Berdasarkan informasi pada teks tersebut, berilah tanda centang (✓) di kolom **Benar** atau **Salah** pada setiap pernyataan yang sesuai!

Pernyataan	Benar	Salah
(1) Siswa yang akan terpilih menjadi ketua kelas adalah Dirga.		
(2) Siswa yang akan terpilih menjadi wakil ketua kelas adalah Andi.		
(3) Siswa yang akan terpilih menjadi sekretaris adalah Mita.		
(4) Siswa yang akan terpilih menjadi bendahara kelas adalah Fitri.		

Perhatikan pernyataan-pernyataan berikut!

- a. Siswa kelas 3 adalah paling sedikit yang datang ke perpustakaan.
- b. Banyak siswa kelas 2 dan 5 masing-masing yang datang ke perpustakaan adalah 20 orang.
- c. Siswa kelas 1 yang datang ke perpustakaan adalah 28 orang.
- d. Jumlah siswa kelas 1 dan kelas 3 yang datang ke perpustakaan adalah 40 orang.
- e. Selisih siswa kelas 1 dan kelas 6 yang datang ke perpustakaan adalah 7 orang.
- f. Jumlah seluruh siswa dari kelas 1 sampai kelas 6 adalah 133 orang.

Kerjakan soal-soal berikut berdasarkan pernyataan-pernyataan di atas!

- 14. Siswa yang paling banyak datang ke perpustakaan adalah kelas
- 15. Selisih banyak siswa kelas 5 dan kelas 6 yang datang ke perpustakaan adalah

**SELAMAT MENGERJAKAN
TUHAN MEMBERKATI**