



ĐỀ KIỂM TRA CHẤT LƯỢNG CUỐI HỌC KÌ 2

Môn: **TOÁN 2 – ĐỀ 3**

Thời gian làm bài: 35 phút

Họ và tên:Lớp:

Phần I: Trắc nghiệm (4 điểm) Khoanh vào chữ cái đặt trước câu trả lời đúng

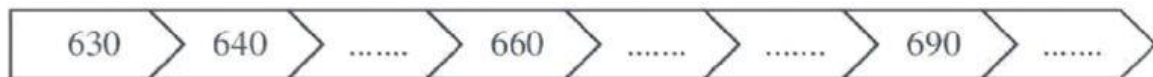
Câu 1(0.5đ): Số gồm 5 trăm, 1 chục được viết là: (M1)

- A. 510 B. 501 C. 150 D. 105

Câu 2(0.5đ): Trong phép tính $21 + 37$, số 21 đứng ở vị trí: (M1)

- A. Tổng B. Số hạng C. Thừa số D. Tích

Câu 3(0.5đ): Điền số thích hợp vào chỗ trống: (M1)



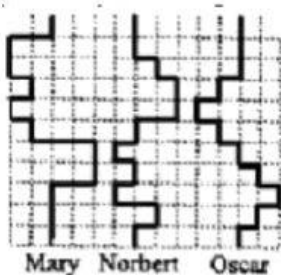
- A. 650 ; 670; 680; 691. C. 650 ; 670; 680; 690.
B. 650 ; 660 ; 670; 680. D. 650 ; 670; 680; 700.

Câu 4(0.5đ): Hãy giúp chú mèo tìm đường về nhà bằng cách thực hiện phép tính dưới đây: (M1)



- A. 23 B. 8 C. 4 D. 10

Câu 5(0.5đ): (M3) Trong một cuộc thi chạy ziczac, các chú chuột túi Mary, Norbert và Oscar nhảy như trong hình vẽ. Giả sử chúng nhảy với cùng tốc độ.



Câu nào dưới đây là đúng?

- A. Mary và Oscar đến đích cùng lúc
B. Norbert về sớm nhất
C. Oscar về cuối cùng
D. Mary và Norbert đến đích cùng lúc

Câu 6(0.5đ): Mỗi can đựng được 5l dầu ô liu. Hỏi 6 can như thế đựng được bao nhiêu lít dầu? (M2)

- A. 5l B. 11l C. 30l D. 1l

Câu 7(0.5đ): Chiếc điện thoại thông minh iPhone 13 Pro Max dài khoảng: (M2)

- A. 16cm B. 16dm
C. 16m D. 16km



Câu 8(0.5đ): Trường của Anh Thư vào lớp lúc 8 giờ. Hôm nay Anh Thư vào lớp lúc 7 giờ 45 phút. Như vậy hôm nay: (M3)

- A. Thư vào lớp muộn 15 phút.
B. Thư vào lớp sớm 15 phút.
C. Thư vào lớp đúng giờ.
D. Thư không vào lớp.



Phần II: TỰ LUẬN (6 điểm)




Bài 1: Đặt tính rồi tính (1 điểm) (M1)

a. $138 + 49$

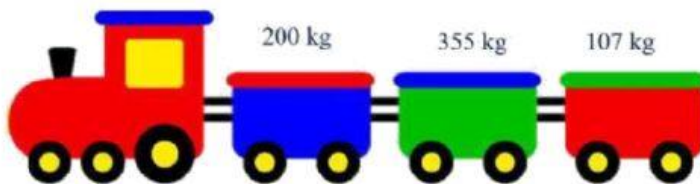
b. $431 + 282$

c. $866 - 596$

d. $555 - 238$



Bài 2: (1 điểm) Quan sát tranh, viết số thích hợp vào chỗ chấm (M1)



Chuyến tàu hỏa đã chuyển được kg hàng.

Bài 3: (1 điểm): Bạn Hùng lấy ra trong thùng đồ chơi một món đồ. Đúng ghi Đ, sai ghi S vào chỗ trống (M1)

- a) Hùng chắc chắn lấy ra được chú gấu bông.
b) Hùng có thể lấy ra được quả bóng.
c) Hùng có thể lấy ra được chú khủng long xanh.
d) Hùng không thể lấy ra được cái đàn.



