





Números Decimales hasta la milésima.

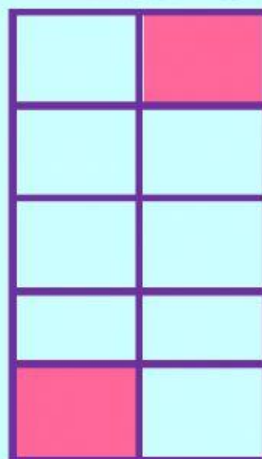
1. Ayuda a Juan a colocar ¿Cuántas décimas y centésimas hay en cada gráfica?














2. Lee y resuelve

Antonio pagará las facturas de servicios básicos correspondiente al mes de abril, de energía es **C\$858.74**, de agua **C\$456.147**, tren de aseo **C\$42.5** y casa claro **C\$915.003**.



Ayuda a Antonio a seleccionar la escritura correcta de cada cantidad que pagará



C\$858.74


C\$456.147

C\$42.5

C\$915.003

3. Coloca las cantidades anterior en la caja de valor de mayor a menor.

Parte entera			●	Parte decimal		
C	D	U		d	c	m



4. Busca en tu casa una factura de energía, agua u otra y escribe en letra tres cantidades que represente decimales.

5. Observa las siguientes imágenes y la línea resaltada, según su forma y medida clasifícalo.

