

COSSOS GEOMÈTRICS

1. Relaciona amb fletxes:

ARESTA

Els punts d'unió de les cares.

VÈRTEX

És cada un dels costats que té el cos geomètric

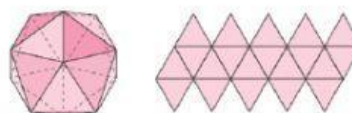
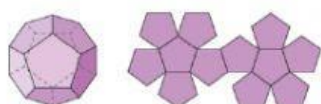
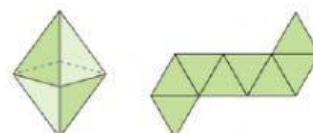
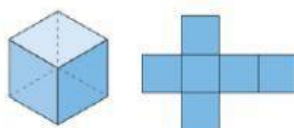
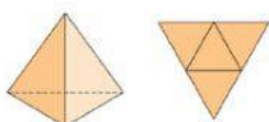
BASE

És la línia per la que s'uneixen les cares

CARA

És el polígon on es recolza la figura

2. Selecciona el nom de cada poliedre regular:



3. Escriu el nom corresponent a cada figura:



