



الاسم: ----- الصف: 3ع/-----

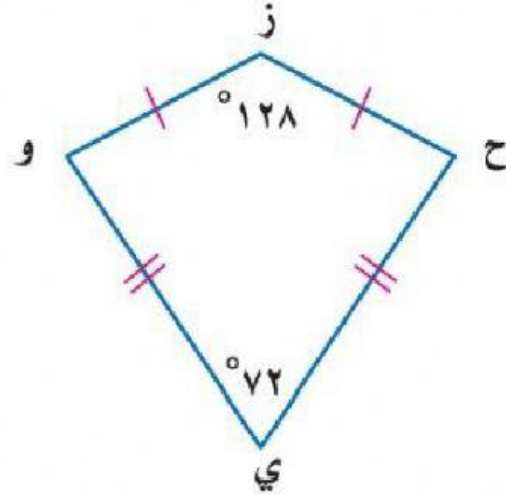
س1: في الشكل التالي ، قياس الزاوية ح =

56 (د)

80 (ج)

160 (ب)

200 (أ)



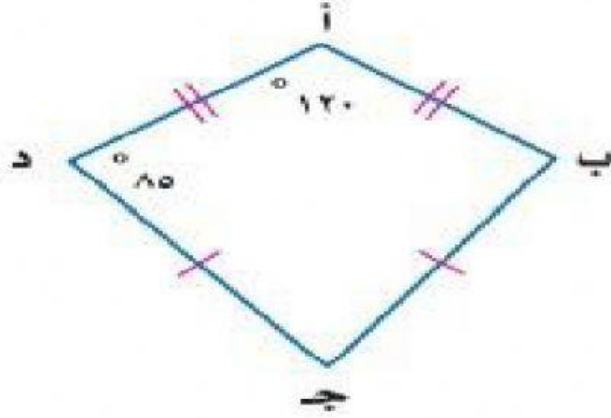
س2: في الشكل التالي ، قياس الزاوية ج =

120 (د)

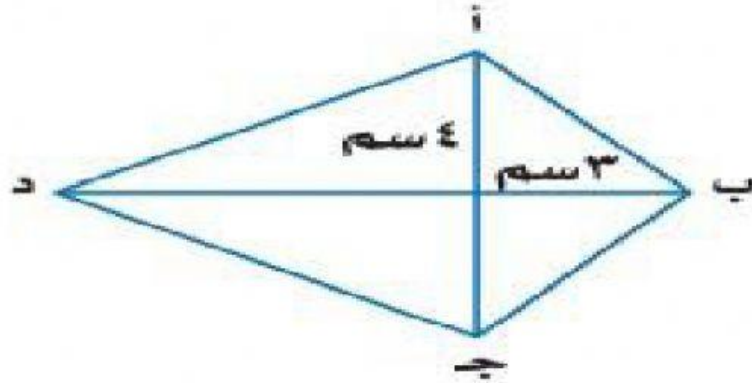
85 (ج)

35 (ب)

70 (أ)



س3: في الشكل التالي ، طول الضلع أ ب =



7 (د)

5 (ج)

4 (ب)

3 (أ)