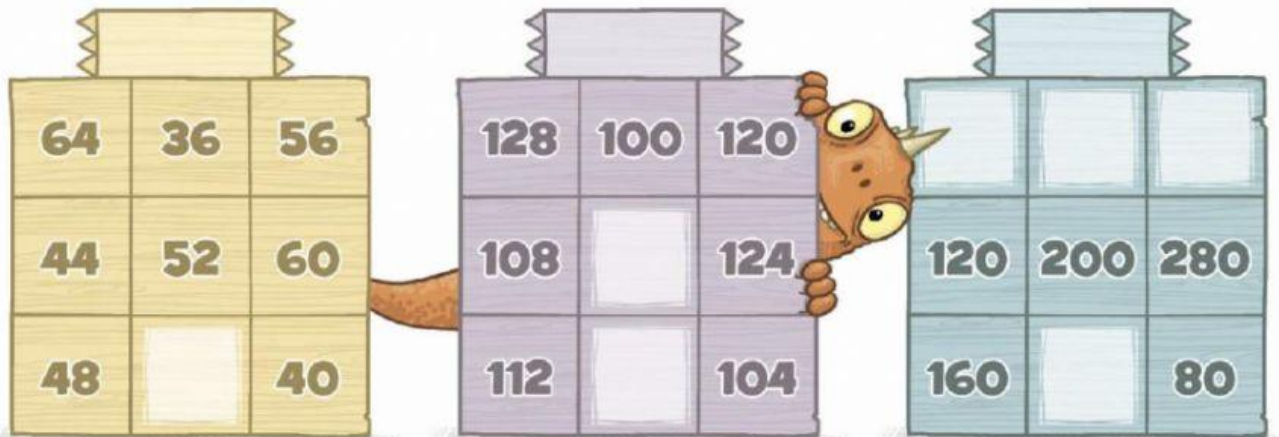


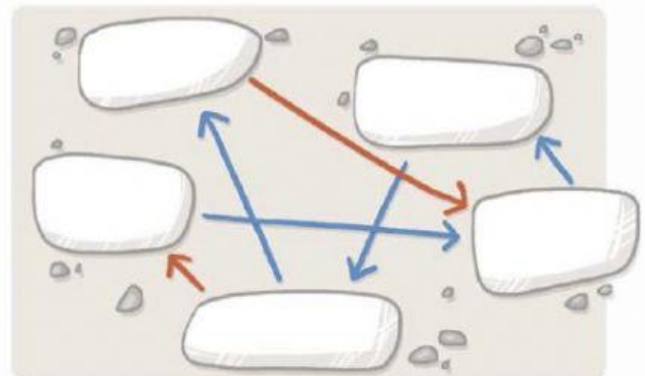
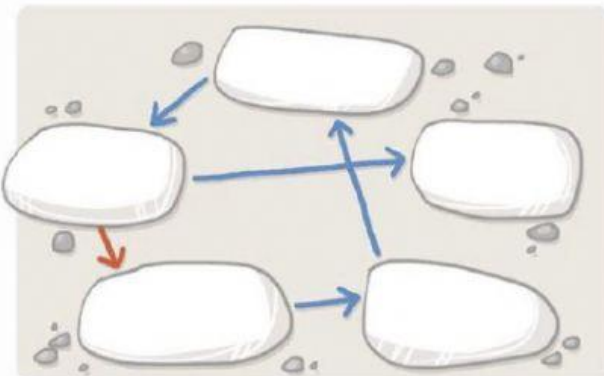
A bűvös négyzet szabálya szerint minden sorban, minden oszlopban és a két átlóban is ugyanazt a számot kapjuk a számok összegeként. Mi a négyzetek bűvös száma? Írd föl, majd pótd a hiányzó számokat!



A kék nyíl az 1200-zal nagyobb szám felé mutat. Írd a számokat a megfelelő helyre!

a) 7000, 5800, 4600, 8200, 3400

b) 6550, 8950, 4150, 7750, 5350



Írd a nyilakra, mit jelentenek!

