








































ชื่อ.....ชั้น.....เลขที่.....

เกมโดมิโน บวก ลบ คูณ หาร จำนวนเต็ม

คำชี้แจง จงนำแผ่นโดมิโน ในกรอบด้านบน ต่อให้สัมพันธ์กันในช่องว่างด้านล่าง

  -20	$(-2) (-5)$	 -11	$(-8) \div (-2)$	 -9	$(-25) + (-23)$
---	-------------	---	------------------	--	-----------------

 0	$9 - (-10)$	 -72	$90 \div (-10)$
---	-------------	--	-----------------

  start	$-13 + (-7)$ 	 		  10	$7 - 19$ 
  -12	$(-8) (9)$ 	 		 	
  -48	$(0) (9)$	 		  19	$56 - 67$ 
 		  4	$15 - (-40)$	  55	$(-12) (-7)$ 