

LEMBAR KERJA PESERTA DIDIK

Statistika

Sekolah Dasar



NILAI:

LEMBAR KERJA PESERTA DIDIK (LKPD)

MATERI : STATISTIKA

KELAS : V (lima)

SEMESTER : GENAP



Santira
universitas Sultan Ageng Tirtayasa
SDN Cisangku


NAMA :

KELAS : V

berdoalah sebelum dan sesudah mengerjakan

PENYAJIAN DATA

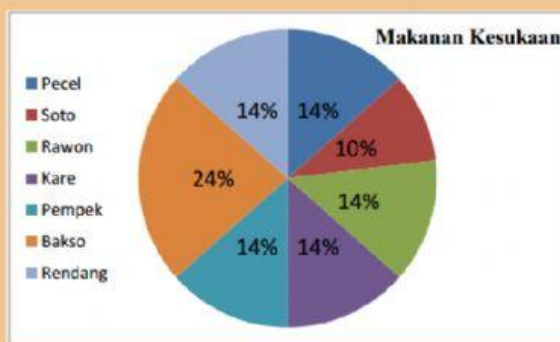
Agar kamu paham dengan sajian data, amati video berikut



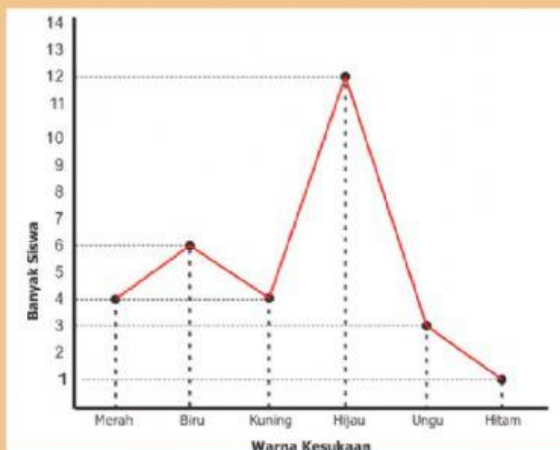
Pasangkan diagram tersebut sesuai dengan nama bentuk diagram (Nomor 1-3)



Garis



Batang

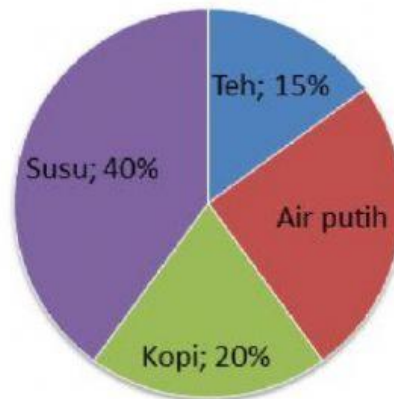


Lingkaran



Perhatikan diagram dibawah ini untuk soal nomor 4-6

Minuman yang disukai siswa SDN 1 Bugeman



Berapa banyak siswa yang menyukai air putih?

- a. 15%
- b. 25%
- c. 20%
- d. 30%

Minum apakah yang paling disukai siswa ?

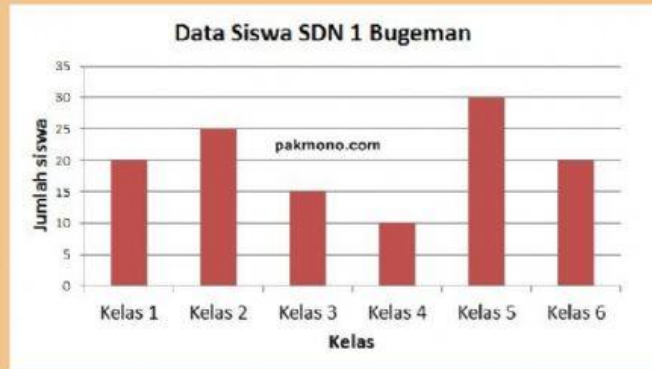
- a. Kopi
- b. Air Putih
- c. Teh
- d. Susu

Jika jumlah siswa SDN 1 Bugeman terdapat 200 siswa
makaberapakah jumlah siswa yang menyukai kopi ?

- a. 40
- b. 30
- c. 20
- d. 10



Perhatikan diagram dibawah ini untuk soal nomor 7-9



Kelas yang memiliki jumlah siswa paling sedikit ?

- a. Kelas 1
- b. Kelas 2
- c. Kelas 3
- d. Kelas 4

Kelas yang memiliki jumlah siswa paling banyak ?

- a. Kelas 5
- b. Kelas 2
- c. Kelas 4
- d. Kelas 6

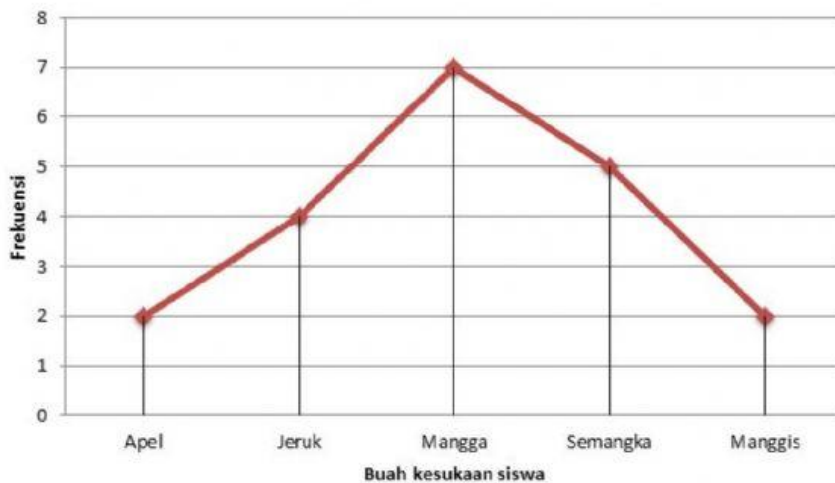
Berapa jumlah siswa kelas 3 dan kelas 5 ?

- a. Kelas 30
- b. Kelas 50
- c. Kelas 45
- d. Kelas 40



Perhatikan diagram dibawah ini untuk soal nomor 10-12

1. Gambar diagram garis:



Isilah pertanyaan dibawah ini dengan benar!

Berapa banyak siswa yang menyukai buah apel dan manggis ?

Buah apakah yang paling banyak disukai siswa?

dilihat dari data diatas berapakah jumlah seluruh siswa ?



Tariklah bentuk diagram sesuai dengan definisi. (soal nomor 13-16)

Penyajian data dengan
memakai gambar
berbentuk lingkaran

Diagram Batang

Penyajian data berupa
bilangan kedalam
bentuk gambar

Diagram Lingkaran



Diagram Garis

diagram penyajian
datanya memakai
persegi panjang atau
batang-batang

Diagram Gambar

diagram penyajian
datanya digambarkan
dengan garis

TERIMA KASIH

