










Keressd a számokat **százásokra** és **tízesekre!**

Írd a képrészlet mellé a megfelelő szorzást!

•	2	5	4	3		<input type="text"/>
228						<input type="text"/>
172						<input type="text"/>
209						<input type="text"/>
181						<input type="text"/>

Mennyit érnek összesen az azonos színű dinók? Számold ki!