

LEMBAR KERJA PESERTA DIDIK

SATUAN PENDIDIKAN : SD N

KELAS : 3

TEMA : 5. Cuaca

SUBTEMA : 1. Keadaan Cuaca

PEMBELAJARAN : 1

Nama :

Nomor Urut :

Pembuat LKPD : Putri Oktaviani (K7120206)

Petunjuk pengerjaan :

1. Berdoalalah terlebih dahulu.
2. Tuliskan nama dan nomor urut pada kota sebelah kanan atas.
3. Amati video pembelajaran dibawah ini!
4. Kemudian kerjakan soal di bawah!
5. Kerjakanlah dengan teliti dan cermat!

<https://youtu.be/Wo6-cbZ0Yc4>

Berilah tanda (X) pada huruf a, b atau c pada jawaban yang benar!

1. Cuaca di muka bumi bersifat


- a. Tetap
- b. Berubah-ubah
- c. Tergantung manusia

2. Saat cuaca cerah Pak Rahmad bisa mencangkul di sawahnya. Saat cuaca hujan Pak Rahmad memilih untuk tidak pergi ke sawah. Hal ini menandakan bahwa cuaca dapat

- a. Membuat orang beristirahat
- b. Membuat orang berpenghasilan
- c. Mempengaruhi kegiatan manusia

3. Budi dan Danu dapat bermain bola dengan mudah ketika cuaca

- a. Mendung
- b. Cerah
- c. Dingin



4. Cuaca di setiap tempat akan

- a. Sama
- b. Selalu mirip
- c. Berbeda-beda

5. Berikut ini adalah tand-tanda akan turun hujan, kecuali...

- a. Langit cerah
- b. Terlihat petir
- c. Langit berawan

6. Yang bukan termasuk unsur-unsur cuaca adalah...

- a. Suhu udara
- b. Kelembapan udara
- c. Volume udara

7. Keadaan udara pada tempat dan waktu tertentu disebut...

- a. Udara
- b. Cuaca
- c. Perubahan cuaca

8. Salah satu faktor utama yang menyebabkan cuaca terasa panas adalah...

- a. Api
- b. Sinar matahari
- c. Asap knalpot

9. Pakaian yang cocok digunakan ketika cuaca sedang dingin adalah...

- a. Kaos tipis
- b. Jaket
- c. Jas hujan

10. Suhu udara rendah menandakan cuaca sedang...

- a. Panas
- b. Berawan
- c. Dingin

LEMBAR KERJA PESERTA DIDIK

SATUAN PENDIDIKAN : SD N
KELAS : 3
TEMA : 5. Cuaca
SUBTEMA : 1. Keadaan Cuaca
PEMBELAJARAN : 1

Pembuat LKPD : Rimba Nadi Putantri (K7120226)

Petunjuk pengerjaan :

1. Berdoalaah terlebih dahulu.
2. Tuliskan nama dan nomor urut pada kota sebelah kanan atas.
3. Amati gambar tentang simbol-simbol cuaca!
4. Berilah tanda yes pada kotakan yang sesuai antara tulisan dengan gambar simbol dan tanda no pada kotakan yang tidak sesuai antara tulisan dengan dengan gambar simbol !
5. Kerjakanlah dengan teliti dan cermat!

Nama :

Nomor Urut :



HUJAN




CERAH



MALAM HARI YANG CERAH



MENDUNG



CERAH

LEMBAR KERJA PESERTA DIDIK

Nama :

SATUAN PENDIDIKAN : SD N

KELAS : 3

TEMA : 5. Cuaca

SUBTEMA : 4. Cuaca, Musim, dan Iklim

PEMBELAJARAN : 1

Pembuat LKPD : Sheila Yuliantono Putri (K7120243)

Petunjuk pengerjaan!

1. Berdoalah terlebih dahulu.
2. Tuliskan nama dan nomor urut pada kota sebelah kanan atas.
3. Bacalah pertanyaan di bawah ini dengan seksama.
4. Kerjakan dengan teliti dan cermat.

1. Apa yang dimaksud dengan cuaca?

.....

2. Apa yang dimaksud dengan iklim?

.....

3. Bagaimanakah iklim di Indonesia?

.....

4. Indonesia memiliki 2 musim yaitu?

.....

5. Masa terjad inya musim hujan adalah pada bulan?

.....

LEMBAR KERJA PESERTA DIDIK

Nama :

No urut :

Satuan Pendidikan : SD Negeri 1 Cangkep Lor

Kelas : 3

Tema : 5. Cuaca

Subtema : 2. Perubahan Cuaca

Pembelajaran : 4

Pembuat LKPD : Rika Prima Santi K7120225

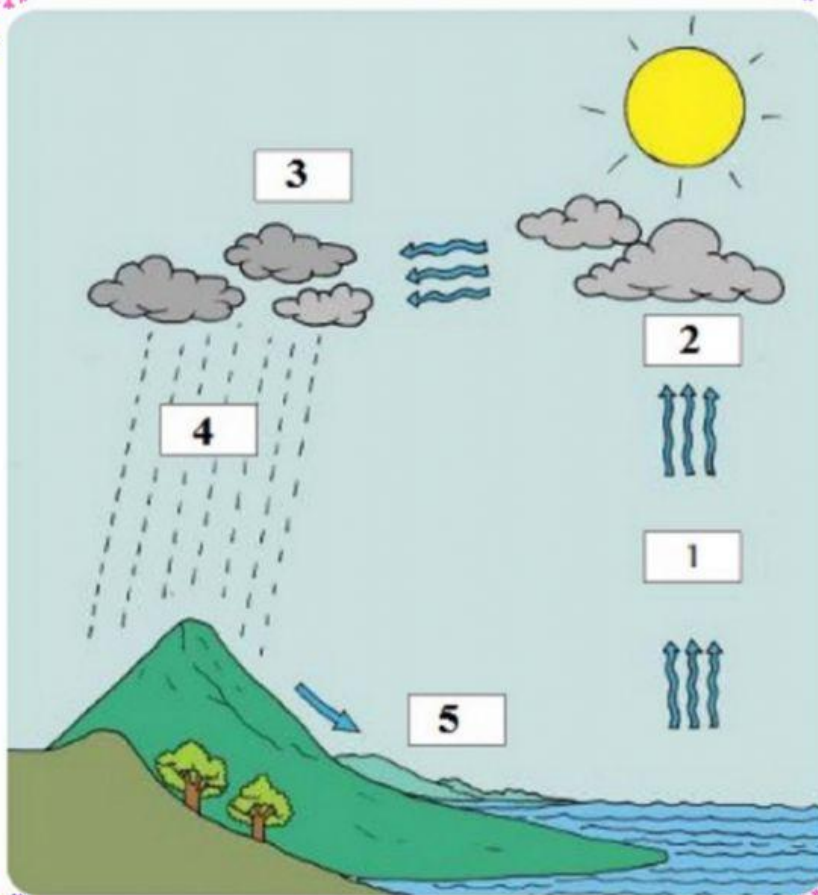
petunjuk pengerjaan :

1. Berdoalah terlebih dahulu.

2. Tuliskan nomor urut pada kotak pojok kanan atas.

3. Kemudian kerjakan soal di bawah ini dengan menarik jawaban pada kotak yang telah disediakan dan pasangkan pada nomor yang tepat.

4. Kerjakan dengan teliti dan tepat.



Air laut menguap
akibat panas matahari

Awan akan
menghasilkan titik-titik
air berupa hujan yang
turun di wilayah
daratan.

Gumpalan awan yang
mampat saat penuh
atau kondisi tertentu
akan terbawa angin.

Uap air laut berkumpul
menjadi gumpalan

Air hujan turun dan
mengalir ke tempat
yang lebih rendah
(sungai atau laut)

LEMBAR KERJA PESERTA DIDIK

SATUAN PENDIDIKAN : SD N
KELAS : 3
TEMA : 5. Cuaca
SUBTEMA : 1. Keadaan Cuaca
PEMBELAJARAN : 1

Pembuat LKPD : Rizal Talentiano (K7120230)

Petunjuk pengerjaan :

6. Berdoalaah terlebih dahulu.
7. Tuliskan nama dan nomor urut pada kota sebelah kanan atas.
8. Amati gambar tentang keadaan cuaca pada sebelah kiri.
9. Pasangkan gambar dengan nama keadaan cuaca yang sesuai yang ada di sebelah kanan.
10. Kerjakan dengan teliti dan cermat.

Nama :

Nomor Urut :



HUJAN

BERAWAN

MENDUNG

HUJAN PETIR

CERAH