









## PIKTOGRAMAK

1-5. mailako ikasleen artean jolasorduetan fruta jaten dutenen arteko zerrenda bat egin da. Hurrengo piktograman bakoitzak jaten duen fruta kantitatea dago irudikatuta.

Osatu taula bakoitzak guztira zenbat jaten duen jarriz eta galderak erantzun.

Ikaslea	Fruta kantitatea	Guztira
Amets		35
Leire		<input type="text"/>
Aitor		<input type="text"/>
Maite		<input type="text"/>
Miren		<input type="text"/>
Asier		<input type="text"/>
Nora		<input type="text"/>
Andoni		<input type="text"/>



-Nork jaten du fruta gehien?





-Eta gutxien?

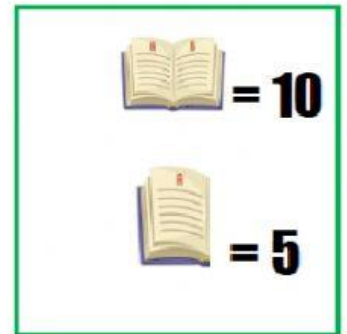
-Zenbat fruta jaten dute mutilen artean?

-Nork jaten du fruta gehiago denen artean, neskek ala mutilek?

2-Eskolako liburutegian lehenengo ebaluaketan liburu hauek mailegatu dira.

Osatu taula guztira zenbat mailegatu diren hilabete bakoitzean jarriz eta erantzun galderak.

Hilabeteak	Liburu kopurua	Guztira
Iraila		
Urria		70
Azaroa		65
Abendua		



-Zein hilabetetan mailegatu zen liburu gehien?

-Eta gutxien?

-Zenbat liburu mailegatu ziren ebaluaketa honetan guztira?

-Zenbat liburu gehiago mailegatu ziren Azaroan Abenduan baino?

-Irailean Urrian baino liburu gehiago ala gutxiago mailegatu ziren?